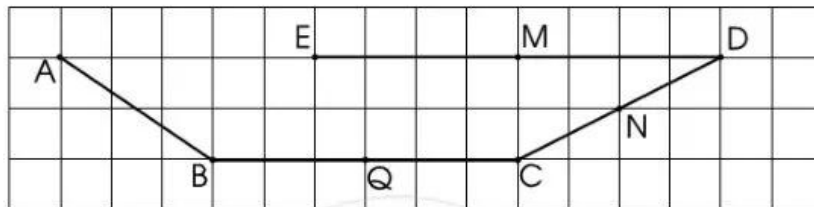


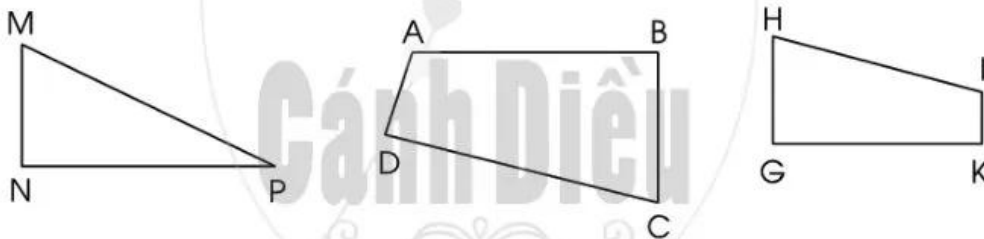
Bài 104 ÔN TẬP VỀ HÌNH HỌC VÀ ĐO LƯỜNG

1 Nêu tên trung điểm của các đoạn thẳng BC, CD và DE:



.....

2 Cho các hình sau:



a) Viết tên hình và các đỉnh, cạnh, góc có trong mỗi hình trên.

.....

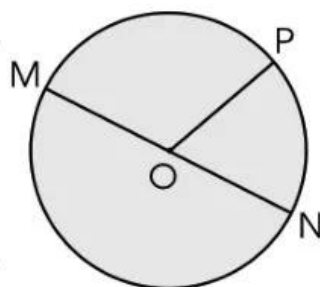
b) Dùng ê ke để kiểm tra trong mỗi hình trên có mấy góc vuông.

.....


3 Khoanh vào chữ đặt trước câu trả lời đúng.

Các bán kính của hình tròn bên là:

- A. OP, MN. B. OM, OP, MN.
C. OM, ON, OP. D. OM, ON, MN.



4 Nối mỗi đồng hồ với cách đọc tương ứng:



a) 3 giờ 5 phút

b) 4 giờ 15 phút

c) 7 giờ 20 phút

d) 9 giờ kém 15 phút

e) 10 giờ kém 10 phút

g) 12 giờ kém 5 phút



5 Khoanh vào chữ đặt trước đáp án đúng.



a) Khối hộp chữ nhật có:

- A. 16 đỉnh. B. 12 đỉnh. C. 8 đỉnh. D. 24 đỉnh.

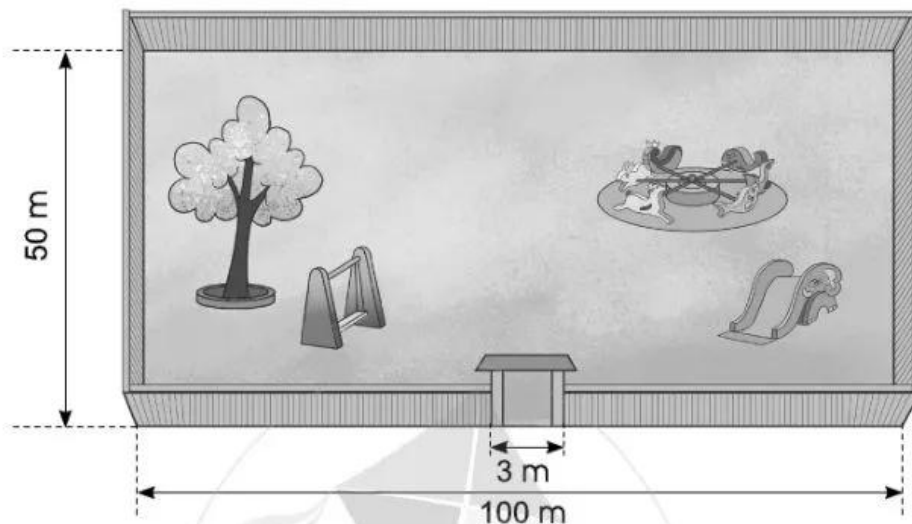
b) Khối lập phương có:

- A. 4 mặt. B. 6 mặt. C. 8 mặt. D. 12 mặt.

c) Khối hộp chữ nhật có:


- A. 16 cạnh. B. 24 cạnh. C. 8 cạnh. D. 12 cạnh.

- 6 Người ta muốn làm hàng rào quanh một cái sân hình chữ nhật có kích thước như hình vẽ sau:



Hỏi người ta cần phải rào bao nhiêu mét? Biết rằng phần để làm cổng rộng 3 m.

Bài giải



- 7 Minh Ánh bắt đầu tập đàn lúc 9 giờ kém 10 phút và tập trong 45 phút. Hỏi Minh Ánh tập đàn xong lúc mấy giờ?

Trả lời:



Bài 105 ÔN TẬP VỀ MỘT SỐ YẾU TỐ THỐNG KÊ VÀ XÁC SUẤT

- 1 Một cửa hàng kiểm đếm một số loại đồ uống giải khát đã bán trong ngày (tính theo cốc):

Đồ uống giải khát đã bán trong ngày

Nước mía	
Nước cam	
Nước dừa	

Quan sát bảng ghi chép trên và trả lời các câu hỏi:

- Cửa hàng đã bán được bao nhiêu cốc nước mía?






.....

- Đồ uống loại nào của hàng đã bán được 11 cốc?

.....

- 2 a) Quan sát biểu đồ tranh sau:

Số thùng sơn của hàng bán được trong một tuần

Màu trắng	
Màu xanh	
Màu vàng	
Màu đỏ	
Mỗi kí hiệu  biểu thị cho 3 thùng sơn.	