

Bài 105 ÔN TẬP VỀ MỘT SỐ YẾU TỐ THỐNG KÊ VÀ XÁC SUẤT

- 1 Một cửa hàng kiểm đếm một số loại đồ uống giải khát đã bán trong ngày (tính theo cốc):

Đồ uống giải khát đã bán trong ngày

Nước mía	
Nước cam	
Nước dừa	

Quan sát bảng ghi chép trên và trả lời các câu hỏi:

- Cửa hàng đã bán được bao nhiêu cốc nước mía?






.....

- Đồ uống loại nào của hàng đã bán được 11 cốc?

.....

- 2 a) Quan sát biểu đồ tranh sau:

Số thùng sơn của hàng bán được trong một tuần

Màu trắng	
Màu xanh	
Màu vàng	
Màu đỏ	
Mỗi kí hiệu  biểu thị cho 3 thùng sơn.	

b) Đọc biểu đồ ở câu a và trả lời các câu hỏi:

– Cửa hàng đã bán được bao nhiêu thùng sơn màu trắng?

.....

– Cửa hàng đã bán được 9 thùng sơn màu nào?

.....

– Cửa hàng đã bán được số lượng thùng sơn bằng nhau ở những màu nào?

.....

– Cửa hàng đã bán được tất cả bao nhiêu thùng sơn?

.....

3 Dưới đây là bảng số liệu thống kê số người đến khám răng tại một phòng khám nha khoa vào các ngày trong một tuần:



Số người đến khám răng trong một tuần

Ngày	Thứ Hai	Thứ Ba	Thứ Tư	Thứ Năm	Thứ Sáu	Thứ Bảy	Chủ nhật
Số người	7	5	3	2	6	8	14

Đọc bảng ở trang trước và trả lời các câu hỏi:

a) Có bao nhiêu người đến khám răng trong ngày thứ Hai?

.....

b) Số người đến khám răng trong ngày Chủ nhật nhiều hơn trong ngày thứ Hai là bao nhiêu người?

.....


c) Ngày nào chỉ có 2 người đến khám răng?

.....

d) Có bao nhiêu người đến khám răng trong cả tuần?

.....

4 Trộn các thẻ sau lại với nhau và rút ra một cách ngẫu nhiên một thẻ. Sử dụng các từ “chắc chắn”, “có thể”, “không thể” để mô tả cho khả năng rút ra được chiếc thẻ có hình chú thỏ.



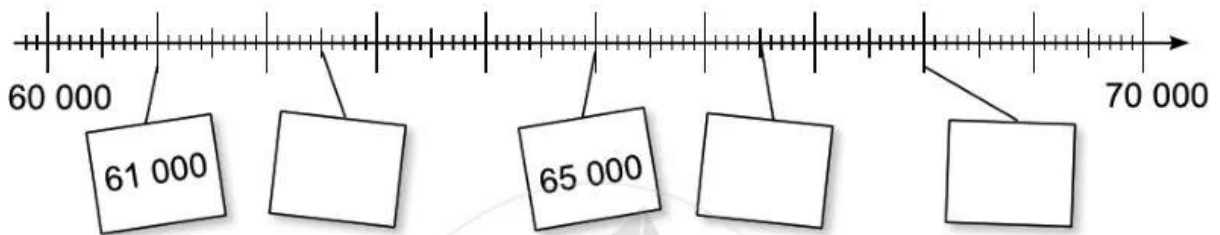
Trả lời:

.....

.....

Bài 106 ÔN TẬP CHUNG

1 a) Số ?



b) Làm tròn số 62 000 đến hàng chục nghìn, ta được số

c) Sắp xếp các số 15 896, 15 968, 15 986, 15 698 theo thứ tự từ bé đến lớn:

2 Đặt tính rồi tính:



$$39\ 178 + 17\ 416$$

$$86\ 293 - 4\ 538$$

.....

$$41\ 924 \times 2$$

$$35\ 920 : 5$$

.....

