

# Bài 65 LUYỆN TẬP

1 **>**  
**<**  
**=** ?

6 378 ○ 53 127

24 619 ○ 24 619

45 909 ○ 42 093

77 115 ○ 74 810

89 127 ○ 89 413

93 017 ○ 93 054

2 Đúng ghi Đ, sai ghi S vào ô trống:

a)  $43\ 000 > 38\ 000$

b)  $4\ 326 < 4\ 321$

c)  $24\ 387 > 24\ 598$

d)  $12\ 025 > 12\ 018$

3 Cho các số sau:



a) Số lớn nhất là: .....

b) Số bé nhất là: .....

c) Sắp xếp các số trên theo thứ tự từ lớn đến bé là:

.....; .....; .....; .....

4 Số ?

a) 

13 500	23 500			53 500	
--------	--------	--	--	--------	--

b) 

2 607	3 607			6 607	
-------	-------	--	--	-------	--


c) 

5 480		5 680		5 880	
-------	--	-------	--	-------	--

d) 

7 929	7 939				7 979
-------	-------	--	--	--	-------

**5** Khoanh vào chữ đặt dưới hình vẽ có nhiều dây chun nhất:



A. 2 009 dây

B. 950 dây

C. 2 030 dây

D. 1 230 dây

**6** Dưới đây là thông tin về chiều dài một số cây cầu ở Việt Nam.



Cầu Cần Thơ nối liền thành phố Cần Thơ với tỉnh Vĩnh Long dài: 2 750 m



Cầu Nhật Tân ở thành phố Hà Nội dài: 3 900 m



Cầu Long Biên ở thành phố Hà Nội dài: 2 290 m



Cầu Bạch Đằng nối hai tỉnh Quảng Ninh và Hải Phòng dài: 3 054 m

(Nguồn: <https://vi.wikipedia.org>)

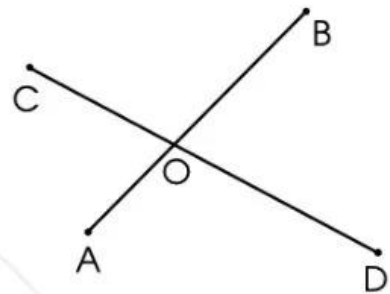
Tên các cây cầu trên theo thứ tự từ ngắn nhất đến dài nhất là:

.....; .....; .....; .....

# Bài 66

## ĐIỂM Ở GIỮA. TRUNG ĐIỂM CỦA ĐOẠN THẲNG

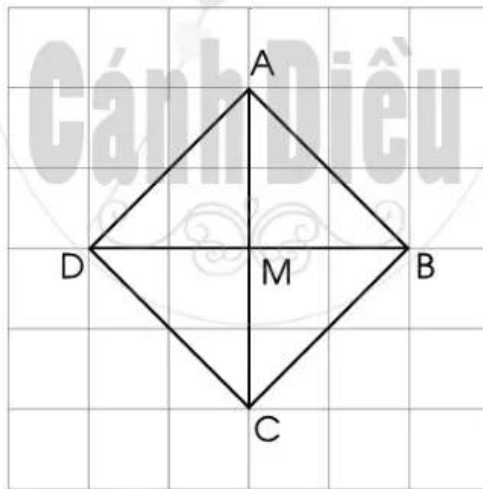
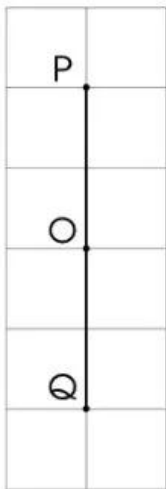
1 Quan sát các hình sau và viết tên điểm ở giữa hai điểm khác:



.....

.....

2 Viết tên trung điểm của mỗi đoạn thẳng có trong hình dưới đây:



.....

.....