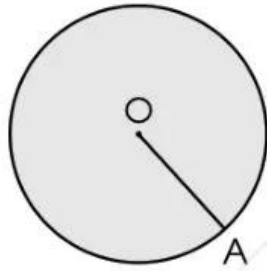


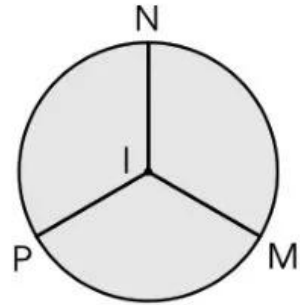
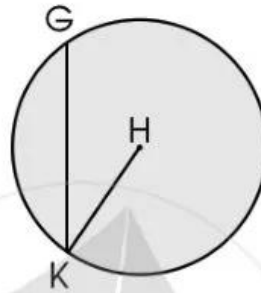
Bài 67

HÌNH TRÒN, TÂM, ĐƯỜNG KÍNH, BÁN KÍNH

1 a) Viết tên hình tròn và các bán kính của mỗi hình sau (theo mẫu):

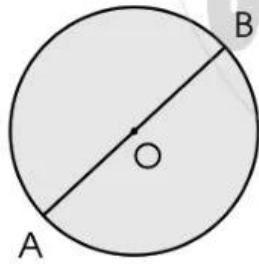


Mẫu: Hình tròn tâm O,
bán kính OA.

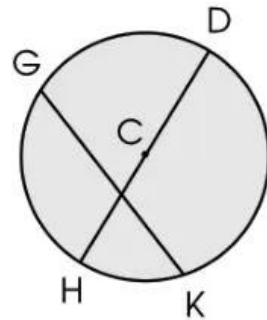
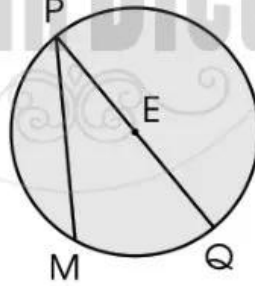


.....
.....
.....

b) Viết tên hình tròn và đường kính của mỗi hình sau (theo mẫu):



Mẫu: Hình tròn tâm O,
đường kính AB.



.....
.....
.....

- 2) a) Cho hình tròn tâm O có độ dài đường kính bằng 8 cm. Tính độ dài bán kính của hình tròn đó.

.....

- b) Cho hình tròn tâm O có độ dài bán kính bằng 5 cm. Tính độ dài đường kính của hình tròn đó.

.....

- 3) **Thực hành:** Xác định tâm của một hình tròn.



- 4) Theo em, đường kính của mỗi bánh xe trong hình dưới đây là bao nhiêu xăng-ti-mét?



Trả lời:

.....

Bài 68 VẼ TRANG TRÍ HÌNH TRÒN

1 a) Quan sát chiếc compa của em rồi chia sẻ với bạn cách sử dụng.

Trả lời:

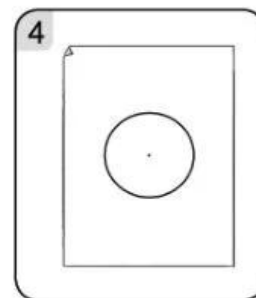
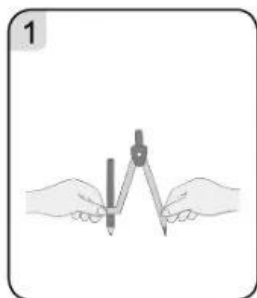
.....

.....

.....



b) **Thực hành:** Sử dụng compa để vẽ đường tròn (theo mẫu).



c) Hãy dùng compa của em vẽ một đường tròn: