

Bài 68 VẼ TRANG TRÍ HÌNH TRÒN

1 a) Quan sát chiếc compa của em rồi chia sẻ với bạn cách sử dụng.

Trả lời:

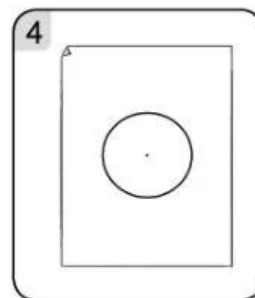
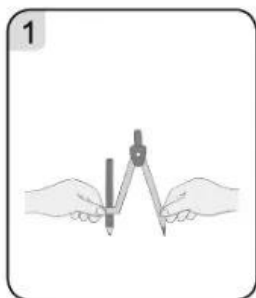
.....

.....

.....



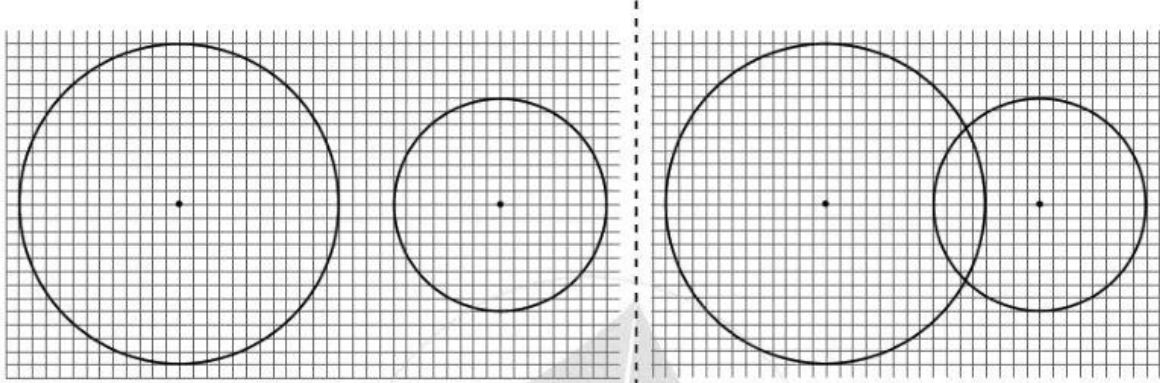
b) **Thực hành:** Sử dụng compa để vẽ đường tròn (theo mẫu).



c) Hãy dùng compa của em vẽ một đường tròn:

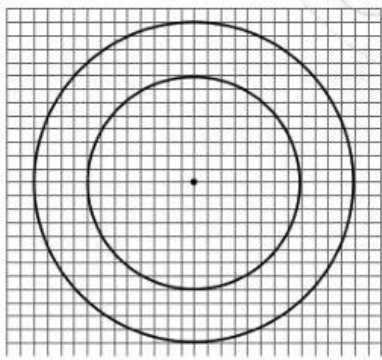

2 Quan sát mỗi hình mẫu dưới đây và thực hiện các yêu cầu:

- Nêu cách vẽ hình.
- Thực hành vẽ hình (theo mẫu).




Hình 1

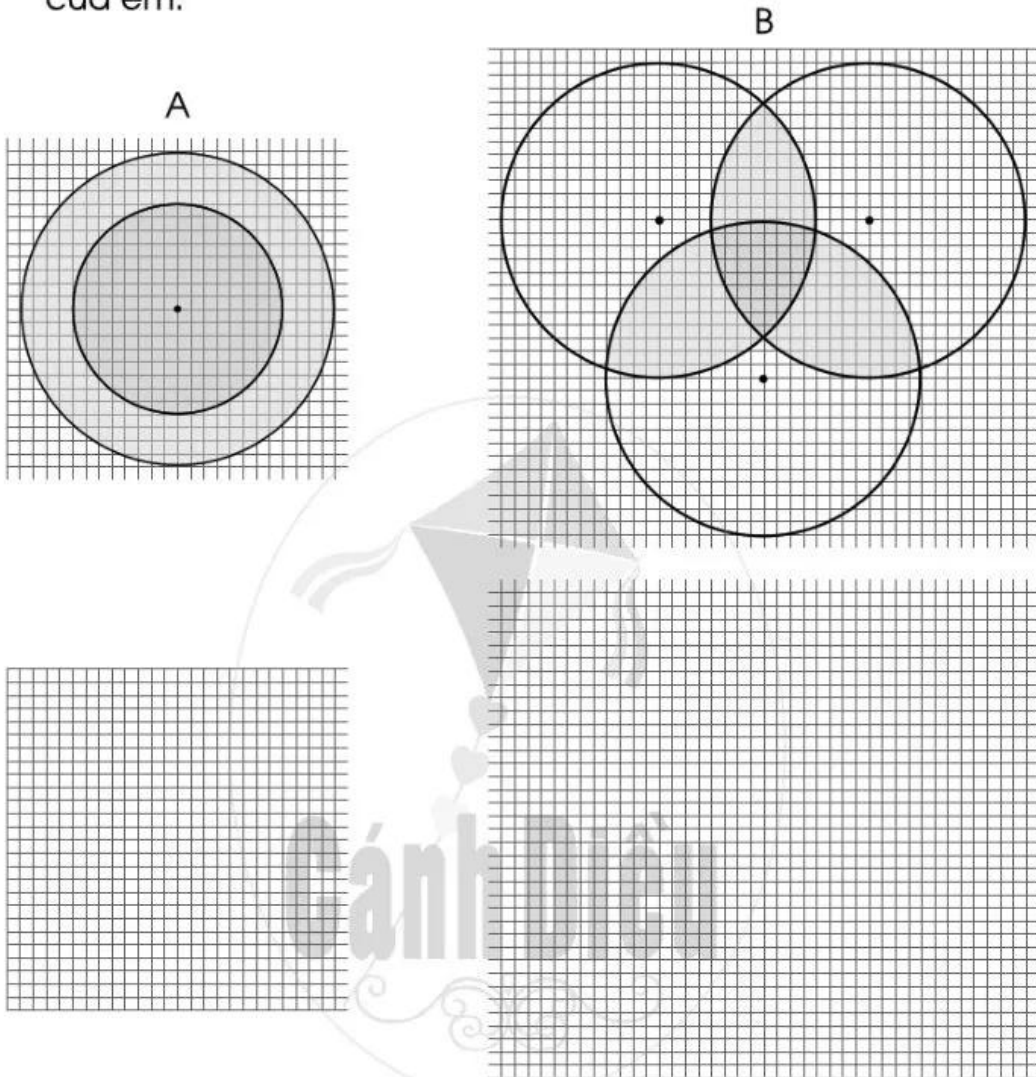
Hình 2




Hình 3



- 3 a) Vẽ trang trí như các hình dưới đây và tô màu theo ý thích của em:



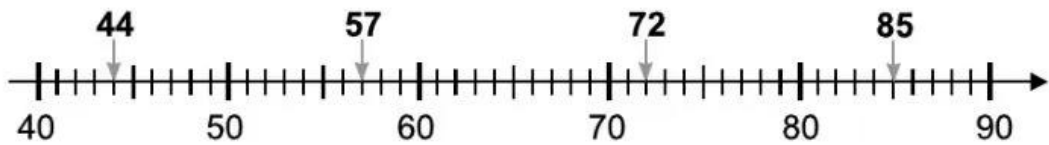
- b) Vẽ các đường tròn và trang trí theo ý thích của em.



Bài 69

LÀM TRÒN SỐ ĐẾN HÀNG CHỤC, HÀNG TRĂM

1 Quan sát tia số sau rồi làm tròn các số 44, 57, 72, 85 đến hàng chục:



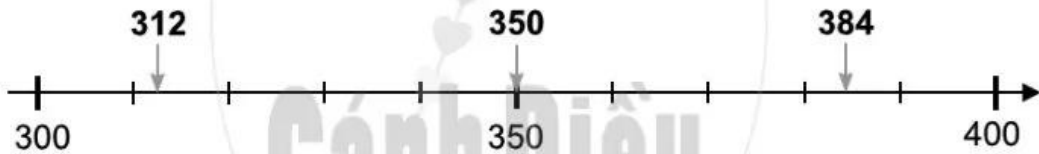
Làm tròn số 44 đến hàng chục, ta được số

Làm tròn số 57 đến hàng chục, ta được số

Làm tròn số 72 đến hàng chục, ta được số

Làm tròn số 85 đến hàng chục, ta được số

2 Quan sát tia số sau rồi làm tròn các số 312, 350, 384 đến hàng trăm:

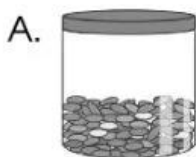


Làm tròn số 312 đến hàng trăm, ta được số

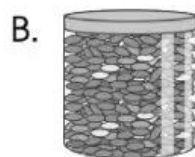
Làm tròn số 350 đến hàng trăm, ta được số

Làm tròn số 384 đến hàng trăm, ta được số

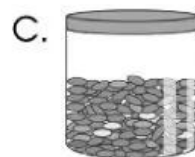
3 Đức muốn chọn một hộp kẹo có khoảng 200 viên. Theo em, Đức nên chọn hộp kẹo nào? Em hãy khoanh vào chữ đặt trước hộp kẹo đó.



219



500



290



146