

Bài 69

LÀM TRÒN SỐ ĐẾN HÀNG CHỤC, HÀNG TRĂM

1 Quan sát tia số sau rồi làm tròn các số 44, 57, 72, 85 đến hàng chục:



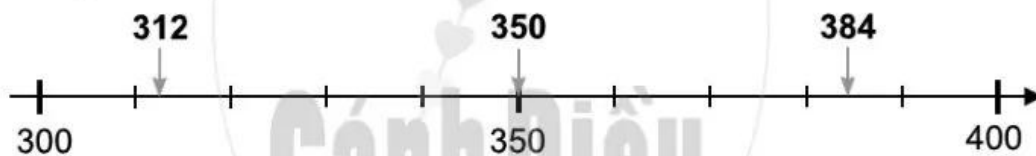
Làm tròn số 44 đến hàng chục, ta được số

Làm tròn số 57 đến hàng chục, ta được số

Làm tròn số 72 đến hàng chục, ta được số

Làm tròn số 85 đến hàng chục, ta được số

2 Quan sát tia số sau rồi làm tròn các số 312, 350, 384 đến hàng trăm:

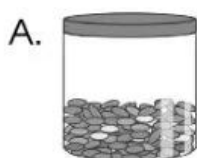


Làm tròn số 312 đến hàng trăm, ta được số

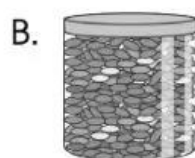
Làm tròn số 350 đến hàng trăm, ta được số

Làm tròn số 384 đến hàng trăm, ta được số

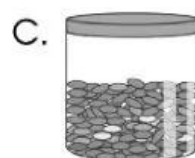
3 Đức muốn chọn một hộp kẹo có khoảng 200 viên. Theo em, Đức nên chọn hộp kẹo nào? Em hãy khoanh vào chữ đặt trước hộp kẹo đó.



219



500



290

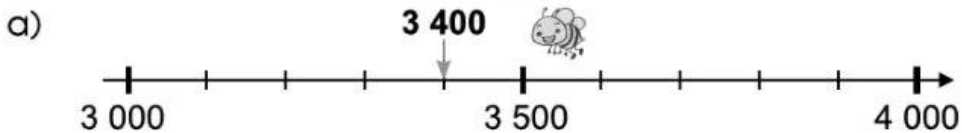


146

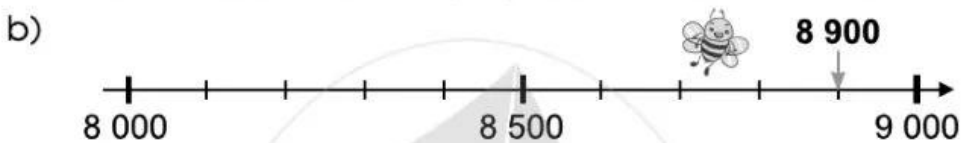
Bài 70

LÀM TRÒN SỐ ĐẾN HÀNG NGHÌN, HÀNG CHỤC NGHÌN

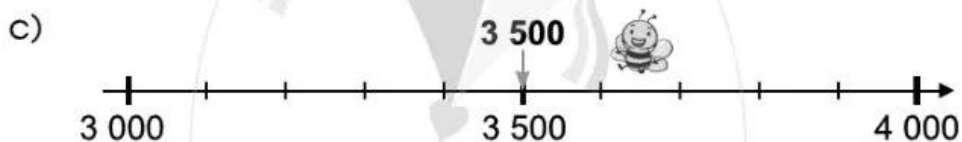
1) Làm tròn các số sau đến hàng nghìn:



Làm tròn số 3 400 đến hàng nghìn, ta được số



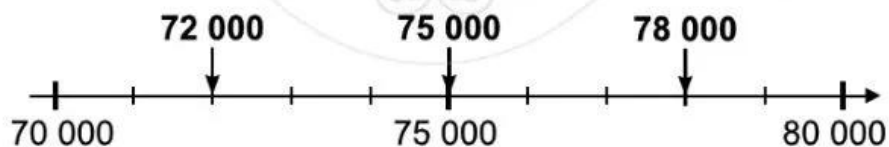
Làm tròn số 8 900 đến hàng nghìn, ta được số



Làm tròn số 3 500 đến hàng nghìn, ta được số

2) Làm tròn các số sau đến hàng chục nghìn (theo mẫu):

Mẫu: Làm tròn các số 72 000, 78 000, 75 000 đến hàng chục nghìn



- Ta thấy: Số 72 000 gần với số 70 000 hơn số 80 000.
Vậy: Khi làm tròn số **72 000** đến hàng chục nghìn, ta được số **70 000**.
- Ta thấy: Số 78 000 gần với số 80 000 hơn số 70 000.
Vậy: Khi làm tròn số **78 000** đến hàng chục nghìn, ta được số **80 000**.
- Ta thấy: Số 75 000 cách đều hai số 70 000 và 80 000.
Quy ước: Khi làm tròn số **75 000** đến hàng chục nghìn, ta được số **80 000**.