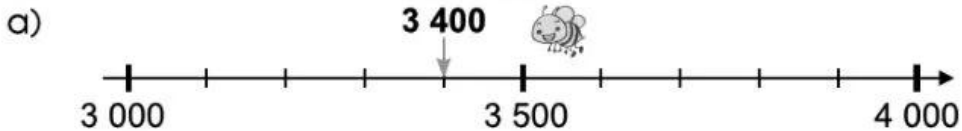


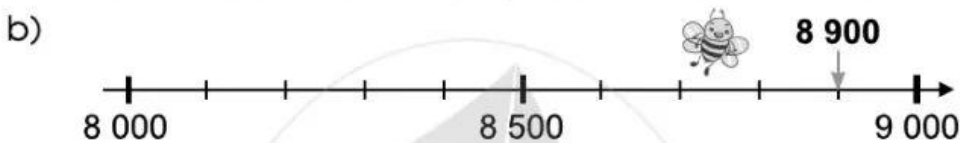
Bài 70

LÀM TRÒN SỐ ĐẾN HÀNG NGHÌN, HÀNG CHỤC NGHÌN

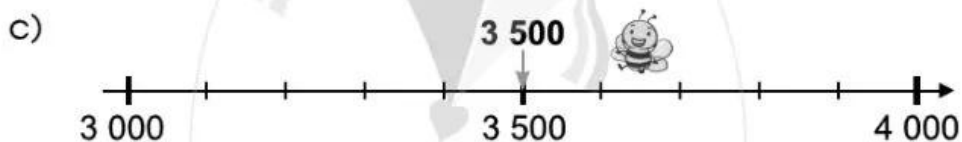
1) Làm tròn các số sau đến hàng nghìn:



Làm tròn số 3 400 đến hàng nghìn, ta được số



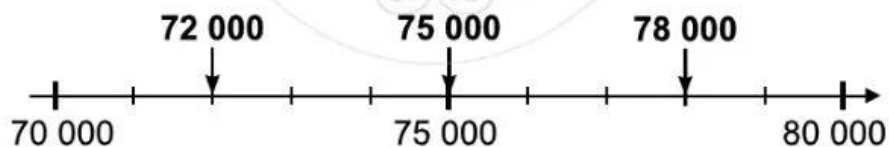
Làm tròn số 8 900 đến hàng nghìn, ta được số



Làm tròn số 3 500 đến hàng nghìn, ta được số

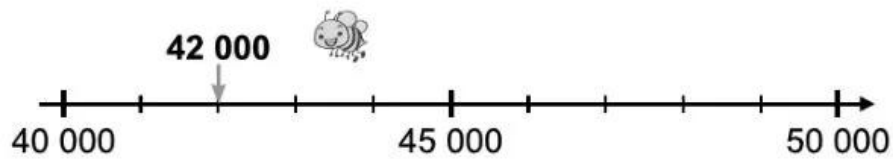
2) Làm tròn các số sau đến hàng chục nghìn (theo mẫu):

Mẫu: Làm tròn các số 72 000, 78 000, 75 000 đến hàng chục nghìn



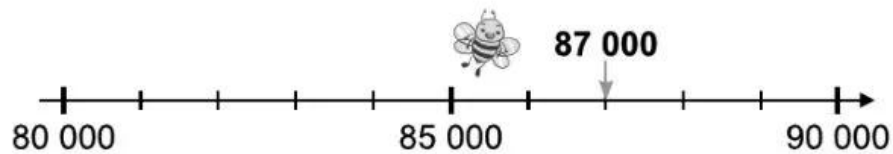
- Ta thấy: Số 72 000 gần với số 70 000 hơn số 80 000.
Vậy: Khi làm tròn số **72 000** đến hàng chục nghìn, ta được số **70 000**.
- Ta thấy: Số 78 000 gần với số 80 000 hơn số 70 000.
Vậy: Khi làm tròn số **78 000** đến hàng chục nghìn, ta được số **80 000**.
- Ta thấy: Số 75 000 cách đều hai số 70 000 và 80 000.
Quy ước: Khi làm tròn số **75 000** đến hàng chục nghìn, ta được số **80 000**.

a)



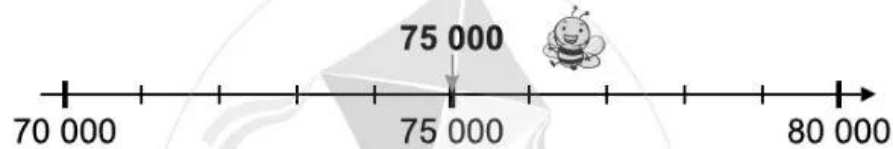
Làm tròn số 42 000 đến hàng chục nghìn, ta được số

b)



Làm tròn số 87 000 đến hàng chục nghìn, ta được số

c)



Làm tròn số 75 000 đến hàng chục nghìn, ta được số

3 Viết số thích hợp vào chỗ chấm:

a) Làm tròn số 1 234 đến hàng chục,
ta được số

b) Làm tròn số 1 234 đến hàng trăm,
ta được số

c) Làm tròn số 1 234 đến hàng nghìn,
ta được số



4 Khoanh vào chữ đặt trước câu trả lời đúng.

a) Làm tròn số 5 490 đến hàng nghìn, ta được số:

- A. 6 000. B. 5 500. C. 5 000. D. 5 400.

b) Làm tròn số 9 628 đến hàng trăm, ta được số:

- A. 9 630. B. 9 620. C. 9 700. D. 9 600.

5 Quan sát bảng sau rồi điền số thích hợp vào chỗ chấm (theo mẫu):

Quãng đường	Chiều dài
Hà Nội – Lào Cai	286 km
Hà Nội – Lạng Sơn	154 km
Hà Nội – Hà Nam	63 km
Thành phố Hồ Chí Minh – Long An	47 km
Thành phố Hồ Chí Minh – An Giang	244 km
Thành phố Hồ Chí Minh – Kiên Giang	248 km

Mẫu: Quãng đường từ Hà Nội đến Lào Cai dài khoảng 290 km.

- a) Quãng đường từ Hà Nội đến Lạng Sơn dài khoảng km.
- b) Quãng đường từ Hà Nội đến Hà Nam dài khoảng km.
- c) Quãng đường từ Thành phố Hồ Chí Minh đến Long An dài khoảng km.
- d) Quãng đường từ Thành phố Hồ Chí Minh đến An Giang dài khoảng km.
- e) Quãng đường từ Thành phố Hồ Chí Minh đến Kiên Giang dài khoảng km.

6 Hiện nay, Việt Nam đã có những chuyến bay thẳng từ Thủ đô Hà Nội đến nhiều thủ đô của các quốc gia khác.

Để bay thẳng từ Thủ đô Hà Nội đến Thủ đô Pa-ri của nước Pháp, máy bay phải vượt qua quãng đường dài khoảng 9 190 km. Em hãy làm tròn độ dài quãng đường này đến hàng nghìn.

Trả lời:

.....

Bài 71 LUYỆN TẬP CHUNG

1 a) Đọc các số sau:

1 879:

6 500:

43 001:

96 075:

47 293:

b) Viết số thích hợp vào chỗ chấm:

Đọc số	Viết số
Hai nghìn bảy trăm sáu mươi lăm
Bảy mươi sáu nghìn hai trăm bốn mươi tám
Chín mươi chín nghìn
Ba mươi sáu nghìn không trăm bốn mươi tư

c) Viết các số ở câu b thành tổng của chục nghìn, nghìn, trăm, chục, đơn vị (theo mẫu):

Mẫu: $2\ 765 = 2\ 000 + 700 + 60 + 5$

.....

2 Số ?

