

# Bài 72

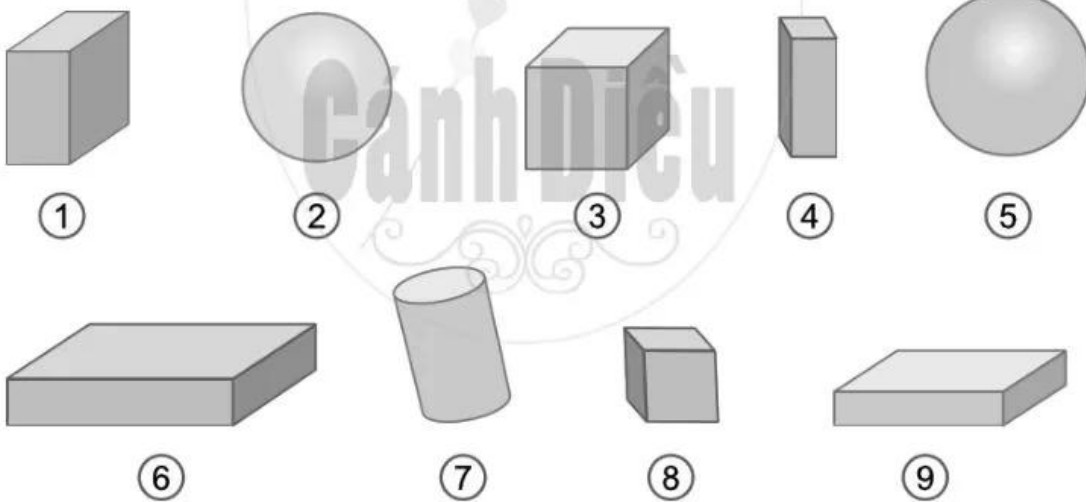
## KHỐI HỘP CHỮ NHẬT. KHỐI LẬP PHƯƠNG

1 a) Lấy ra từ bộ đồ dùng học Toán một khối hộp chữ nhật và một khối lập phương rồi chỉ ra các đỉnh, cạnh, mặt của mỗi khối hình đó.

b) Viết số thích hợp vào ô trống trong bảng dưới đây:

	Số đỉnh	Số cạnh	Số mặt
Khối hộp chữ nhật			
Khối lập phương			

2 Quan sát hình vẽ, viết tiếp vào chỗ chấm cho thích hợp:



a) Hình trên có ..... khối hộp chữ nhật, có ..... khối lập phương.

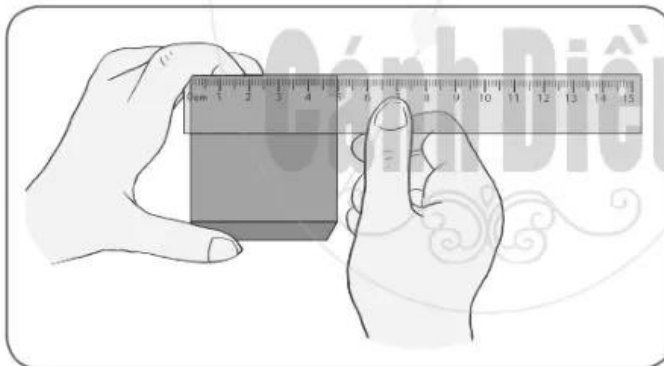
b) Những hình có 6 mặt đều là hình vuông là hình số: .....

c) Những hình có 12 cạnh là hình số:.....

### 3 Trò chơi “Đoán hình”



4 Bạn Nguyễn nói rằng: “Chỉ cần đo độ dài 1 cạnh của chiếc hộp có dạng khối lập phương thì có thể biết được độ dài của tất cả các cạnh còn lại của chiếc hộp”. Em có đồng ý với bạn Nguyễn không? Tại sao?




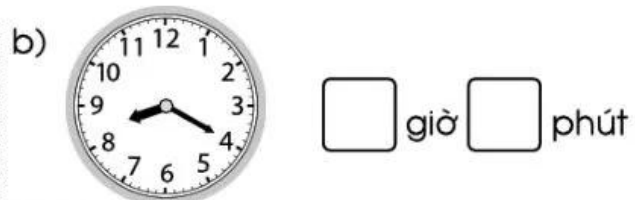
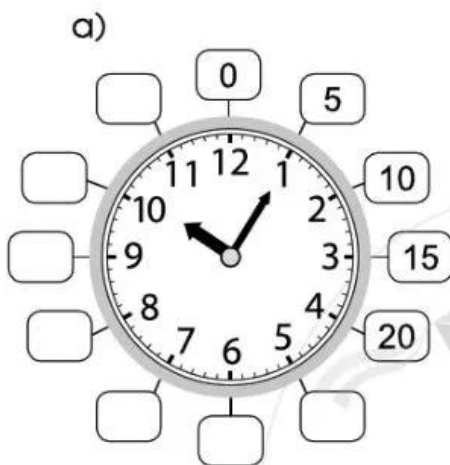
Trả lời: .....

.....

.....

# Bài 73 THỰC HÀNH XEM ĐỒNG HỒ

## 1 Số ?



## 2 Viết vào chỗ chấm cho thích hợp:

a) Đồng hồ chỉ mấy giờ?



Từ 6 giờ 5 phút đến 6 giờ 10 phút là ..... phút.

b) Từ 11 giờ 25 phút đến 11 giờ 35 phút là ..... phút.