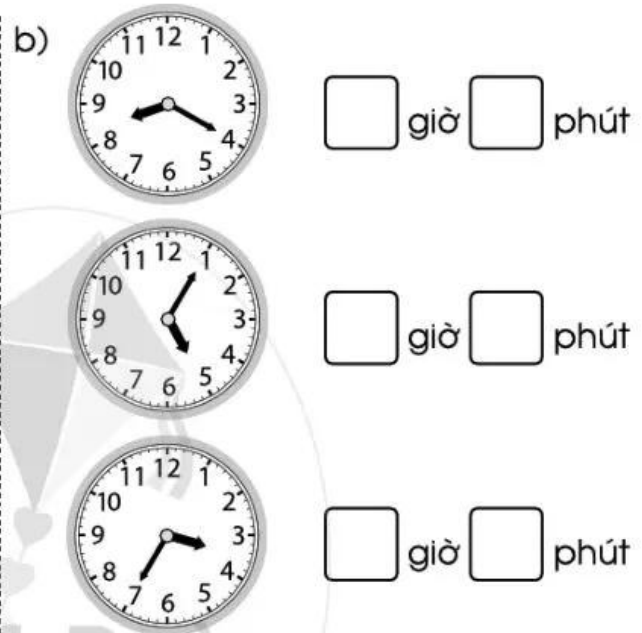
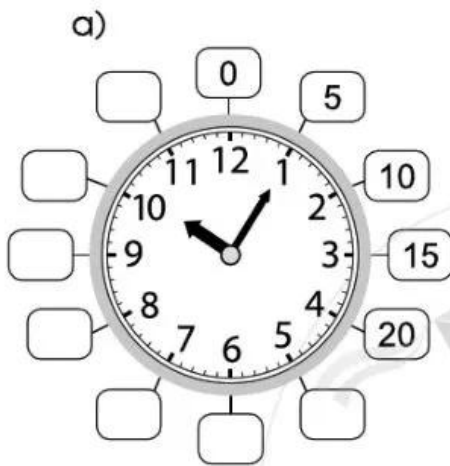


# Bài 73 THỰC HÀNH XEM ĐỒNG HỒ

## 1 Số ?



## 2 Viết vào chỗ chấm cho thích hợp:

a) Đồng hồ chỉ mấy giờ?



Từ 6 giờ 5 phút đến 6 giờ 10 phút là ..... phút.

b) Từ 11 giờ 25 phút đến 11 giờ 35 phút là ..... phút.

**3** Xem đồng hồ và đọc giờ (theo mẫu):

**Mẫu:**

		
4 giờ 35 phút hoặc 5 giờ kém 25 phút	5 giờ 50 phút hoặc 6 giờ kém 10 phút	12 giờ 55 phút hoặc 1 giờ kém 5 phút



.....  
.....

.....  
.....

.....  
.....


**4** a) Nối mỗi đồng hồ sau với cách đọc tương ứng:



a) 4 giờ 10 phút



b) 7 giờ 25 phút



c) 12 giờ 15 phút

d) 8 giờ kém 10 phút

e) 11 giờ kém 15 phút



g) 10 giờ kém 5 phút

b) Xem đồng hồ và đọc giờ:



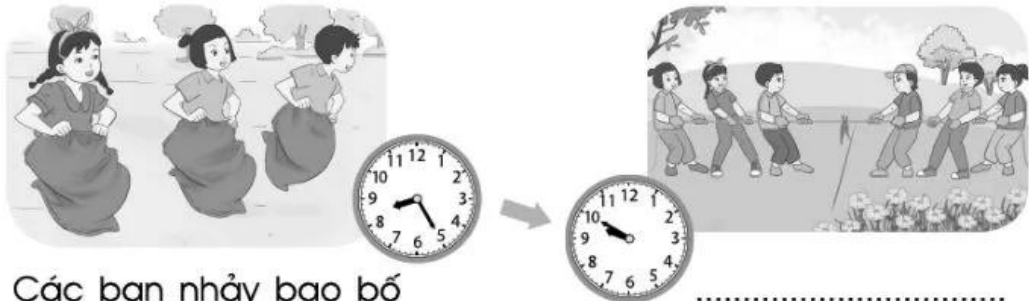
.....

.....


.....

5 a) Viết hoạt động và thời gian diễn ra hoạt động ở mỗi bức tranh sau (theo mẫu):

**Mẫu:**



Các bạn nhảy bao bố  
lúc 8 giờ 25 phút.



b) Bạn Nam muốn ghi lại thời gian tương ứng với mỗi hoạt động ở câu a, em hãy chỉ dẫn giúp bạn Nam bằng cách viết vào chỗ chấm:

Thời gian	Hoạt động
8 giờ 25 phút	Nhảy bao bố
.....	Chơi kéo co
.....	Ăn trưa
.....	Chơi ô ăn quan
.....	Truy tìm kho báu



# Bài 74

## THỰC HÀNH XEM ĐỒNG HỒ (tiếp theo)

1 Mỗi đồng hồ sau chỉ mấy giờ?



2 Nối mỗi đồng hồ sau với cách đọc tương ứng:



a) 2 giờ 7 phút

b) 11 giờ rưỡi

c) 7 giờ 22 phút

d) 9 giờ kém 8 phút

e) 12 giờ 35 phút

g) 10 giờ kém 15 phút

