

Bài 74

THỰC HÀNH XEM ĐỒNG HỒ (tiếp theo)

1 Mỗi đồng hồ sau chỉ mấy giờ?



2 Nối mỗi đồng hồ sau với cách đọc tương ứng:



a) 2 giờ 7 phút

b) 11 giờ rưỡi

c) 7 giờ 22 phút













d) 9 giờ kém 8 phút

e) 12 giờ 35 phút

g) 10 giờ kém 15 phút







3 Nối hai đồng hồ chỉ cùng thời gian vào buổi chiều hoặc buổi tối:

A		 H	 D
		 I	
B		 K	 E
		 L	
C		 M	 G
		 N	


4 Quan sát tranh vẽ rồi trả lời các câu hỏi:

a) Lan vẽ tranh trong thời gian bao nhiêu phút?

Trả lời:

b) Hai bố con đã làm bánh trong thời gian bao nhiêu phút?




Trả lời:

5 Trò chơi “Đố bạn”

Kim phút đang chỉ vào số 7.
Đố bạn sau 10 phút nữa kim
phút chỉ vào số mấy?

Kim phút chỉ vào số 9.



Viết số em vừa đố bạn vào chỗ chấm:

Kim phút đang chỉ vào số, sau 10 phút nữa kim phút chỉ vào số

Bài 75 THÁNG – NĂM

1) **Viết tiếp vào chỗ chấm cho thích hợp:**

a) Bây giờ đang là tháng Tháng này có ngày.

b) Những tháng trong năm có 30 ngày là:

.....

c) Những tháng trong năm có 31 ngày là:

.....

2) **Xem hai tờ lịch sau và viết tiếp vào chỗ chấm cho thích hợp:**

Tháng 11						
Thứ Hai	Thứ Ba	Thứ Tư	Thứ Năm	Thứ Sáu	Thứ Bảy	Chủ nhật
		1	2	3	4	5
6	7	8	9	10	11	12
13	14	15	16	17	18	19
20	21	22	23	24	25	26
27	28	29	30			

Tháng 12						
Thứ Hai	Thứ Ba	Thứ Tư	Thứ Năm	Thứ Sáu	Thứ Bảy	Chủ nhật
				1	2	3
4	5	6	7	8	9	10
11	12	13	14	15	16	17
18	19	20	21	22	23	24
25	26	27	28	29	30	31

a) Tháng 11 có ngày. Tháng 12 có ngày.

b) Ngày 20 tháng 11 là thứ:

c) Ngày cuối cùng của tháng 12 là thứ:

d) Các ngày Chủ nhật của tháng 12 là những ngày:

.....