

Bài 76 EM ÔN LẠI NHỮNG GÌ ĐÃ HỌC

1 a) Đọc mỗi số sau (theo mẫu):

- Chín mươi ba nghìn sáu trăm.
- Số 93 600 gồm 9 chục nghìn 3 nghìn 6 trăm.



93 600

96 821:

.....

.....

.....

95 070:

.....

.....

.....

95 031:

.....

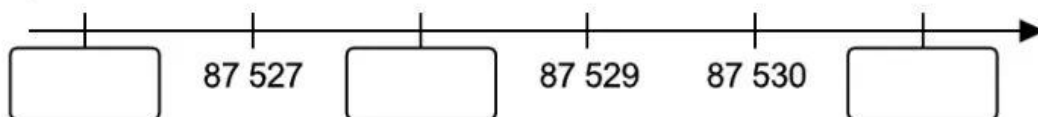
92 643:

.....

b) Trong các số ở câu a, số bé nhất là:; số lớn nhất là:

2 Số ?

a)



b)



3) Làm tròn giá bán mỗi quyển sách sau đến hàng nghìn:



54 200 đồng



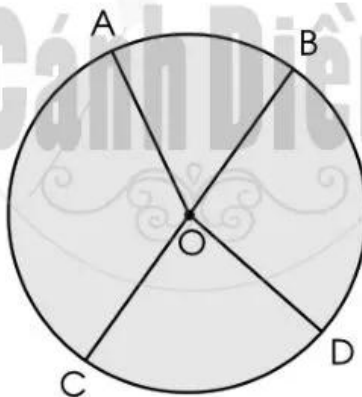
47 800 đồng



26 250 đồng

.....
.....
.....

4) a) Viết tâm, đường kính, bán kính của hình tròn sau:



.....

b) Khoanh vào chữ đặt trước câu đúng.

Trong hình tròn trên:

A. O là trung điểm của BC.

B. O là trung điểm của AD.

5 a) Mỗi đồng hồ sau chỉ mấy giờ?



.....

.....

.....

.....

b) Khoanh vào chữ đặt trước câu trả lời đúng.

Ngày 30 tháng 8 là thứ Ba thì ngày 2 tháng 9 cùng năm đó là:

A. Thứ Tư.

B. Thứ Năm.

C. Thứ Sáu.

D. Thứ Bảy.

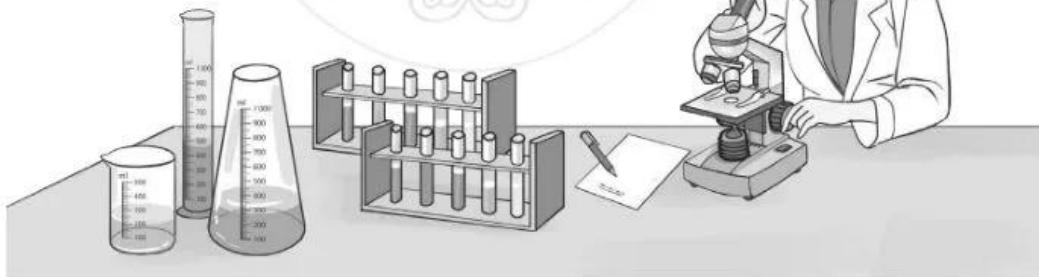
6 Quan sát tranh, trả lời câu hỏi:



Bắt đầu



Kết thúc



Chị Huyền bắt đầu làm việc lúc mấy giờ và kết thúc lúc mấy giờ?

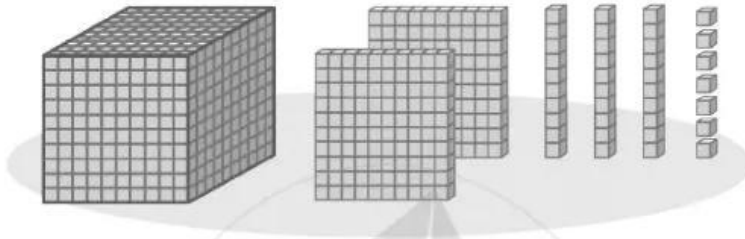
Trả lời:

.....

Bài 77 BÀI KIỂM TRA SỐ 3

1 Khoanh vào chữ đặt trước câu trả lời đúng.

a)



Hình trên có số khối lập phương là:

- A. 2 137. B. 1 237. C. 2 317. D. 2 713.

b) Số 38 407 được viết thành tổng các chục nghìn, nghìn, trăm, chục, đơn vị là:

- A. $30\ 000 + 8\ 000 + 400 + 70$. B. $30\ 000 + 8\ 000 + 400 + 7$.
C. $30\ 000 + 8\ 000 + 40 + 7$. D. $3\ 000 + 800 + 40 + 7$.

c) Số lớn nhất trong các số 4 791, 4 971, 4 197, 4 179 là:

- A. 4 791. B. 4 197. C. 4 971. D. 4 179.

d) Số 3 737 làm tròn đến hàng chục là:

- A. 3 740. B. 3 800. C. 3 730. D. 4 000.

e) Bán kính của hình tròn sau là:

- A. OB.
B. OK.
C. CD.
D. OM.

