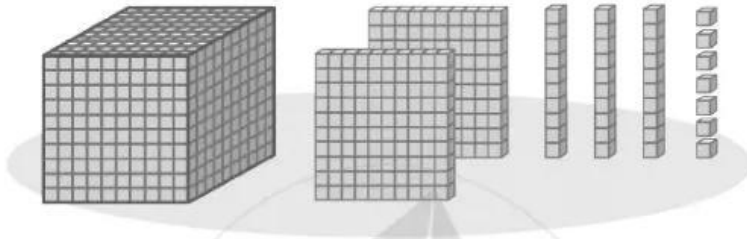


Bài 77 BÀI KIỂM TRA SỐ 3

1 Khoanh vào chữ đặt trước câu trả lời đúng.

a)



Hình trên có số khối lập phương là:

- A. 2 137. B. 1 237. C. 2 317. D. 2 713.

b) Số 38 407 được viết thành tổng các chục nghìn, nghìn, trăm, chục, đơn vị là:

- A. $30\ 000 + 8\ 000 + 400 + 70$. B. $30\ 000 + 8\ 000 + 400 + 7$.
C. $30\ 000 + 8\ 000 + 40 + 7$. D. $3\ 000 + 800 + 40 + 7$.

c) Số lớn nhất trong các số 4 791, 4 971, 4 197, 4 179 là:

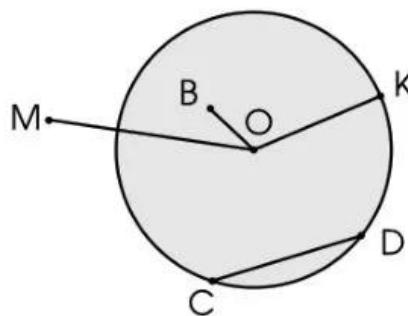
- A. 4 791. B. 4 197. C. 4 971. D. 4 179.

d) Số 3 737 làm tròn đến hàng chục là:

- A. 3 740. B. 3 800. C. 3 730. D. 4 000.

e) Bán kính của hình tròn sau là:

- A. OB.
B. OK.
C. CD.
D. OM.




g)



Đồng hồ chỉ cùng giờ với đồng hồ trên là:



2 Trên mỗi mặt của khối lập phương bằng gỗ, người ta đã khoét ra một khối lập phương nhỏ (xem hình bên). Hỏi người ta đã khoét ra được tất cả mấy khối gỗ lập phương nhỏ?



Trả lời:

3 Nghỉ hè, Châu về quê thăm ông bà từ ngày 15 tháng 7 đến ngày 18 tháng 8. Hỏi Châu đã về quê thăm ông bà mấy tuần?

Tháng 7						
Thứ Hai	Thứ Ba	Thứ Tư	Thứ Năm	Thứ Sáu	Thứ Bảy	Chủ nhật
					1	2
3	4	5	6	7	8	9
10	11	12	13	14	15	16
17	18	19	20	21	22	23
24	25	26	27	28	29	30
31						

Tháng 8						
Thứ Hai	Thứ Ba	Thứ Tư	Thứ Năm	Thứ Sáu	Thứ Bảy	Chủ nhật
	1	2	3	4	5	6
7	8	9	10	11	12	13
14	15	16	17	18	19	20
21	22	23	24	25	26	27
28	29	30	31			

Khoanh vào chữ đặt trước câu trả lời đúng:

- A. 4 B. 5 C. 6 D. 7

Bài 78 PHÉP CỘNG TRONG PHẠM VI 100 000

1 Tính:

$\begin{array}{r} 6\ 537 \\ + 2\ 348 \\ \hline \end{array}$	$\begin{array}{r} 3\ 418 \\ + 2\ 657 \\ \hline \end{array}$	$\begin{array}{r} 7\ 304 \\ + 876 \\ \hline \end{array}$	$\begin{array}{r} 8\ 843 \\ + 207 \\ \hline \end{array}$
.....

2 Đặt tính rồi tính:

$25\ 638 + 41\ 546$	$16\ 187 + 5\ 806$	$4\ 794 + 8\ 123$	$58\ 368 + 715$
.....
.....
.....

3 Tính nhẩm (theo mẫu):

Mẫu: $4\ 000 + 3\ 000 = ?$
 $4\ \text{nghìn} + 3\ \text{nghìn} = 7\ \text{nghìn}$
 Vậy $4\ 000 + 3\ 000 = 7\ 000$

$5\ 000 + 3\ 000 = \dots\dots\dots$
$7\ 000 + 9\ 000 = \dots\dots\dots$
$4\ 000 + 70\ 000 = \dots\dots\dots$
$62\ 000 + 38\ 000 = \dots\dots\dots$

4 Theo em, bạn nào tính đúng?

Khánh

An

Trả lời: