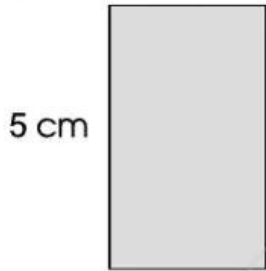


Bài 95

DIỆN TÍCH HÌNH CHỮ NHẬT.
DIỆN TÍCH HÌNH VUÔNG

1 Tính diện tích mỗi hình chữ nhật sau:

a) 3 cm

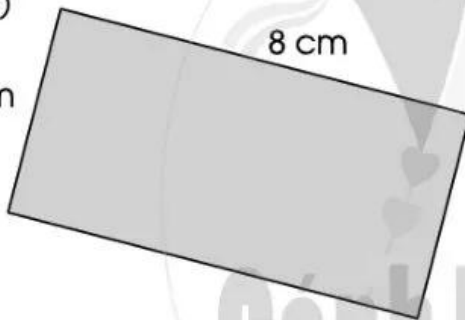


5 cm

.....
.....
.....
.....

b)

4 cm




8 cm

.....
.....
.....
.....

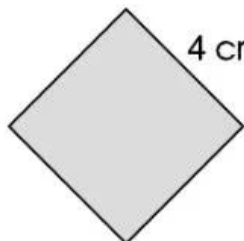
2 Tính diện tích mỗi hình vuông sau:

a) 5 cm



.....
.....
.....
.....

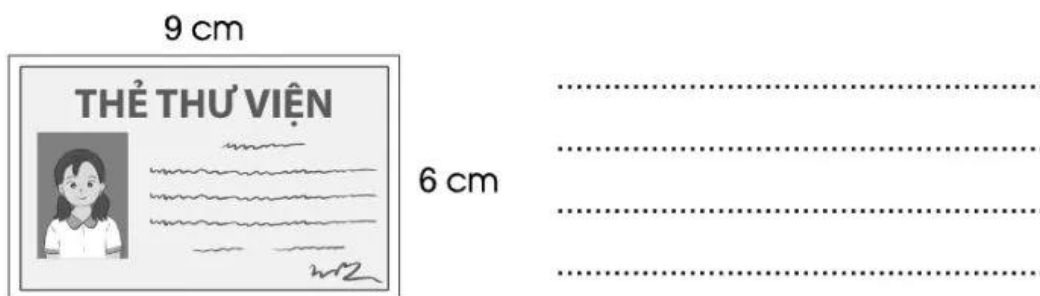
b)



4 cm

.....
.....
.....
.....

- 3 a) Tính diện tích thẻ thư viện sau:



- b) Tính diện tích con tem sau:



- 4 **Thực hành:** Sử dụng 12 mảnh giấy hình vuông diện tích 1 cm^2 để ghép thành các hình chữ nhật khác nhau nhưng có cùng diện tích là 12 cm^2 .



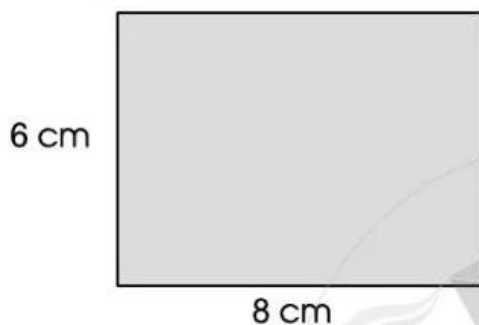
Viết lại kết quả (theo mẫu):

Hình	Chiều dài	Chiều rộng
1	6 cm	2 cm
2		
3		

Bài 96 LUYỆN TẬP CHUNG

1 Tính chu vi và diện tích các hình sau:

a)



.....

.....

.....

.....

.....

b)



.....

.....

.....

.....

.....

2 Viết số đo thích hợp vào chỗ chấm trong bảng dưới đây:

Tên hình	Chiều dài	Chiều rộng	Cạnh	Chu vi	Diện tích
Hình chữ nhật	5 cm	2 cm	X
Hình chữ nhật	15 cm	3 cm	X
Hình vuông	X	X	7 cm
Hình vuông	X	X	9 cm