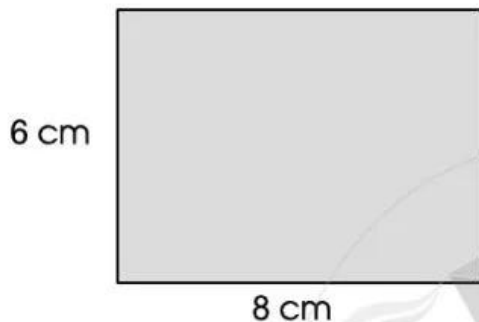


# Bài 96 LUYỆN TẬP CHUNG

1 Tính chu vi và diện tích các hình sau:

a)



.....

.....

.....

.....

.....

b)



.....

.....

.....

.....

.....


2 Viết số đo thích hợp vào chỗ chấm trong bảng dưới đây:

Tên hình	Chiều dài	Chiều rộng	Cạnh	Chu vi	Diện tích
Hình chữ nhật	5 cm	2 cm	X	.....	.....
Hình chữ nhật	15 cm	3 cm	X	.....	.....
Hình vuông	X	X	7 cm	.....	.....
Hình vuông	X	X	9 cm	.....	.....

- 3) Mai ghép 10 tấm thảm hình vuông có cạnh 40 cm thành một tấm thảm hình chữ nhật lớn có chiều rộng 80 cm. Hỏi chu vi của tấm thảm Mai ghép được bằng bao nhiêu xăng-ti-mét?



Bài giải



- 4) Quan sát sơ đồ các phòng của một trung tâm thể dục thẩm mỹ sau và trả lời các câu hỏi:

	Phòng tập yoga				Phòng tập thể hình	
	Phòng tập nhảy					
					Phòng xông hơi	

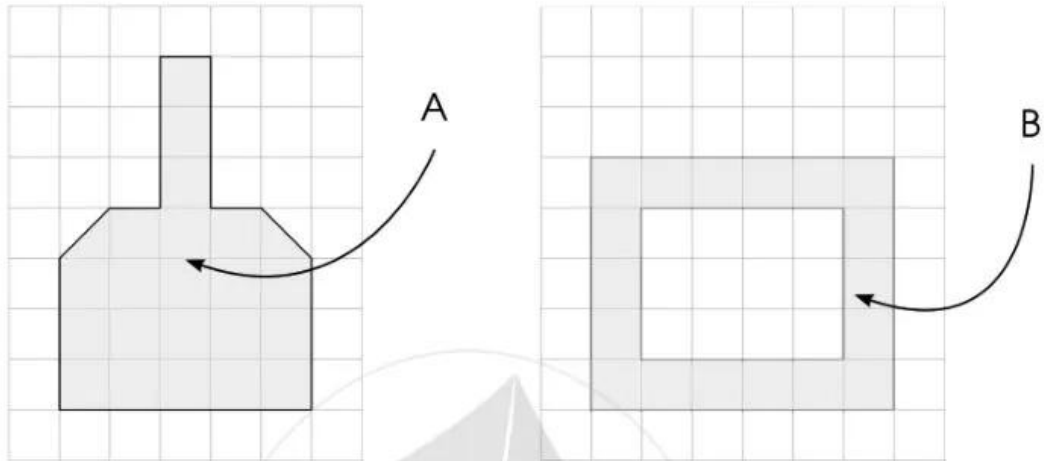
a) Phòng nào có diện tích lớn nhất?

.....  
 .....  
 .....

b) Phòng nào có diện tích bé nhất?

.....  
 .....  
 .....


- 5 Theo em, miếng đề can ở hình A có đủ để cắt dán thành hình B không?



Trả lời: .....

.....

- 6 Thực hành: Tạo lập những hình chữ nhật có chu vi bằng nhau nhưng diện tích khác nhau và ghi lại kết quả (theo mẫu).



Hình	Chiều dài	Chiều rộng	Chu vi	Diện tích
A	5 cm	3 cm	16 cm	15 cm <sup>2</sup>
B	6 cm	2 cm	16 cm	12 cm <sup>2</sup>
C	.....	.....	.....	.....
D	.....	.....	.....	.....


# Bài 97

## THU THẬP, PHÂN LOẠI, GHI CHÉP SỐ LIỆU THỐNG KÊ

1 Số ?











2 Kiểm đếm số chiếc diều mỗi loại trong hình vẽ sau (theo mẫu):



Số lượng chiếc diều mỗi loại

Chiếc diều có dạng khối hộp chữ nhật		7
Chiếc diều có dạng hình tứ giác		
Chiếc diều có dạng hình tam giác		