





BIỂU ĐỒ TRANH



Biểu đồ tranh ở trên cho biết trong giỏ trái cây có 6 quả thanh long, 3 quả dứa và 5 quả dâu tây.

1 Quan sát biểu đồ tranh sau:

Số khối lập phương theo màu sắc




Xanh	
Đỏ	
Tím	
Vàng	

Trả lời các câu hỏi:

- Có bao nhiêu khối lập phương màu xanh?
- Có bao nhiêu khối lập phương màu tím?
- Những khối lập phương màu nào có số lượng bằng nhau?

2 Quan sát biểu đồ tranh sau:

Số trứng mỗi con gà đẻ được trong một tuần









Gà mái mơ	
Gà mái ri	
Gà mái đen	

Trả lời các câu hỏi:

- Mỗi con gà đẻ được bao nhiêu quả trứng?
- Con gà nào đẻ được nhiều trứng nhất? Con gà nào đẻ được ít trứng nhất?
- Ba con gà đã đẻ được tất cả bao nhiêu quả trứng?

3 Quan sát biểu đồ tranh sau:

Phương tiện đến trường của học sinh lớp 2A

 Xe buýt	
 Xe đạp	
 Xe máy	
 Đi bộ	

Trả lời các câu hỏi:

- Có bao nhiêu học sinh đi học bằng xe buýt?
- Có bao nhiêu học sinh đi học bằng xe đạp?
- Các học sinh đến trường bằng phương tiện nào nhiều nhất?