


CÁC SỐ TRONG PHẠM VI 1000

1. ĐẾM THEO TRĂM



Một trăm
100



Hai trăm
200



Ba trăm
300

...



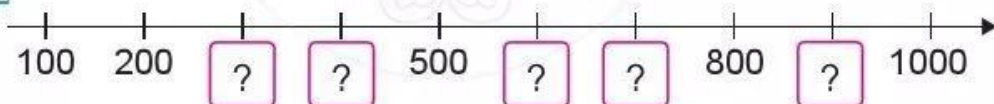
Mười trăm
1000

10 trăm bằng 1 nghìn

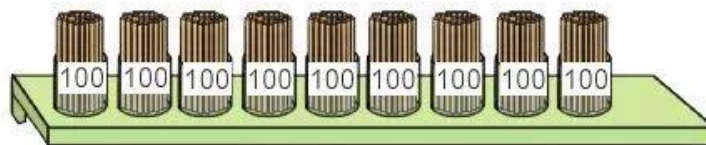
Các số 100, 200, 300, ..., 1000 là các số tròn trăm.

1 **Viết các số:** bốn trăm, năm trăm, sáu trăm, bảy trăm, tám trăm, chín trăm, một nghìn.

2 **Số ?**




3 **Chị Mai muốn mua 800 ống hút làm bằng tre. Chị Mai cần lấy mấy hộp ống hút?**




2. ĐẾM THEO CHỤC



Một trăm
100




Một trăm mười
110




Một trăm hai mươi
120

...



Một trăm chín mươi
190



Hai trăm
200

4 Chọn số tương ứng với cách đọc:

Một trăm tám mươi

150

200

Một trăm bốn mươi

Một trăm năm mươi

170

160

Một trăm sáu mươi

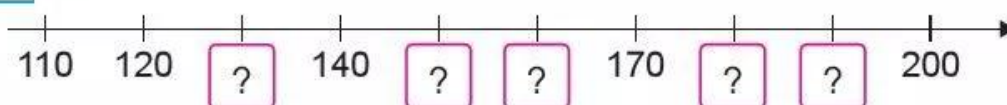
Một trăm bảy mươi

180

140

Hai trăm

5 Số ?



6 Chọn chữ đặt trước đáp án đúng:

Số cúc áo có trong hình vẽ bên là:

A. 800

B. 170

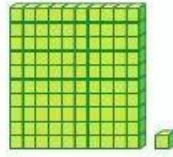
C. 80



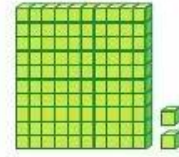
3. ĐẾM THEO ĐƠN VỊ



Một trăm
100

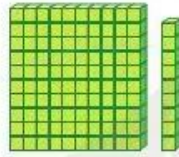


Một trăm linh một
101

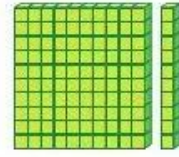


Một trăm linh hai
102

...



Một trăm linh chín
109



Một trăm mười
110

7 Chọn cách đọc tương ứng với số:

Một trăm linh bảy

Một trăm linh năm

Một trăm linh sáu

110

107

103

108

105

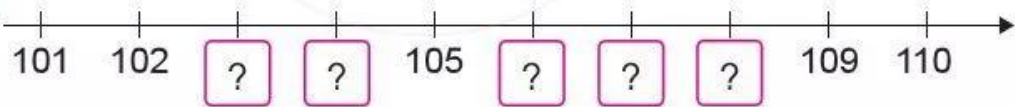
106

Một trăm mười

Một trăm linh ba

Một trăm linh tám

8 Số ?



9 Trò chơi "Lấy cho đủ số lượng"

Đố bạn lấy đủ
130 khối lập phương



Đố bạn lấy đủ
104 khối lập
phương

