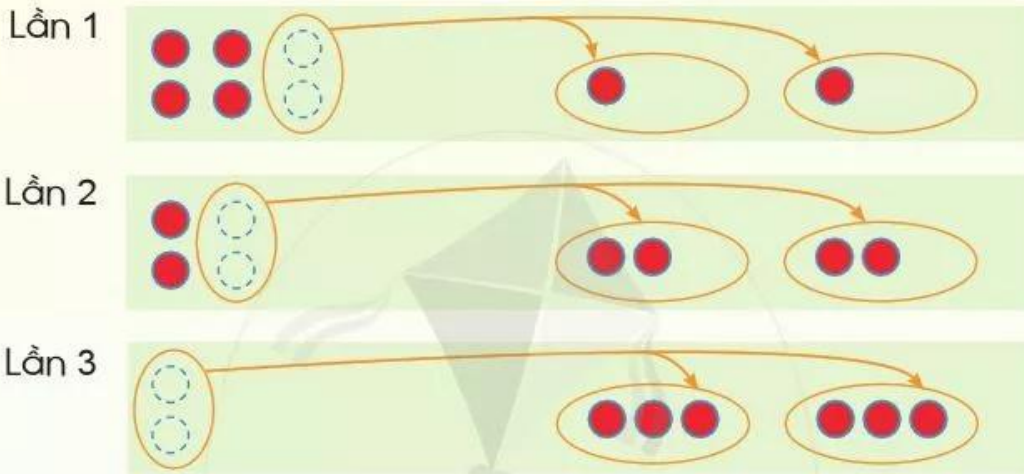



## LÀM QUEN VỚI PHÉP CHIA – DẤU CHIA

6 hình tròn chia đều cho 2 bạn.  
Mỗi bạn được mấy hình tròn?



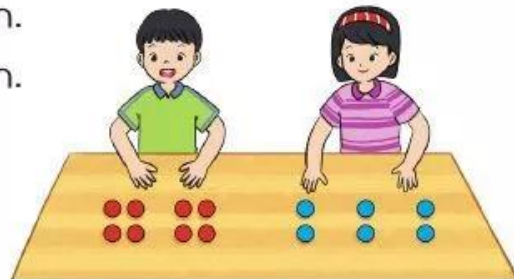
6 hình tròn chia đều cho 2 bạn.  
Mỗi bạn được 3 hình tròn.  
Ta có phép chia  $6 : 2 = 3$ .  
Đọc là: Sáu chia hai bằng ba.

Dấu chia



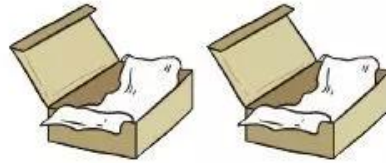

**1** Thực hiện hoạt động sau rồi nêu phép chia tương ứng:

- a) Chia đều 8 hình tròn cho 2 bạn.
- b) Chia đều 6 hình tròn cho 3 bạn.



**2** Xem tranh rồi nói phép chia (theo mẫu):

Mẫu:




Có 10 chiếc bánh, chia đều vào 2 hộp. Mỗi hộp có 5 chiếc bánh.  
Ta có phép chia  $10 : 2 = 5$ .

a)



Có 9 quả dâu tây, chia đều vào 3 đĩa. Mỗi đĩa có 3 quả dâu tây.  
Ta có phép chia  $\boxed{?} \boxed{?} \boxed{?} = \boxed{?}$

b)

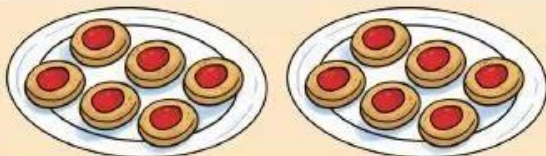


Có 8 củ cà rốt, chia đều cho 4 bạn Thỏ. Mỗi bạn Thỏ được 2 củ cà rốt.  
Ta có phép chia  $\boxed{?} \boxed{?} \boxed{?} = \boxed{?}$

**3** Chọn phép chia thích hợp với mỗi tranh vẽ:



$12 : 2 = 6$



$15 : 3 = 5$