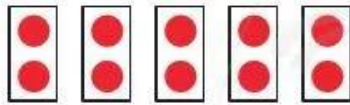


LÀM QUEN VỚI PHÉP NHÂN - DẤU NHÂN


Mỗi thẻ có 2 chấm tròn, mình lấy ra 5 thẻ.

Có tất cả bao nhiêu chấm tròn?



2 được lấy 5 lần
Ta có phép nhân $2 \times 5 = 10$
Đọc là: Hai nhân năm bằng mười.

Dấu nhân

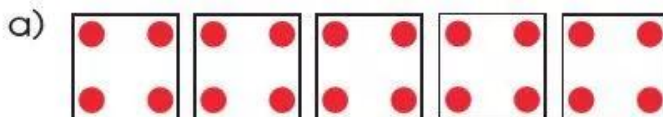


1 Xem hình rồi nói (theo mẫu):

Mẫu:

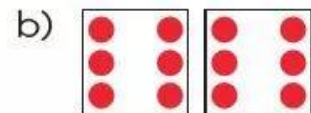


5 được lấy 3 lần
 $5 \times 3 = 15$



4 được lấy 5 lần

$$4 \text{ (?) } 5 = 20$$



6 được lấy 2 lần

$$6 \text{ (?) } 2 = 12$$

2 Chọn phép nhân thích hợp với mỗi tranh vẽ:



5×2



6×3



4×3

3 Xếp các chấm tròn thích hợp với mỗi phép nhân sau:

3×2

4×3

5×4

5×5

3×5



3 được lấy 5 lần

4 a) Xem tranh rồi thảo luận về phép tính của Quân và Thu. Theo em, bạn nào nêu phép tính đúng?



6×2



Quân

$6 + 2$



Thu

b) Kể một tình huống có sử dụng phép nhân trong thực tế.