


ÔN TẬP CHUNG

1 Số ?

Hai trăm mười ba

$$200 + 10 + 3$$

?



Trăm	Chục	Đơn vị
2	1	3

2

a) Tìm số lớn nhất trong các số: 879, 978, 789, 979.

b) Tìm số bé nhất trong các số: 465, 456, 645, 546.

c) Sắp xếp các số sau theo thứ tự từ bé đến lớn:

599, 1000, 769, 687.

3

a) Tính:

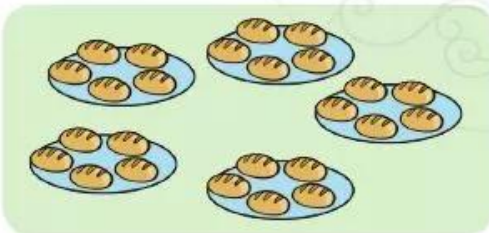
$$762 + 197$$

$$543 - 127$$

$$2 \times 8$$

$$40 : 5$$

b) Nêu phép nhân hoặc phép chia thích hợp với mỗi tranh vẽ:



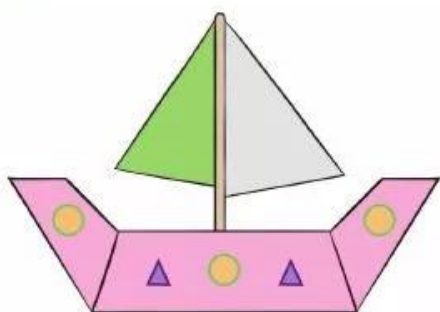
$$\boxed{?} \times \boxed{?} = \boxed{?}$$



$$\boxed{?} : \boxed{?} = \boxed{?}$$

4 Số ?

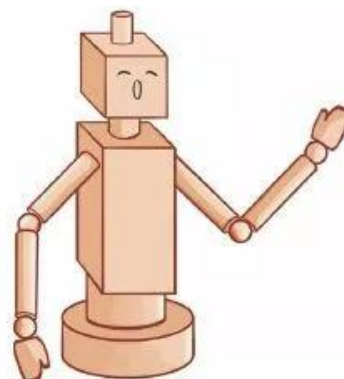
a)



Có ? hình tứ giác.

Có ? hình tam giác.

b)



Có ? khối trụ.

Có ? khối cầu.

5 Ngày thứ nhất cửa hàng bán được 150 l nước mắm, ngày thứ hai cửa hàng bán được nhiều hơn ngày thứ nhất 75 l nước mắm. Hỏi ngày thứ hai cửa hàng bán được bao nhiêu lít nước mắm?

6 Xem tranh rồi kiểm đếm số lượng mỗi loại nhạc cụ mà các bạn đang cầm và ghi lại kết quả:

