

# ÔN TẬP VỀ HÌNH HỌC VÀ ĐO LƯỜNG

- 1 a) Chỉ ra đường thẳng, đường cong, đường gấp khúc trong hình sau:

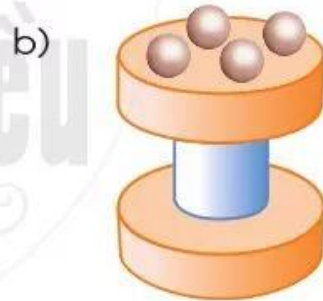


- b) Đọc tên các điểm và các đoạn thẳng trong hình sau:



- c) Vẽ đoạn thẳng MN có độ dài 6 cm.

- 2 Số ?



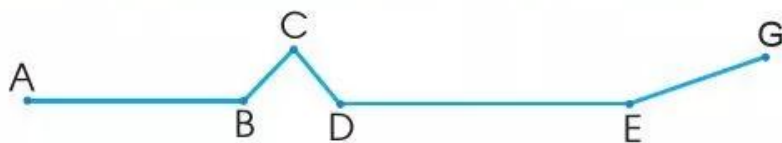
Có ? hình tam giác.

Có ? khối trụ.


Có ? hình tứ giác.

Có ? khối cầu.

- 3 Đo và tính độ dài đường gấp khúc ABCDEG sau:



4 Nam nhảy dây từ mấy giờ đến mấy giờ?



5 Một thang máy chở được tối đa 600 kg. Hiện tại, thang máy đó đã chở 570 kg. Bạn Lan cân nặng 35 kg. Theo em, bạn Lan có thể vào tiếp trong thang máy đó được không?



6 Ước lượng chiều cao cột cờ trường em.

