


THU THẬP - KIỂM ĐẾM



Khối lập phương



9

Khối cầu



13

1 Số ?



?



?




?




?

2 Kiểm đếm số lượng từng loại con vật: châu chấu, chuồn chuồn, bộ rùa và ghi kết quả (theo mẫu):



Mẫu: Ong  / 6

- 3 a) Kiểm đếm số lượng từng loại trái cây: na, thanh long, dâu tây, dứa và ghi kết quả (theo mẫu):



Mẫu: Táo 7

- b) Trả lời câu hỏi: Loại trái cây nào có nhiều nhất? Loại trái cây nào có ít nhất?

- 4 Một người theo dõi thời tiết đã ghi lại thời tiết trong tháng 6 như sau:

	1	2	3	4	5	6	7	8	9	10
Tháng 6										

- a) Hãy kiểm đếm và ghi lại kết quả số ngày nắng, số ngày mưa và số ngày nhiều mây.

- b) Nêu nhận xét về số ngày nắng trong tháng trên.

- 5 Trò chơi “Oẳn tù tì”

Thực hiện nhiều lần, kiểm đếm và ghi lại kết quả mỗi lần chơi:



Đức

Linh

Đức:

Linh: