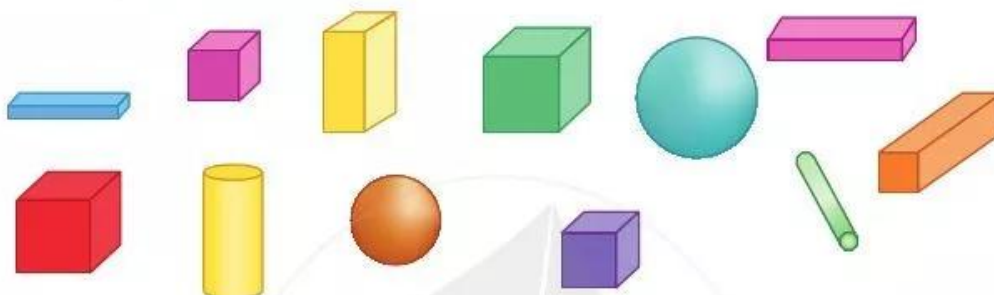
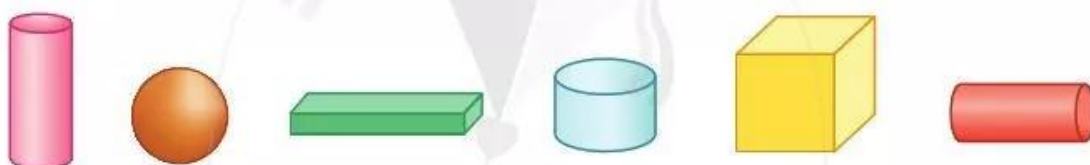


THỰC HÀNH LẮP GHÉP, XẾP HÌNH KHỐI

- 1 Hình dưới đây có bao nhiêu khối lập phương? Khối hộp chữ nhật? Khối trụ? Khối cầu?



- 2 a) Xem hình rồi trả lời các câu hỏi:



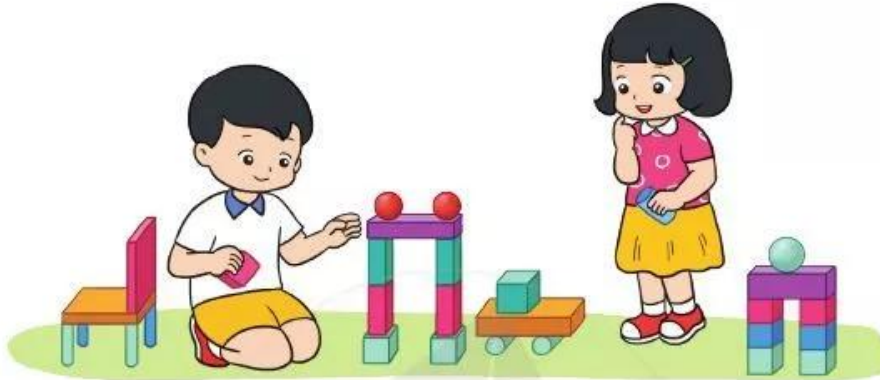
- Ở bên trái của khối cầu là khối gì?
 - Ở bên phải của khối cầu là những khối gì?
 - Khối nào ở giữa khối lập phương và khối hộp chữ nhật?
- b) Lấy các khối hình trong bộ đồ dùng xếp theo thứ tự trên.

- 3 Trò chơi “Đố bạn tìm hình”



Hãy lấy cho tôi một khối trụ

- 4 Sử dụng các khối lập phương, khối hộp chữ nhật, khối trụ, khối cầu để xếp hình em thích.



- 5 Dùng các khối sau để xếp hình và xem ai xếp được cao hơn, vững chắc hơn.

