

Tiết 4. Cộng hoà Liên bang Đức

Diện tích : 357 nghìn km²
Dân số : 82,5 triệu người (năm 2005)
Thủ đô : Béc-lin

I - VỊ TRÍ ĐỊA LÍ VÀ ĐIỀU KIỆN TỰ NHIÊN

Nằm ở trung tâm châu Âu, tiếp giáp với 9 nước, Biển Bắc và biển Ban-tích, CHLB Đức có nhiều thuận lợi trong việc thông thương với các nước khác ở châu Âu, là cầu nối quan trọng giữa Đông Âu và Tây Âu, giữa Bắc Âu và Nam Âu. Cùng với Pháp, CHLB Đức giữ vai trò đầu tàu trong việc xây dựng và phát triển EU.

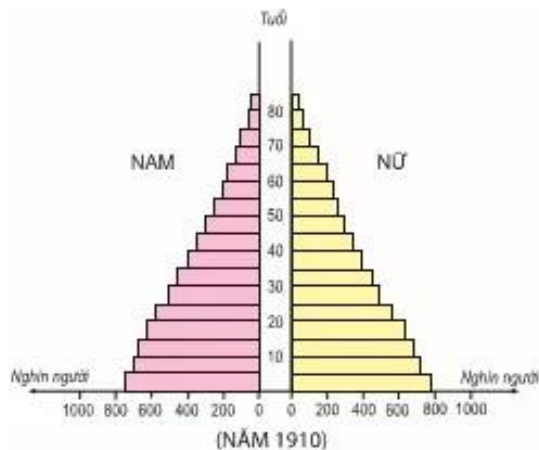
CHLB Đức nằm trong khu vực khí hậu ôn đới. Từ bắc xuống nam có các vùng cảnh quan khác nhau. Sự đa dạng và vẻ đẹp của các cảnh quan thiên nhiên hấp dẫn nhiều du khách. Tuy nhiên, nước Đức nghèo khoáng sản, đáng kể nhất là than nâu, than đá và muối mỏ.

Đặc điểm của vị trí địa lí và điều kiện tự nhiên có ảnh hưởng như thế nào đến việc phát triển kinh tế của CHLB Đức ?

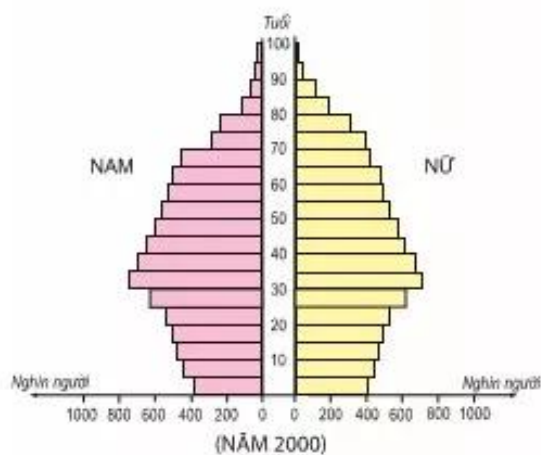
II - DÂN CƯ VÀ XÃ HỘI

Nước Đức là nhà nước liên bang (gồm 16 bang). So với các nước trên thế giới, người dân Đức có mức sống cao và được hưởng một hệ thống bảo hiểm xã hội tốt. Chi phí cho hệ thống bảo hiểm xã hội chiếm 1/3 GDP. Giáo dục - đào tạo được coi là một động lực phát triển và được chú trọng đầu tư. Tỷ suất sinh vào loại thấp nhất châu Âu và cơ cấu dân số già đã gây ra nhiều khó khăn đối với việc bổ sung lực lượng lao động. Chính phủ Đức dành nhiều ưu tiên, trợ cấp xã hội cho những người có gia đình và nhất là gia đình đông con. Số dân tăng chủ yếu do nhập cư. Hiện tại có khoảng 10% dân số là người nhập cư, trong đó nhiều nhất là người Thổ Nhĩ Kỳ và người I-ta-li-a.

Hãy nêu một số nét nổi bật trong dân cư, xã hội của CHLB Đức.



Một gia đình Đức năm 1910



Một gia đình Đức năm 2000

Hình 9.10. Thay đổi cấu trúc dân số của CHLB Đức (1910 - 2000)

III – KINH TẾ

1. Khái quát

Hiện nay, nước Đức thống nhất là một trong những cường quốc kinh tế hàng đầu trên thế giới. Trong những thập kỉ qua, cơ cấu GDP của CHLB Đức có sự thay đổi sâu sắc theo hướng giảm tỉ trọng của các khu vực công nghiệp và nông nghiệp, đồng thời tăng mạnh tỉ trọng của khu vực dịch vụ. Năm 2004, tỉ trọng các khu vực kinh tế trong GDP là : nông nghiệp 1%, công nghiệp và xây dựng 29%, dịch vụ 70%; CHLB Đức luôn đứng hàng đầu thế giới về giá trị xuất khẩu. Từ những năm 70 của thế kỉ XX, nước Đức chuyển dần từ nền kinh tế công nghiệp sang nền kinh tế tri thức.

Bảng 9.4. GDP của các cường quốc kinh tế thế giới

(Đơn vị : tỉ USD)

Nước	1995	2004
Hoa Kỳ	6954,8 (1)	11667,5 (1)
Nhật Bản	5217,6 (2)	4623,4 (2)
CHLB Đức	2417,7 (3)	2714,4 (3)
Anh	1102,7 (5)	2140,9 (4)
Pháp	1 536,5 (4)	2002,6 (5)

Bảng 9.5. Giá trị xuất, nhập khẩu của các cường quốc thương mại thế giới - năm 2004

(Đơn vị : tỉ USD)

Nước	Xuất khẩu	Nhập khẩu
Hoa Kỳ	818,5 (2)	1525,7 (1)
CHLB Đức	911,6 (1)	718,0 (2)
Trung Quốc	593,4 (3)	560,7 (3)
Nhật Bản	565,7 (4)	454,5 (4)
Pháp	423,8 (5)	442,0 (5)

Số trong ngoặc là xếp hạng của các nước trên thế giới

Phân tích các bảng 9.4 và 9.5 để chứng tỏ rằng CHLB Đức là một trong những cường quốc kinh tế hàng đầu thế giới.

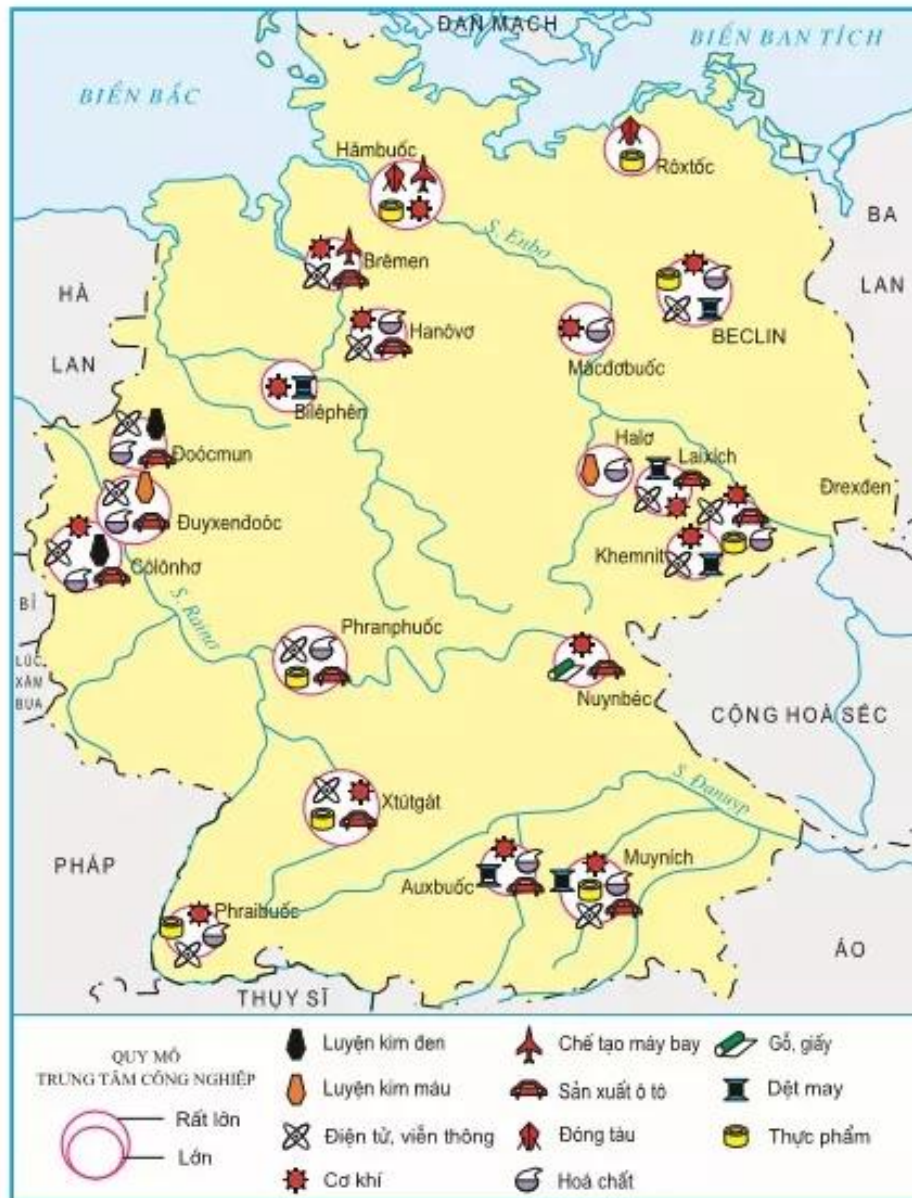
2. Công nghiệp

Nhiều ngành công nghiệp của CHLB Đức giữ vị trí cao trên thế giới. Sản xuất ô tô là ngành công nghiệp quan trọng nhất của CHLB Đức, trong nhiều năm đứng thứ ba thế giới sau Hoa Kỳ và Nhật Bản. Các ngành công nghiệp chế tạo máy móc và hoá chất có trình độ cao, đứng hàng đầu thế giới. Điện tử - viễn thông đã trở thành một trong những ngành công nghiệp chủ chốt ở CHLB Đức.



Hình 9.11. Một dây chuyền sản xuất xe ô tô ở CHLB Đức

Xác định trên hình 9.12 các trung tâm công nghiệp : Mynich, Xtút-gát, Phran-phước, Cô-lô-nhơ, Béc-lin và các ngành công nghiệp của những trung tâm đó.



Hình 9.12. Các trung tâm công nghiệp chính của CHLB Đức

3. Nông nghiệp

Điều kiện tự nhiên để phát triển nông nghiệp của CHLB Đức không thật thuận lợi. Tuy nhiên, sau Chiến tranh thế giới thứ hai, do tăng cường cơ giới hoá, chuyên môn hoá, hợp li hoá sản xuất, đồng thời sử dụng ngày càng nhiều phân bón, giống tốt,... nên năng suất đã tăng mạnh. Nông sản chủ yếu của CHLB Đức là lúa mì, củ cải đường, thịt (bò, lợn) và sữa.

Dựa vào hình 9.13, hãy nêu sự phân bố một số cây trồng, vật nuôi của CHLB Đức.



Hình 9.13. Phân bố sản xuất nông nghiệp của CHLB Đức

CÂU HỎI VÀ BÀI TẬP

1. Hãy trình bày những biến đổi to lớn trong nền kinh tế [xã hội của CHLB Đức.
2. Vì sao có thể nói rằng CHLB Đức là một cường quốc kinh tế hàng đầu trên thế giới ?
3. CHLB Đức đã đạt được những thành tựu nổi bật nào trong phát triển công nghiệp và nông nghiệp ?