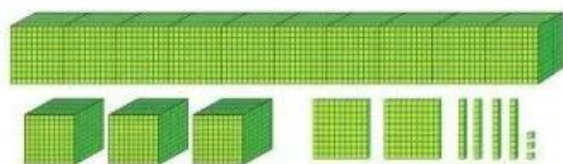


CÁC SỐ TRONG PHẠM VI 100 000 (tiếp theo)



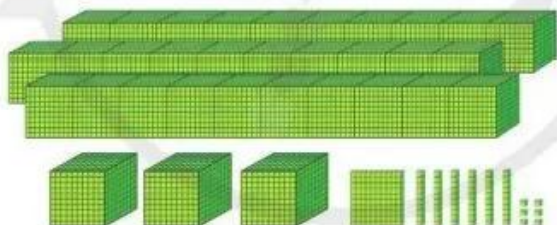
13 243

Mười ba nghìn hai trăm bốn mươi ba

Hàng				
Chục nghìn	Nghìn	Trăm	Chục	Đơn vị
1	3	2	4	3

Số 13 243 gồm 1 chục nghìn
3 nghìn 2 trăm 4 chục 3 đơn vị.

1 Số ?



?

Hàng				
Chục nghìn	Nghìn	Trăm	Chục	Đơn vị
?	?	?	?	?

Số ? gồm ? chục nghìn ? nghìn ? trăm ? chục ? đơn vị.

2 Thực hiện (theo mẫu):

Hàng					Viết số	Đọc số
Chục nghìn	Nghìn	Trăm	Chục	Đơn vị		
4	3	6	5	2	43 652	Bốn mươi ba nghìn sáu trăm năm mươi hai
6	5	7	8	1	?	?
3	4	2	7	4	?	?
9	9	6	0	2	?	?
1	4	0	9	6	?	?
8	0	3	1	5	?	?

3 Nói (theo mẫu):

Mẫu: 57 418 gồm 5 chục nghìn 7 nghìn 4 trăm 1 chục 8 đơn vị.

- a) 34 715 gồm chục nghìn nghìn trăm chục đơn vị.
- b) 58 089 gồm chục nghìn nghìn trăm chục đơn vị.
- c) 20 405 gồm chục nghìn nghìn trăm chục đơn vị.
- d) 66 292 gồm chục nghìn nghìn trăm chục đơn vị.


4 Số ?

- a) 42 630 42 631 ? ? ? 42 635 ?
- b) 28 437 28 447 28 457 ? ? 28 487 ?
- c) 31 900 32 900 33 900 ? ? ? ?

- 5** Số ?
- a) $11\ 568 = 10\ 000 + 1\ 000 + \boxed{?} + 60 + \boxed{?}$
- b) $72\ 934 = 70\ 000 + 2\ 000 + \boxed{?} + \boxed{?} + \boxed{?}$
- c) $\boxed{?} = 80\ 000 + 6\ 000 + 100 + 30 + 7$
- d) $\boxed{?} = 20\ 000 + 100 + 30$

6 Thực hành: Làm công cụ tìm hiểu số.

Ví dụ:



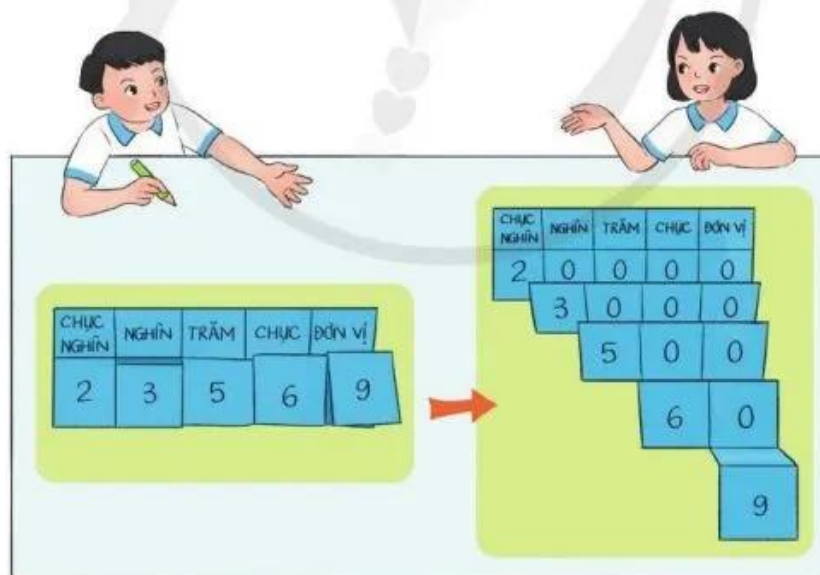
CHỤC NGHÌN	NGHÌN	TRĂM	CHỤC	ĐƠN VỊ
2	0	0	0	0
	3	0	0	0
		5	0	0
			6	0
				9

CHỤC NGHÌN	NGHÌN	TRĂM	CHỤC	ĐƠN VỊ
2	0	0	0	0
	3	0	0	0
		5	0	0
			6	0
				9

① Lấy một tờ giấy gấp hoặc kẻ 5 cột, 10 hàng.

② Viết số em thích theo mẫu ở hình trên.

③ Cắt theo hình hướng dẫn trên.



④ Gấp tờ giấy theo hướng dẫn để đọc số hoặc mở tờ giấy ra để biết số vừa đọc gồm mấy chục nghìn, nghìn, trăm, chục, đơn vị.

SO SÁNH CÁC SỐ TRONG PHẠM VI 100 000



1. So sánh 984 và 4 275

Nghìn	Trăm	Chục	Đơn vị
	9	8	4
4	2	7	5

Số 984 có ba chữ số.
Số 4 275 có bốn chữ số.
Vậy $984 < 4\ 275$.

Trong hai số:

- Số nào có ít chữ số hơn thì bé hơn.
- Số nào có nhiều chữ số hơn thì lớn hơn.

2. So sánh 4 275 và 4 228

Nghìn	Trăm	Chục	Đơn vị
4	2	7	5
4	2	2	8

4 = 4	2 = 2	7 > 2
-------	-------	-------

- Số 4 275 và 4 228 cùng có bốn chữ số.
- Ta so sánh từng cặp chữ số trên cùng một hàng, kể từ trái sang phải. Cặp chữ số đầu tiên khác nhau là $7 > 2$.
Vậy $4\ 275 > 4\ 228$.

Nếu hai số có cùng số chữ số:

Lần lượt so sánh từng cặp chữ số trên cùng một hàng, kể từ trái sang phải, cho đến khi xuất hiện cặp chữ số đầu tiên khác nhau. Số nào chứa chữ số lớn hơn thì số đó lớn hơn.