

# EM ÔN LẠI NHỮNG GÌ ĐÃ HỌC

1 a) Đọc mỗi số sau (theo mẫu):

- Chín mươi ba nghìn sáu trăm.
- Số 93 600 gồm 9 chục nghìn 3 nghìn 6 trăm.



93 600

96 821

95 070

95 031


92 643

b) Trong các số ở câu a, số nào bé nhất, số nào lớn nhất?

2 Số ?



3 Làm tròn giá bán mỗi quyển sách sau đến hàng nghìn:



54 200 đồng



47 800 đồng



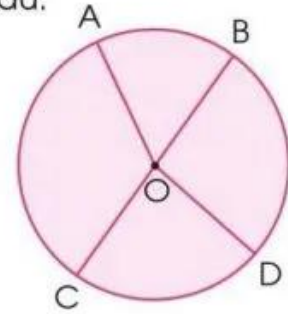
26 250 đồng

4 a) Nêu tâm, đường kính, bán kính của hình tròn sau:

b) Chọn chữ đặt trước câu đúng:

A. O là trung điểm của BC.

B. O là trung điểm của AD.



5 a) Mỗi đồng hồ sau chỉ mấy giờ?



b) Chọn chữ đặt trước câu trả lời đúng:

Ngày 30 tháng 8 là thứ Ba thì ngày 2 tháng 9 cùng năm đó là:

A. Thứ Tư.

B. Thứ Năm.

C. Thứ Sáu.

D. Thứ Bảy.

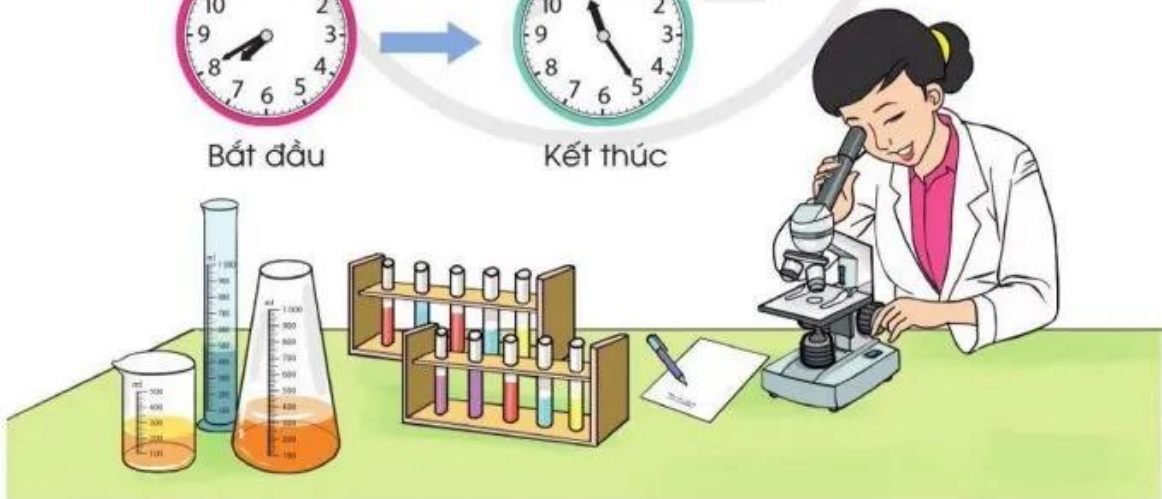
6 Quan sát tranh, trả lời câu hỏi:



Bắt đầu



Kết thúc



Chị Huyền bắt đầu làm việc lúc mấy giờ và kết thúc lúc mấy giờ?

1 Thực hiện các hoạt động sau:

- a) Viết một số có bốn chữ số bất kì.  
– Viết cách đọc số đó.  
– Viết số đó thành tổng của nghìn, trăm, chục, đơn vị.  
– Viết số liền trước (hoặc số liền sau) của số đó.  
– Làm tròn số đó đến hàng trăm hoặc hàng nghìn.
- b) Cắt, dán và viết các thông tin liên quan đến số vừa viết ở câu a rồi trang trí cho đẹp.

