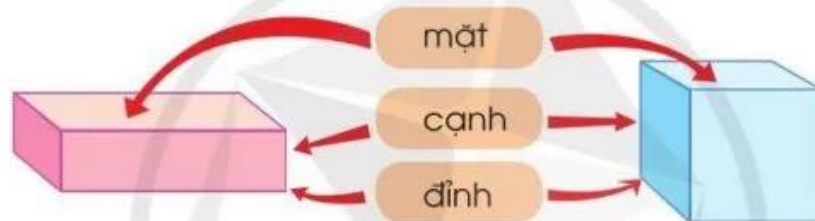


KHỐI HỘP CHỮ NHẬT. KHỐI LẬP PHƯƠNG



Khối hộp chữ nhật có:

- 6 mặt, các mặt đều là hình chữ nhật
- 8 đỉnh
- 12 cạnh

Khối lập phương có:

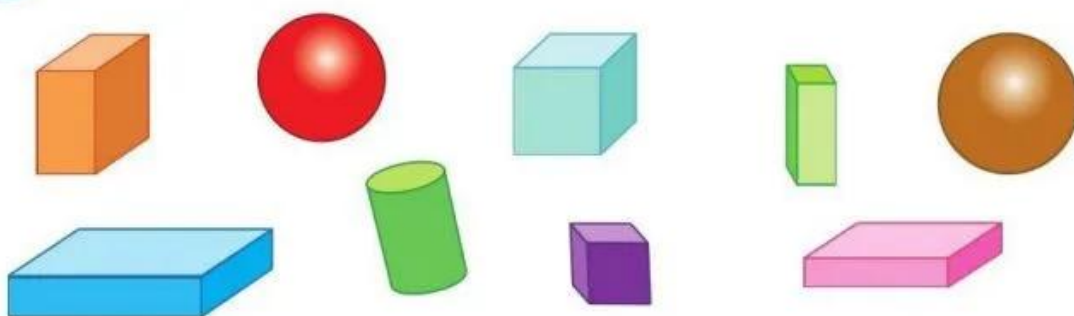
- 6 mặt, các mặt đều là hình vuông
- 8 đỉnh
- 12 cạnh

1 a) Lấy ra từ bộ đồ dùng học Toán một khối hộp chữ nhật và một khối lập phương rồi chỉ ra các đỉnh, cạnh, mặt của mỗi khối hình đó.

b) Chọn số thích hợp cho mỗi ô ? trong bảng dưới đây:

	Số đỉnh	Số cạnh	Số mặt
Khối hộp chữ nhật	?	?	?
Khối lập phương	?	?	?

2 Quan sát hình vẽ rồi trả lời các câu hỏi:

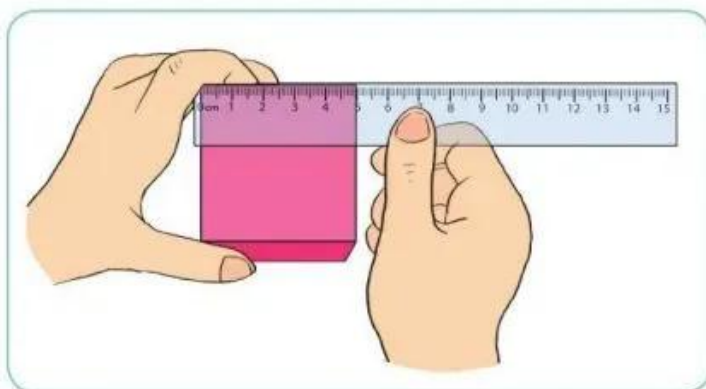


- a) Hình trên có bao nhiêu khối hộp chữ nhật, bao nhiêu khối lập phương?
- b) Những hình nào có 6 mặt đều là hình vuông?
- c) Những hình nào có 12 cạnh?

3 Trò chơi “Đoán hình”



- 4** Bạn Nguyễn nói rằng: “Chỉ cần đo độ dài 1 cạnh của chiếc hộp có dạng khối lập phương thì có thể biết được độ dài của tất cả các cạnh còn lại của chiếc hộp”. Em có đồng ý với bạn Nguyễn không? Tại sao?



THỰC HÀNH XEM ĐỒNG HỒ



9 giờ 10 phút



9 giờ 15 phút



9 giờ 35 phút

1 Số ?

a)



b)



? giờ ? phút



? giờ ? phút



? giờ ? phút

- 2 a) Quay kim đồng hồ để đồng hồ chỉ: 6 giờ 5 phút và 6 giờ 10 phút.
Từ 6 giờ 5 phút đến 6 giờ 10 phút là bao nhiêu phút?
b) Từ 11 giờ 25 phút đến 11 giờ 35 phút là bao nhiêu phút?