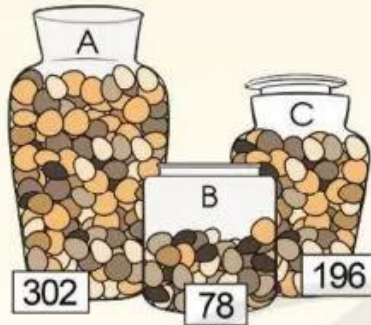


# LÀM TRÒN SỐ ĐẾN HÀNG CHỤC, HÀNG TRĂM

Bình A có khoảng 300 viên sỏi.  
Bình B có khoảng 80 viên sỏi.

Bình C có khoảng 200 viên sỏi.



Sao câu trả lời của các bạn lại là thế nhỉ?



**Ví dụ 1: Làm tròn các số 62, 67 đến hàng chục**



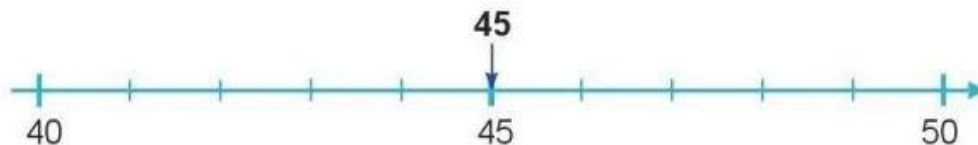
• Ta thấy: Số 62 gần với số 60 hơn số 70.

Vậy: Khi làm tròn số **62** đến hàng chục, ta được số **60** (gọi là làm tròn lùi).

• Ta thấy: Số 67 gần với số 70 hơn số 60.

Vậy: Khi làm tròn số **67** đến hàng chục, ta được số **70** (gọi là làm tròn tiến).

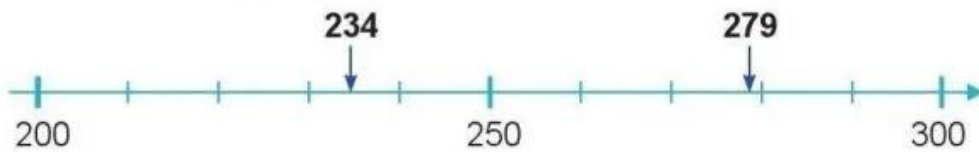
**Ví dụ 2: Làm tròn số 45 đến hàng chục**



Ta thấy: Số 45 cách đều hai số 40 và 50.

Quy ước: Khi làm tròn số **45** đến hàng chục, ta được số **50**.

**Ví dụ 3: Làm tròn các số 234, 279 đến hàng trăm**



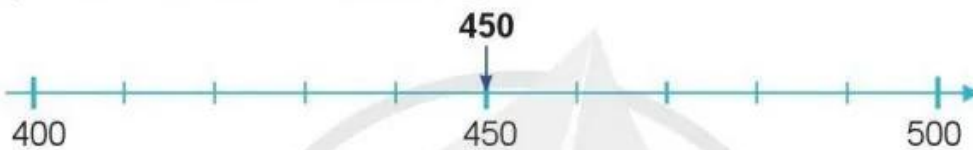
• Ta thấy: Số 234 gần với số 200 hơn số 300.

Vậy: Khi làm tròn số **234** đến hàng trăm, ta được số **200**.

• Ta thấy: Số 279 gần với số 300 hơn số 200.

Vậy: Khi làm tròn số **279** đến hàng trăm, ta được số **300**.

**Ví dụ 4: Làm tròn số 450 đến hàng trăm**



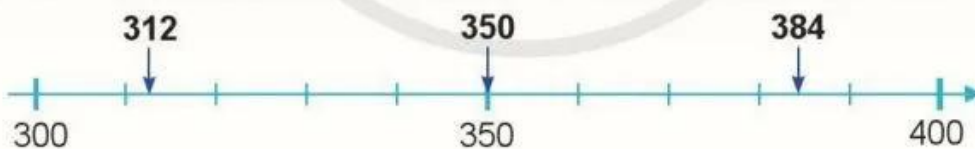
Ta thấy: Số 450 cách đều hai số 400 và 500.

Quy ước: Khi làm tròn số **450** đến hàng trăm, ta được số **500**.

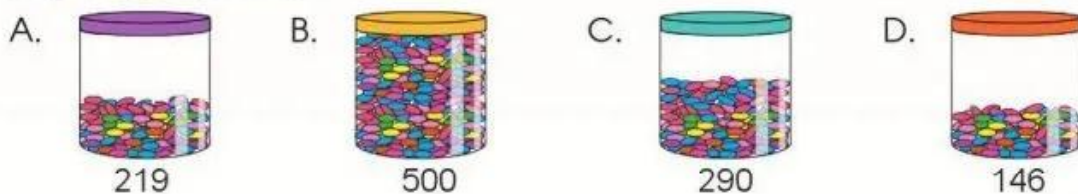
**1** Quan sát tia số rồi làm tròn các số 44, 57, 72, 85 đến hàng chục:



**2** Quan sát tia số sau rồi làm tròn các số 312, 350, 384 đến hàng trăm:



**3** Đức muốn chọn một hộp kẹo có khoảng 200 viên. Theo em, Đức nên chọn hộp kẹo nào?





## LÀM TRÒN SỐ ĐẾN HÀNG NGHÌN, HÀNG CHỤC NGHÌN



**Ví dụ 1: Làm tròn các số 8 100, 8 700 đến hàng nghìn**



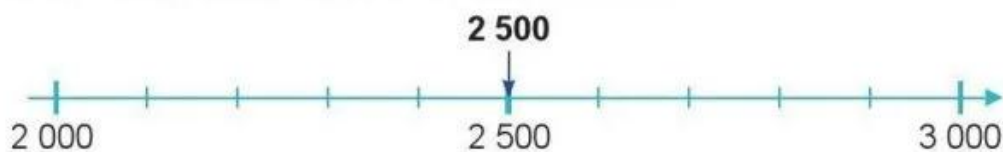
• Ta thấy: Số 8 100 gần với số 8 000 hơn số 9 000.

Vậy: Khi làm tròn số **8 100** đến hàng nghìn, ta được số **8 000**.

• Ta thấy: Số 8 700 gần với số 9 000 hơn số 8 000.

Vậy: Khi làm tròn số **8 700** đến hàng nghìn, ta được số **9 000**.

**Ví dụ 2: Làm tròn số 2 500 đến hàng nghìn**



Ta thấy: Số 2 500 cách đều hai số 2 000 và 3 000.

Quy ước: Khi làm tròn số **2 500** đến hàng nghìn, ta được số **3 000**.