

LUYỆN TẬP

1 $\begin{matrix} > \\ < \\ = \end{matrix}$?

$6\ 378 \text{ ? } 53\ 127$

$24\ 619 \text{ ? } 24\ 619$

$45\ 909 \text{ ? } 42\ 093$

$77\ 115 \text{ ? } 74\ 810$

$89\ 127 \text{ ? } 89\ 413$

$93\ 017 \text{ ? } 93\ 054$

2 Tìm câu sai và sửa lại cho đúng:

a) $43\ 000 > 38\ 000$

b) $4\ 326 < 4\ 321$

c) $24\ 387 > 24\ 598$

d) $12\ 025 > 12\ 018$

3 Cho các số sau:



a) Tìm số lớn nhất.

b) Tìm số bé nhất.

c) Sắp xếp các số trên theo thứ tự từ lớn đến bé.

4 Số ?


a) $13\ 500$ $23\ 500$? ? $53\ 500$?

b) $2\ 607$ $3\ 607$? ? $6\ 607$?

c) $5\ 480$? $5\ 680$? $5\ 880$?

d) $7\ 929$ $7\ 939$? ? ? $7\ 979$


5 Chọn chữ đặt dưới hình vẽ có nhiều dây chun nhất:




A. 2 009 dây



B. 950 dây



C. 2 030 dây



D. 1 230 dây

6 Dưới đây là thông tin về chiều dài một số cây cầu ở Việt Nam. Đọc tên các cây cầu đó theo thứ tự từ ngắn nhất đến dài nhất:



Cầu Cần Thơ nối liền thành phố
Cần Thơ với tỉnh Vĩnh Long dài:
2 750 m



Cầu Nhật Tân ở thành phố
Hà Nội dài:
3 900 m



Cầu Long Biên ở thành phố
Hà Nội dài:
2 290 m



Cầu Bạch Đằng nối hai tỉnh
Quảng Ninh và Hải Phòng dài:
3 054 m

(Nguồn: <https://vi.wikipedia.org>)

ĐIỂM Ở GIỮA. TRUNG ĐIỂM CỦA ĐOẠN THẲNG



1. Điểm ở giữa



- A, C, B là ba điểm thẳng hàng.
- C là *điểm ở giữa* hai điểm A và B.

2. Trung điểm của đoạn thẳng



- O là điểm ở giữa hai điểm M và N.
- Độ dài đoạn thẳng MO bằng độ dài đoạn thẳng ON. Ta viết $MO = ON$. Điểm O được gọi là *trung điểm* của đoạn thẳng MN.

1 Quan sát các hình sau và nêu tên điểm ở giữa hai điểm khác:

