

THỰC HÀNH XEM ĐỒNG HỒ (tiếp theo)



7 giờ 12 phút



10 giờ 27 phút



9 giờ 56 phút
hoặc
10 giờ kém 4 phút

1 Mỗi đồng hồ sau chỉ mấy giờ?



2 Mỗi đồng hồ sau tương ứng với cách đọc nào?



A

a) 2 giờ 7 phút

b) 11 giờ rưỡi

c) 7 giờ 22 phút

d) 9 giờ kém 8 phút

e) 12 giờ 35 phút

g) 10 giờ kém 15 phút



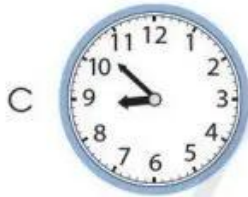
D



B



E



C



G

3 Hai đồng hồ nào dưới đây chỉ cùng thời gian vào buổi chiều hoặc buổi tối?



A



H



D



I



B



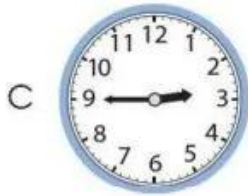
K



E



L



C



M



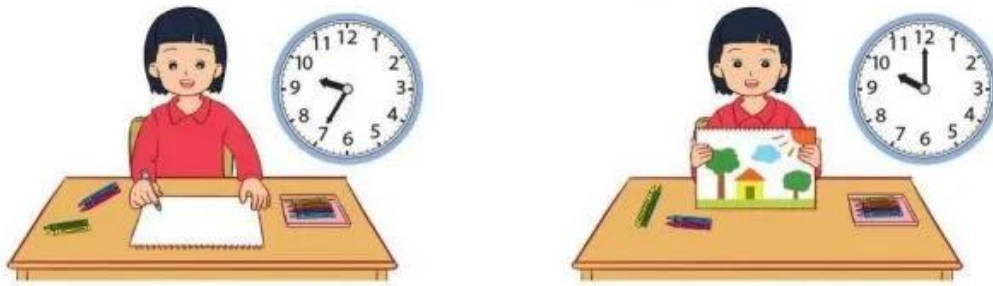
G



N

4 Quan sát tranh vẽ rồi trả lời các câu hỏi:

a) Lan vẽ tranh trong thời gian bao nhiêu phút?



b) Hai bố con đã làm bánh trong thời gian bao nhiêu phút?



5 Trò chơi “Đố bạn”

Kim phút đang chỉ vào số 7.
Đố bạn sau 10 phút nữa
kim phút chỉ vào số mấy?

Kim phút chỉ vào số 9.



THÁNG – NĂM

LỊCH

Tháng 1 có 31 ngày.



Tháng 1						
Thứ Hai	Thứ Ba	Thứ Tư	Thứ Năm	Thứ Sáu	Thứ Bảy	Chủ nhật
						1
2	3	4	5	6	7	8
9	10	11	12	13	14	15
16	17	18	19	20	21	22
23	24	25	26	27	28	29
30	31					

Tháng 2						
Thứ Hai	Thứ Ba	Thứ Tư	Thứ Năm	Thứ Sáu	Thứ Bảy	Chủ nhật
		1	2	3	4	5
6	7	8	9	10	11	12
13	14	15	16	17	18	19
20	21	22	23	24	25	26
27	28					

Ngày 1 tháng 5 là thứ Hai.



Tháng 5						
Thứ Hai	Thứ Ba	Thứ Tư	Thứ Năm	Thứ Sáu	Thứ Bảy	Chủ nhật
1	2	3	4	5	6	7
8	9	10	11	12	13	14
15	16	17	18	19	20	21
22	23	24	25	26	27	28
29	30	31				

Tháng 6						
Thứ Hai	Thứ Ba	Thứ Tư	Thứ Năm	Thứ Sáu	Thứ Bảy	Chủ nhật
			1	2	3	4
5	6	7	8	9	10	11
12	13	14	15	16	17	18
19	20	21	22	23	24	25
26	27	28	29	30		

Tháng 6 có 30 ngày.



Tháng 9						
Thứ Hai	Thứ Ba	Thứ Tư	Thứ Năm	Thứ Sáu	Thứ Bảy	Chủ nhật
				1	2	3
4	5	6	7	8	9	10
11	12	13	14	15	16	17
18	19	20	21	22	23	24
25	26	27	28	29	30	

Tháng 10						
Thứ Hai	Thứ Ba	Thứ Tư	Thứ Năm	Thứ Sáu	Thứ Bảy	Chủ nhật
						1
2	3	4	5	6	7	8
9	10	11	12	13	14	15
16	17	18	19	20	21	22
23	24	25	26	27	28	29
30	31					

Một năm có 12 tháng là: tháng Một, tháng Hai, tháng Ba, tháng Tư, tháng Năm, tháng Sáu, tháng Bảy, tháng Tám, tháng Chín, tháng Mười, tháng Mười một, tháng Mười hai.