

THỰC HÀNH XEM ĐỒNG HỒ



9 giờ 10 phút




9 giờ 15 phút



9 giờ 35 phút

1 Số ?

a)



b)



? giờ ? phút



? giờ ? phút



? giờ ? phút

2 a) Quay kim đồng hồ để đồng hồ chỉ: 6 giờ 5 phút và 6 giờ 10 phút.
Từ 6 giờ 5 phút đến 6 giờ 10 phút là bao nhiêu phút?

b) Từ 11 giờ 25 phút đến 11 giờ 35 phút là bao nhiêu phút?

3 Xem đồng hồ và đọc giờ (theo mẫu):

Mẫu:



4 giờ 35 phút
hoặc
5 giờ kém 25 phút





5 giờ 50 phút
hoặc
6 giờ kém 10 phút



12 giờ 55 phút
hoặc
1 giờ kém 5 phút



4 a) Mỗi đồng hồ sau tương ứng với cách đọc nào?



- a) 4 giờ 10 phút
- b) 7 giờ 25 phút
- c) 12 giờ 15 phút
- d) 8 giờ kém 10 phút
- e) 11 giờ kém 15 phút
- g) 10 giờ kém 5 phút

b) Xem đồng hồ và đọc giờ:



5 a) Nói hoạt động và thời gian diễn ra hoạt động ở mỗi bức tranh sau:



b) Bạn Nam muốn ghi lại thời gian tương ứng với mỗi hoạt động ở câu a, em hãy chỉ dẫn giúp bạn Nam.

Thời gian	Hoạt động
8 giờ 25 phút	Nhảy bao bố
?	Chơi kéo co
?	Ăn trưa
?	Chơi ô ăn quan
?	Truy tìm kho báu



THỰC HÀNH XEM ĐỒNG HỒ (tiếp theo)



7 giờ 12 phút



10 giờ 27 phút



9 giờ 56 phút
hoặc
10 giờ kém 4 phút

1 Mỗi đồng hồ sau chỉ mấy giờ?

