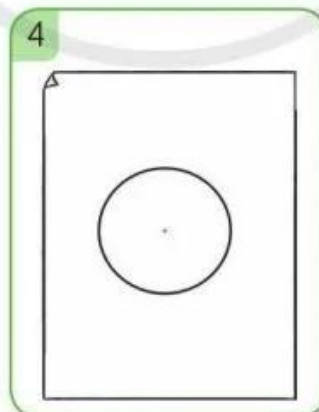
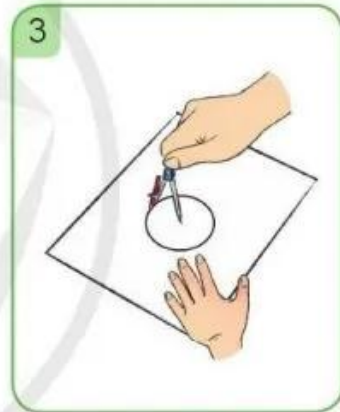

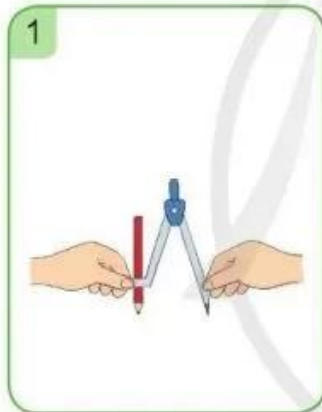


VỀ TRANG TRÍ HÌNH TRÒN

1 a) Quan sát chiếc compa của em rồi chia sẻ với bạn cách sử dụng.



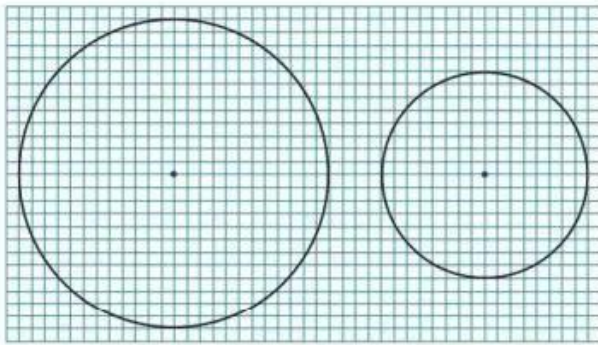
b) **Thực hành:** Sử dụng compa để vẽ đường tròn (theo mẫu).



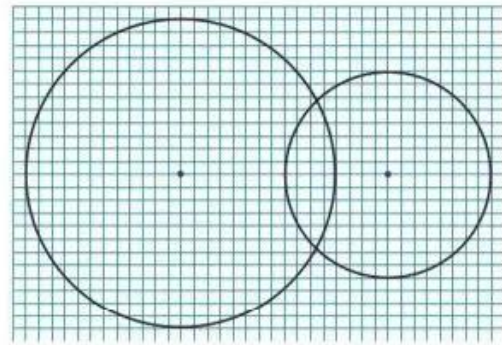
c) Hãy vẽ vào vở của em một đường tròn.

2 Quan sát mỗi hình mẫu dưới đây và thực hiện các yêu cầu:

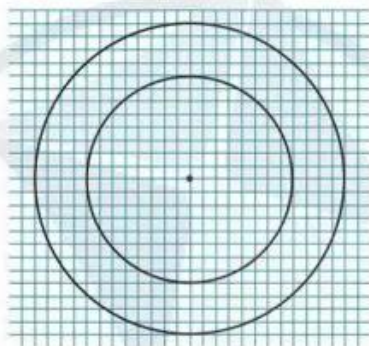
- Nêu cách vẽ hình.
- Thực hành vẽ hình vào vở.



Hình 1

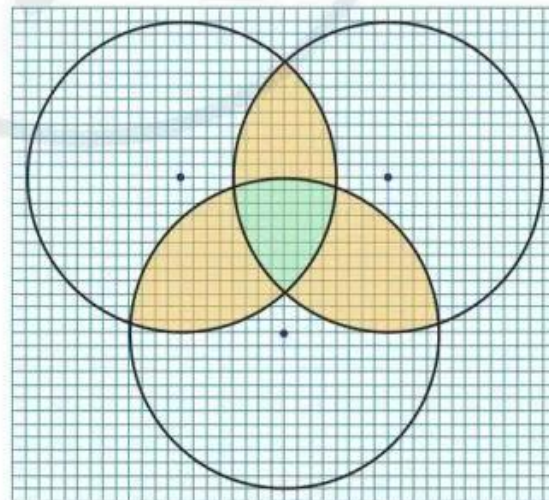
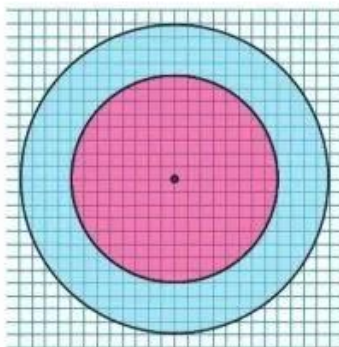


Hình 2



Hình 3

3 a) Tìm cách vẽ trang trí như các hình dưới đây và tô màu theo ý thích của em:

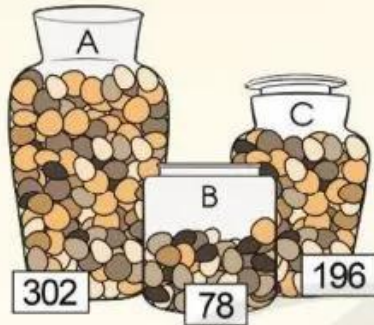


b) Vẽ các hình tròn và trang trí theo ý thích của em.

LÀM TRÒN SỐ ĐẾN HÀNG CHỤC, HÀNG TRĂM

Bình A có khoảng 300 viên sỏi.
Bình B có khoảng 80 viên sỏi.

Bình C có khoảng
200 viên sỏi.



Sao câu trả lời của
các bạn lại là thế nhỉ?



Ví dụ 1: Làm tròn các số 62, 67 đến hàng chục



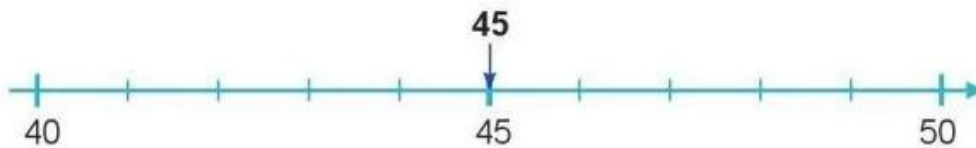
• Ta thấy: Số 62 gần với số 60 hơn số 70.

Vậy: Khi làm tròn số **62** đến hàng chục, ta được số **60** (gọi là làm tròn lùi).

• Ta thấy: Số 67 gần với số 70 hơn số 60.

Vậy: Khi làm tròn số **67** đến hàng chục, ta được số **70** (gọi là làm tròn tiến).

Ví dụ 2: Làm tròn số 45 đến hàng chục



Ta thấy: Số 45 cách đều hai số 40 và 50.

Quy ước: Khi làm tròn số **45** đến hàng chục, ta được số **50**.