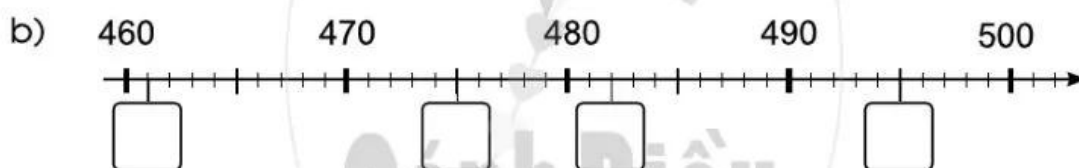


Bài 1

ÔN TẬP VỀ CÁC SỐ TRONG PHẠM VI 1 000

1 Số ?

a)



c) Số liền trước của số 470 là . Số liền sau của số 489 là .

d) 715 gồm trăm chục đơn vị,

ta viết $715 = \square + \square + \square$.

2 Quan sát tranh, thực hiện các yêu cầu sau:


Hải 148 Xuân 112 Mạnh 95 Hương 165

- a) Viết tên bạn thu gom được nhiều vỏ chai nhựa nhất:.....
 b) Viết tên các bạn thu gom số lượng vỏ chai nhựa theo thứ tự từ nhiều đến ít:

.....///

- 3** a) Em hãy ước lượng số con ong, số bông hoa trong hình sau rồi viết số thích hợp vào chỗ chấm:


Ước lượng: Có khoảng con ong.
 Có khoảng bông hoa.



- b) Em hãy đếm số con ong, số bông hoa ở hình trên rồi viết số thích hợp vào chỗ chấm:

Đếm: Có con ong.
 Có bông hoa.

- 4** Số ghế ghi trên vé xem biểu diễn ca nhạc của bố và Ngọc là 231 và 232. Em hãy chỉ dẫn giúp hai bố con Ngọc tìm được ghế của mình.



Trả lời:

