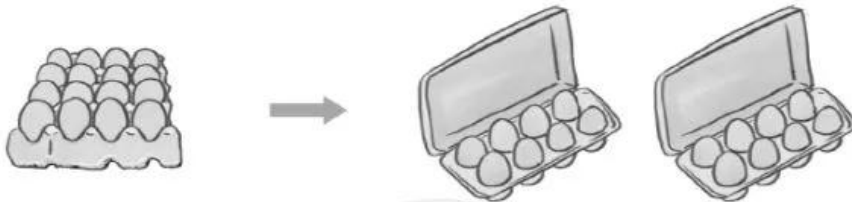


Bài 16

ÔN TẬP VỀ PHÉP CHIA, BẢNG CHIA 2, BẢNG CHIA 5

1) Viết phép chia thích hợp với mỗi tranh vẽ:

a)



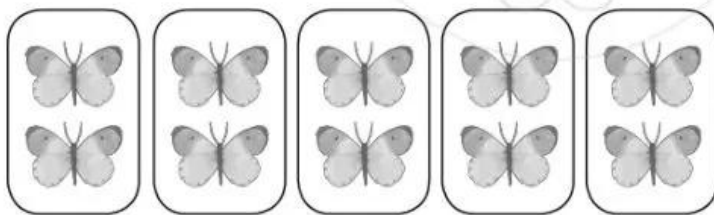
$$\square \circ \square = \square$$

b)



$$\square \circ \square = \square$$

2) Quan sát tranh, viết các phép tính thích hợp:



$$\square \times \square = \square$$

$$\square : \square = \square$$

$$\square : \square = \square$$

3) Tính nhẩm:

$18 : 2 = \dots\dots$

$14 : 2 = \dots\dots$

$30 : 5 = \dots\dots$

$50 : 5 = \dots\dots$

$10 : 2 = \dots\dots$

$20 : 2 = \dots\dots$

$10 : 5 = \dots\dots$

$35 : 5 = \dots\dots$

$4 : 2 = \dots\dots$

$2 : 2 = \dots\dots$

$25 : 5 = \dots\dots$

$45 : 5 = \dots\dots$

4

Giải bài toán sau (theo mẫu):

Mẫu:

Mẹ làm được 10 chiếc bánh, Đức giúp mẹ xếp đều vào 2 đĩa.
Hỏi mỗi đĩa có mấy chiếc bánh?


*Bài giải*

Số chiếc bánh ở mỗi đĩa là:

$$10 : 2 = 5 \text{ (chiếc)}$$

Đáp số: 5 chiếc bánh.

Bài toán: Đoàn tham quan có 15 người được chia thành các nhóm, mỗi nhóm 5 người. Hỏi đoàn tham quan đó đã được chia thành mấy nhóm?

*Bài giải*

Bài 17 BẢNG CHIA 3

1 Tính nhẩm:

$6 : 3 = \dots\dots$

$15 : 3 = \dots\dots$

$30 : 3 = \dots\dots$

$9 : 3 = \dots\dots$

$3 : 3 = \dots\dots$

$27 : 3 = \dots\dots$

$12 : 3 = \dots\dots$

$21 : 3 = \dots\dots$

$18 : 3 = \dots\dots$

2 Tính:

$3 \times 5 = \dots\dots$

$3 \times 6 = \dots\dots$

$3 \times 8 = \dots\dots$

$15 : 3 = \dots\dots$

$18 : 3 = \dots\dots$

$24 : 3 = \dots\dots$

$15 : 5 = \dots\dots$

$18 : 6 = \dots\dots$

$24 : 8 = \dots\dots$

3 Nối mỗi phép tính với kết quả thích hợp:



$30 \text{ kg} : 3$



$27 \text{ l} : 3$



$21 \text{ mm} : 3$



$15 \text{ kg} : 3$



$12 \text{ l} : 3$



$9 \text{ mm} : 3$

