

Bài 18 BẢNG CHIA 4

1 Tính nhẩm:

$16 : 4 = \dots\dots$

$32 : 4 = \dots\dots$

$40 : 4 = \dots\dots$

$8 : 4 = \dots\dots$

$28 : 4 = \dots\dots$

$24 : 4 = \dots\dots$

$20 : 4 = \dots\dots$

$4 : 4 = \dots\dots$

$36 : 4 = \dots\dots$

2 Tính:

a)

$$\begin{array}{l} 4 \times 5 = \dots\dots \\ 20 : 4 = \dots\dots \\ 20 : 5 = \dots\dots \end{array}$$

$$\begin{array}{l} 4 \times 6 = \dots\dots \\ 24 : 4 = \dots\dots \\ 24 : 6 = \dots\dots \end{array}$$

$$\begin{array}{l} 4 \times 9 = \dots\dots \\ 36 : 4 = \dots\dots \\ 36 : 9 = \dots\dots \end{array}$$

b)

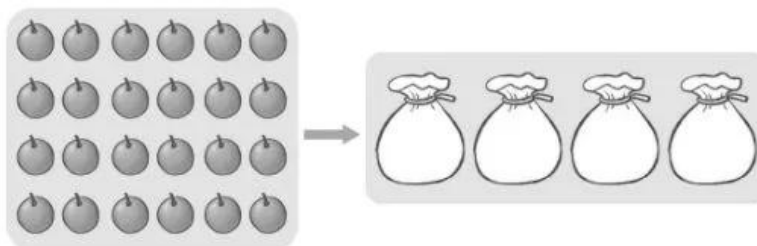
$12 \text{ kg} : 4 = \dots\dots\dots$

$28 \text{ mm} : 4 = \dots\dots\dots$

$40 \text{ l} : 4 = \dots\dots\dots$

3 Số ?


a)



Có 24 quả cam, xếp đều vào 4 túi. Mỗi túi có quả cam.

Ta có phép chia : = .

b)




Có 12 chiếc ghế, xếp mỗi hàng 4 chiếc. Số ghế đó đủ xếp thành hàng ghế. Ta có phép chia : = .


- 4** Bác sĩ đưa cho Nam lọ thuốc có 20 viên và dặn Nam mỗi ngày uống 4 viên. Hỏi Nam cần uống hết lọ thuốc đó trong mấy ngày?



Bài giải



- 5** Kể một tình huống thực tế có sử dụng phép chia trong bảng chia 4:



Bài 19 BẢNG CHIA 6

1 Tính:

a)

$6 \times 2 = \dots\dots$	$6 \times 7 = \dots\dots$	$6 \times 9 = \dots\dots$
$12 : 6 = \dots\dots$	$42 : 6 = \dots\dots$	$54 : 6 = \dots\dots$
$12 : 2 = \dots\dots$	$42 : 7 = \dots\dots$	$54 : 9 = \dots\dots$

b)

$24 \text{ g} : 6 = \dots\dots\dots$	$60 \text{ cm} : 6 = \dots\dots\dots$	$36 \text{ l} : 6 = \dots\dots\dots$
--------------------------------------	---------------------------------------	--------------------------------------

2 Số ?

Số bị chia	12	30	24	18	16	45	42	36	54
Số chia	6	6	3	6	4	5	6	6	6
Thương	2								

3 Số ?

a) Có 18 quả dâu tây, chia đều cho 6 bạn. Mỗi bạn được quả dâu tây. Ta có phép chia : = .

