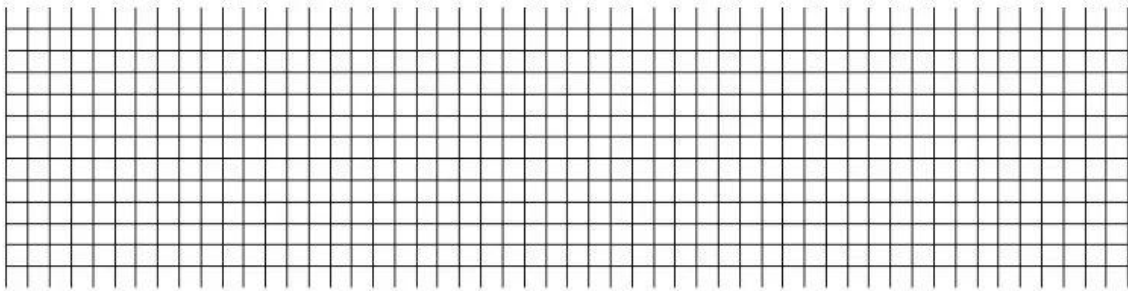


Bài giải



5 Giải các bài toán sau (theo mẫu):

Mẫu: Hà có 12 chiếc kẹp tóc gắn hoa, 8 chiếc kẹp tóc gắn nơ. Hỏi Hà có số kẹp tóc gắn hoa nhiều hơn số kẹp tóc gắn nơ mấy chiếc?

Bài giải


Hà có số kẹp tóc gắn hoa nhiều hơn số kẹp tóc gắn nơ là:

$$12 - 8 = 4 \text{ (chiếc)}$$

Đáp số: 4 chiếc kẹp tóc.


a) Duy cắt được 9 ngôi sao, Hiền cắt được 11 ngôi sao. Hỏi Hiền cắt được nhiều hơn Duy mấy ngôi sao?

Bài giải



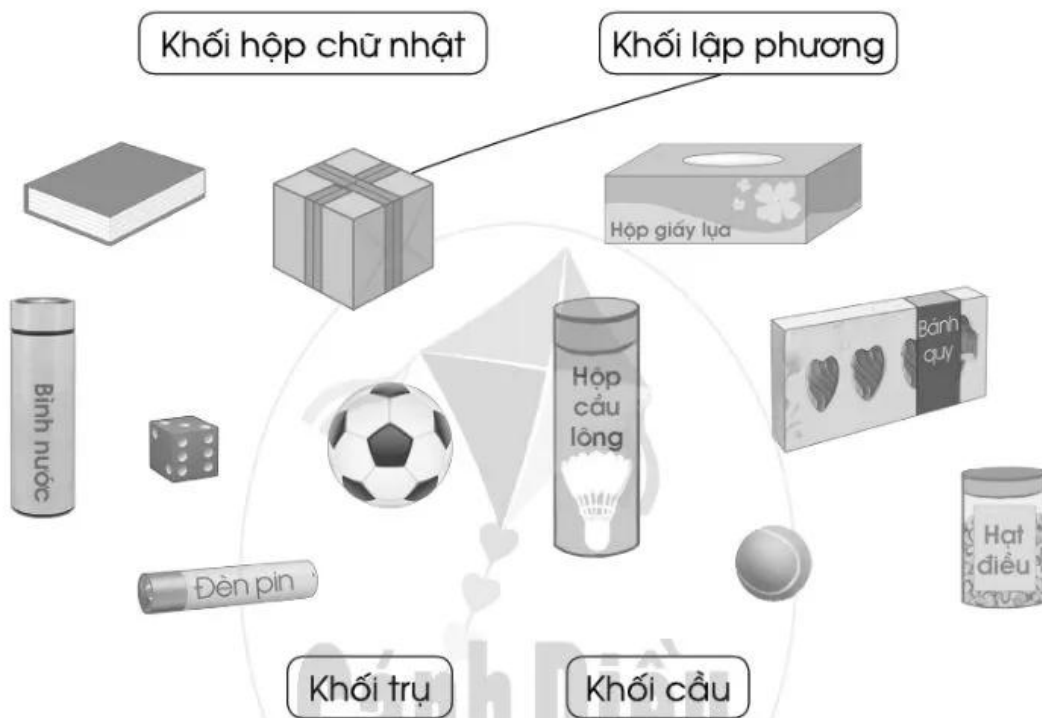
b) Chú Tư thả xuống ao 241 con cá chép, 38 con cá rô phi. Hỏi chú Tư đã thả số cá rô phi ít hơn số cá chép bao nhiêu con?

Bài giải




Bài 3 ÔN TẬP VỀ HÌNH HỌC VÀ ĐO LƯỜNG

1 Nói mỗi đồ vật sau với tên gọi thích hợp (theo mẫu):



2 a) Đo độ dài các đoạn thẳng sau rồi viết kết quả vào chỗ chấm:



Đoạn thẳng dài nhất trong các đoạn thẳng trên là: