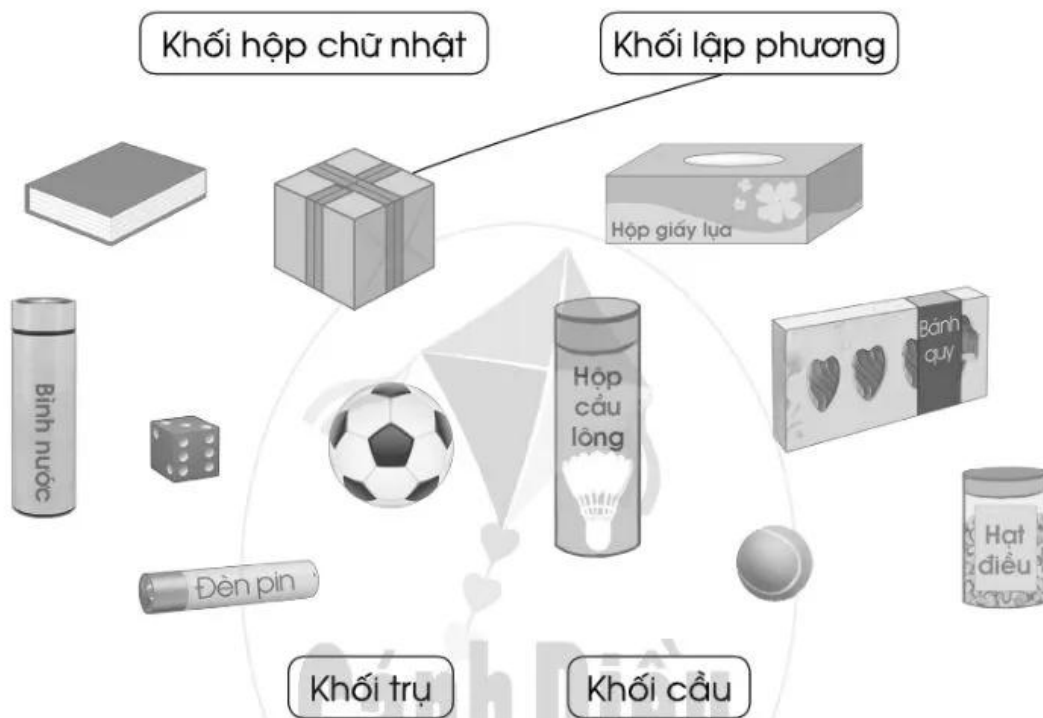


Bài 3 ÔN TẬP VỀ HÌNH HỌC VÀ ĐO LƯỜNG

1 Nói mỗi đồ vật sau với tên gọi thích hợp (theo mẫu):



2 a) Đo độ dài các đoạn thẳng sau rồi viết kết quả vào chỗ chấm:



Đoạn thẳng dài nhất trong các đoạn thẳng trên là:

b) Vẽ đoạn thẳng MN có độ dài 1 dm:

.....

3 Vẽ thêm kim phút để đồng hồ chỉ giờ thích hợp:

a)



7 giờ



1 giờ rưỡi



12 giờ 15 phút

b)



14 giờ 30 phút



22 giờ




16 giờ 15 phút

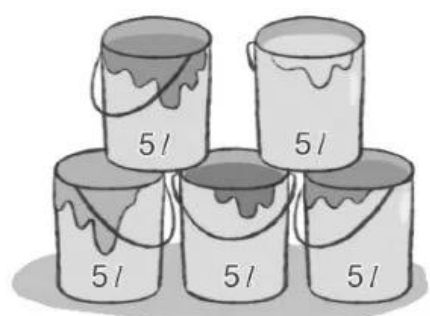
4 Số ?



l

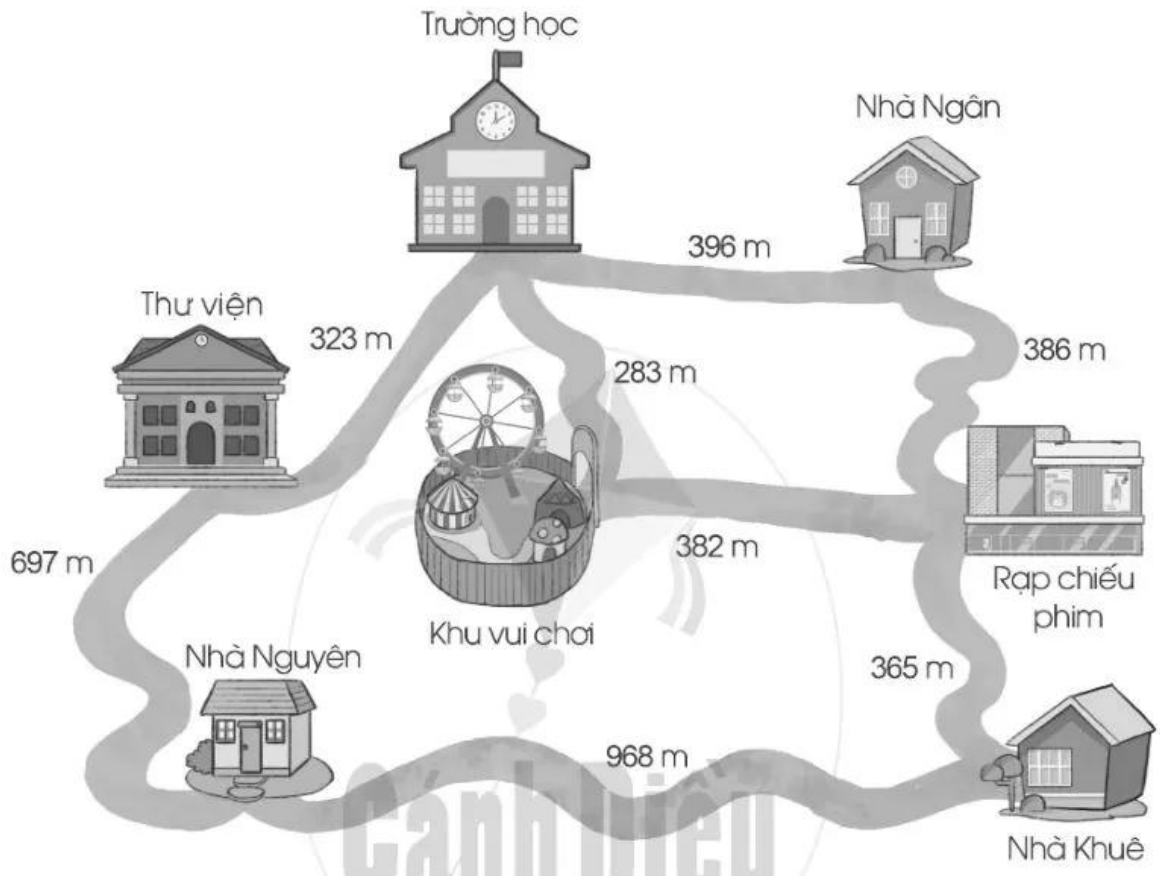


l



l

5 Quan sát sơ đồ sau rồi viết vào chỗ chấm cho thích hợp:



a) Quãng đường từ nhà Nguyên đến nhà Khuê dài hơn quãng đường từ nhà Nguyên đến thư viện m.

b) Theo em, nếu đi từ nhà Ngân đến khu vui chơi thì đi đường nào gần hơn?



Trả lời:

.....

.....

Bài 4 MI-LI-MÉT

1) a) Mỗi đoạn dây sau dài bao nhiêu mi-li-mét?



.....

.....

b) Đoạn dây nào ở câu a dài hơn?

Trả lời:

2) Số ?

a) 1 cm = mm

b) 30 mm = cm


c) 1 dm = mm

8 cm = mm


100 mm = cm

1 m = mm

3) Chọn đơn vị đo độ dài (mm, cm, m) để viết vào chỗ chấm cho thích hợp:



Con hươu cao cổ cao 5



Con cá rô phi dài 20



Con kiến dài 5