



Bài 4 MI-LI-MÉT

1) a) Mỗi đoạn dây sau dài bao nhiêu mi-li-mét?



.....

.....

b) Đoạn dây nào ở câu a dài hơn?

Trả lời:

2) Số ?

a) 1 cm = mm

b) 30 mm = cm


c) 1 dm = mm

8 cm = mm


100 mm = cm

1 m = mm

3) Chọn đơn vị đo độ dài (mm, cm, m) để viết vào chỗ chấm cho thích hợp:



Con hươu cao cổ cao 5



Con cá rô phi dài 20



Con kiến dài 5

4 Thực hành: Đo một số đồ vật và viết kết quả đo.



Kết quả đo:

Bút chì của em dài:

Cái tẩy của em dài:

.....

.....

.....

Bài 5

ÔN TẬP VỀ PHÉP NHÂN, BẢNG NHÂN 2, BẢNG NHÂN 5

1) Viết phép nhân thích hợp với mỗi tranh vẽ:



a) 2 được lấy 1 lần

$$\square \circ \square = \square$$

b) 2 được lấy 2 lần

$$\square \circ \square = \square$$

c) 2 được lấy 3 lần

$$\square \circ \square = \square$$

2) Viết phép nhân thích hợp với mỗi tranh vẽ:



a) 5 được lấy 1 lần

$$\square \circ \square = \square$$

b) 5 được lấy 2 lần

$$\square \circ \square = \square$$

c) 5 được lấy 3 lần

$$\square \circ \square = \square$$

3) Tính nhẩm:

$2 \times 7 = \dots\dots$

$2 \times 4 = \dots\dots$

$5 \times 5 = \dots\dots$

$5 \times 6 = \dots\dots$

$2 \times 5 = \dots\dots$

$2 \times 9 = \dots\dots$

$5 \times 7 = \dots\dots$

$5 \times 8 = \dots\dots$

$2 \times 2 = \dots\dots$

$2 \times 6 = \dots\dots$

$5 \times 3 = \dots\dots$

$5 \times 9 = \dots\dots$