

Bài 12 : THỰC HÀNH

NHẬN BIẾT ĐẶC ĐIỂM MÔI TRƯỜNG ĐỚI NÓNG

1. Có ba ảnh về các kiểu môi trường đới nóng, xác định từng ảnh thuộc kiểu môi trường nào ?



A - Xa-ha-ra

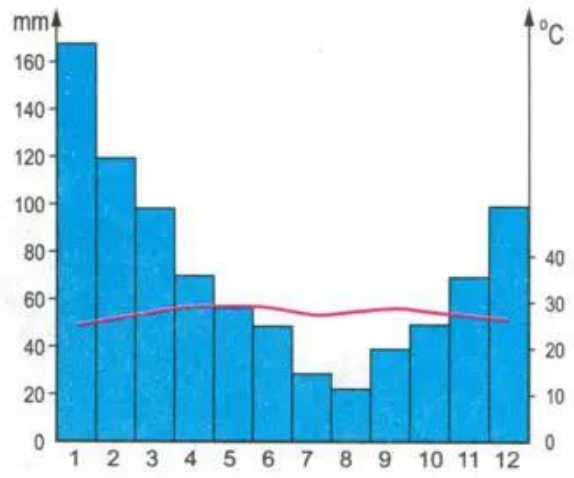


B - Công viên quốc gia Se-ran-gat (Tan-da-ni-a)

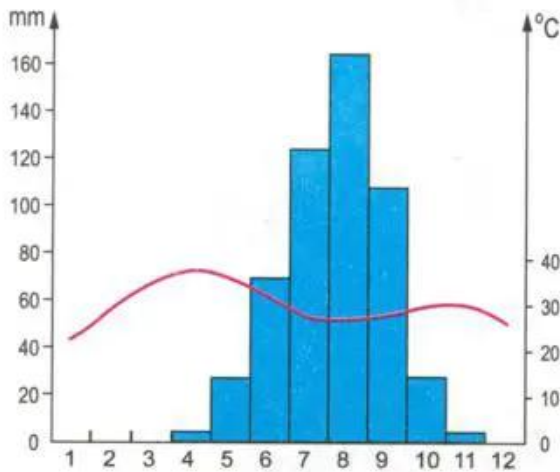


C - Bắc Công-gô

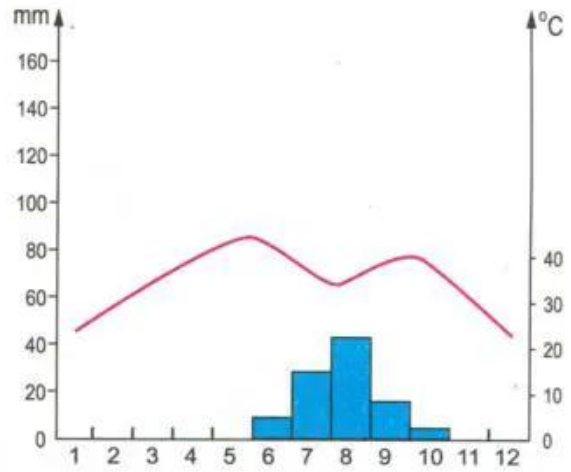
2. Trong ba biểu đồ nhiệt độ và lượng mưa dưới đây, hãy chọn biểu đồ phù hợp với ảnh xavan kèm theo.



A

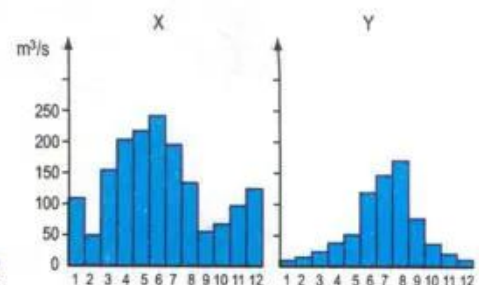
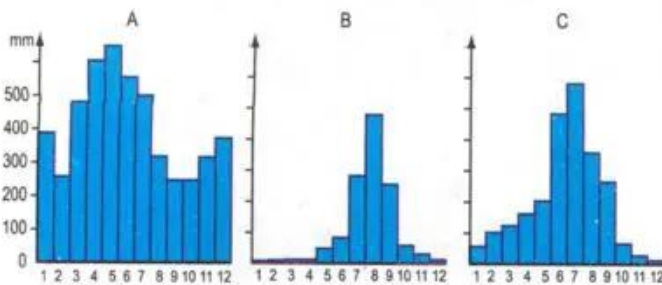


B

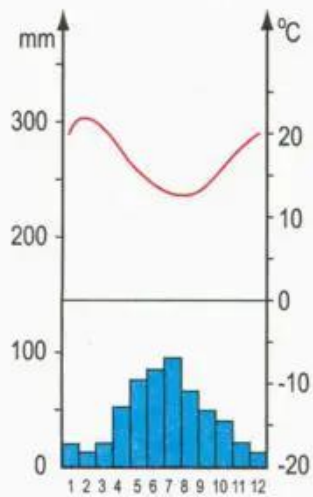


C

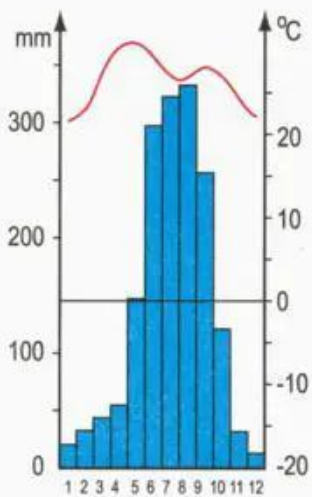
3. Có ba biểu đồ lượng mưa (A - B - C) và hai biểu đồ lưu lượng nước của các con sông (X - Y), hãy chọn và sắp xếp thành hai cặp sao cho phù hợp.



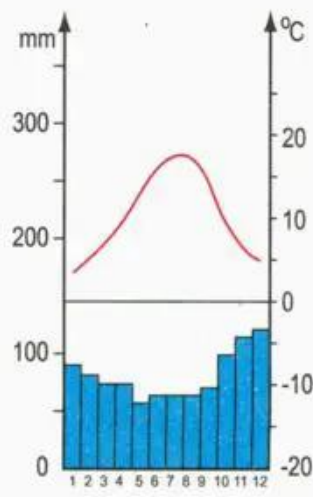
4. Quan sát các biểu đồ nhiệt độ và lượng mưa dưới đây để chọn ra một biểu đồ thuộc đới nóng. Cho biết lí do chọn.



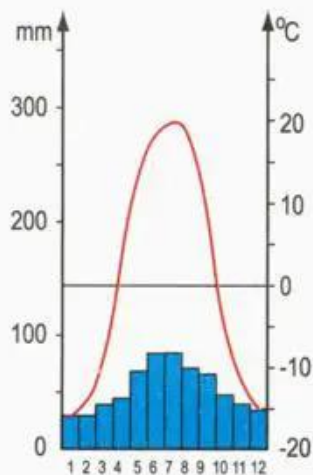
A



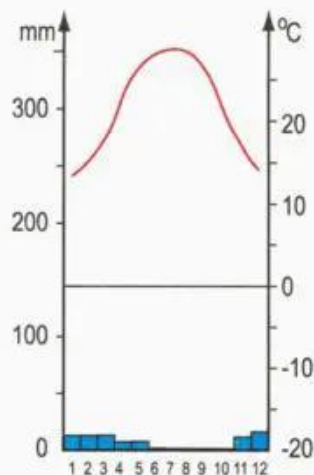
B



C



D



E