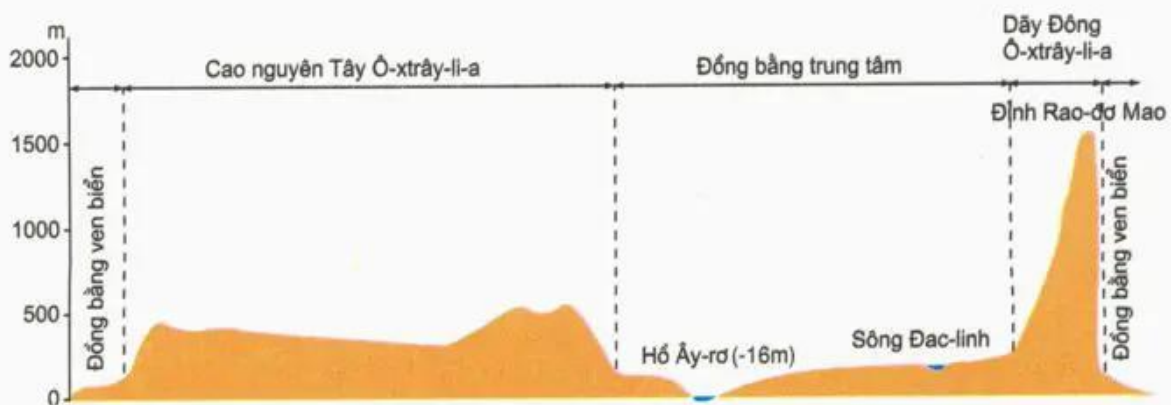


Bài 50 : THỰC HÀNH

VIẾT BÁO CÁO VỀ ĐẶC ĐIỂM TỰ NHIÊN CỦA Ô-XTRÂY-LI-A

1. Dựa vào hình 48.1 và lát cắt địa hình dưới đây, trình bày đặc điểm địa hình Ô-xtrây-li-a theo gợi ý sau :

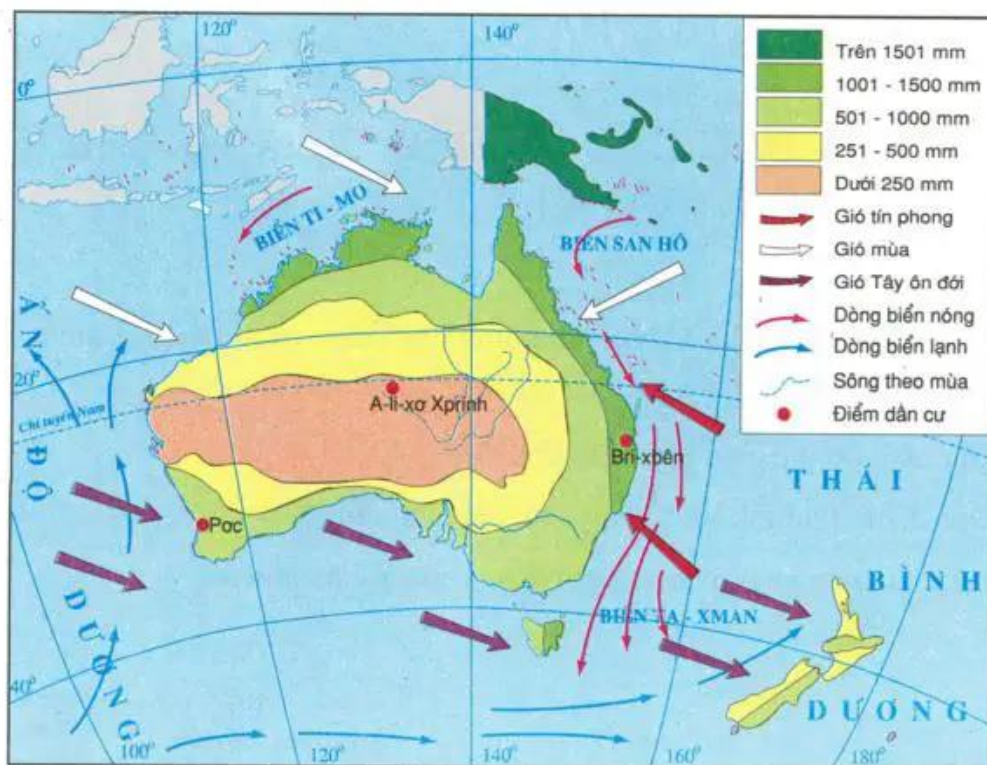
- Địa hình có thể chia làm mấy khu vực ?
- Đặc điểm địa hình và độ cao chủ yếu của mỗi khu vực.
- Đỉnh núi cao nhất nằm ở đâu ? Cao khoảng bao nhiêu ?



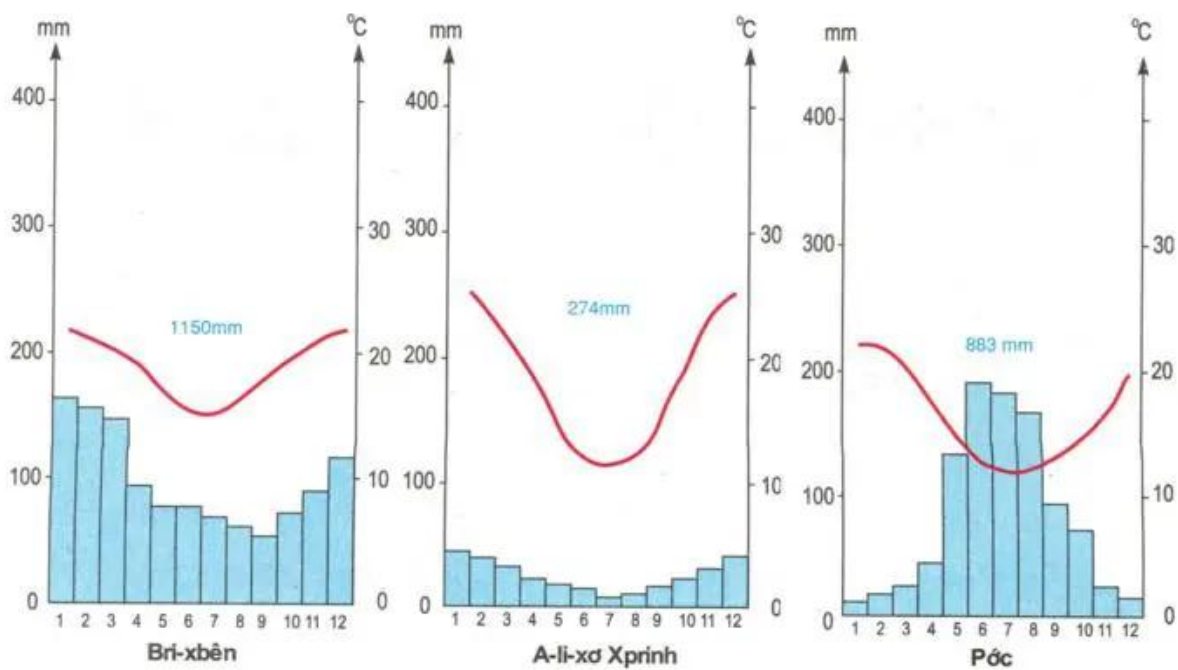
Hình 50.1 - Lát cắt địa hình lục địa Ô-xtrây-li-a theo vĩ tuyến 30°N

2. Dựa vào các hình 48.1, 50.2 và 50.3, nêu nhận xét về khí hậu của lục địa Ô-xtrây-li-a theo gợi ý sau :

- Các loại gió và hướng gió thổi đến lục địa Ô-xtrây-li-a.
- Sự phân bố lượng mưa trên lục địa Ô-xtrây-li-a. Giải thích sự phân bố đó.
- Sự phân bố hoang mạc ở lục địa Ô-xtrây-li-a. Giải thích sự phân bố đó.



Hình 50.2 - Lược đồ hướng gió và sự phân bố lượng mưa ở lục địa Ô-xtrây-li-a và các đảo lân cận



Hình 50.3 - Biểu đồ nhiệt độ và lượng mưa của một số địa điểm trên lục địa Ô-xtrây-li-a