

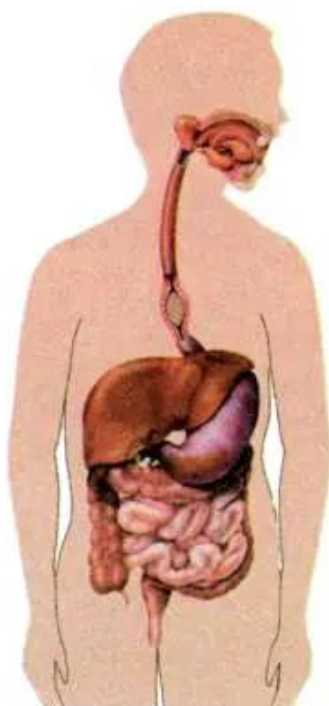


Bài 3

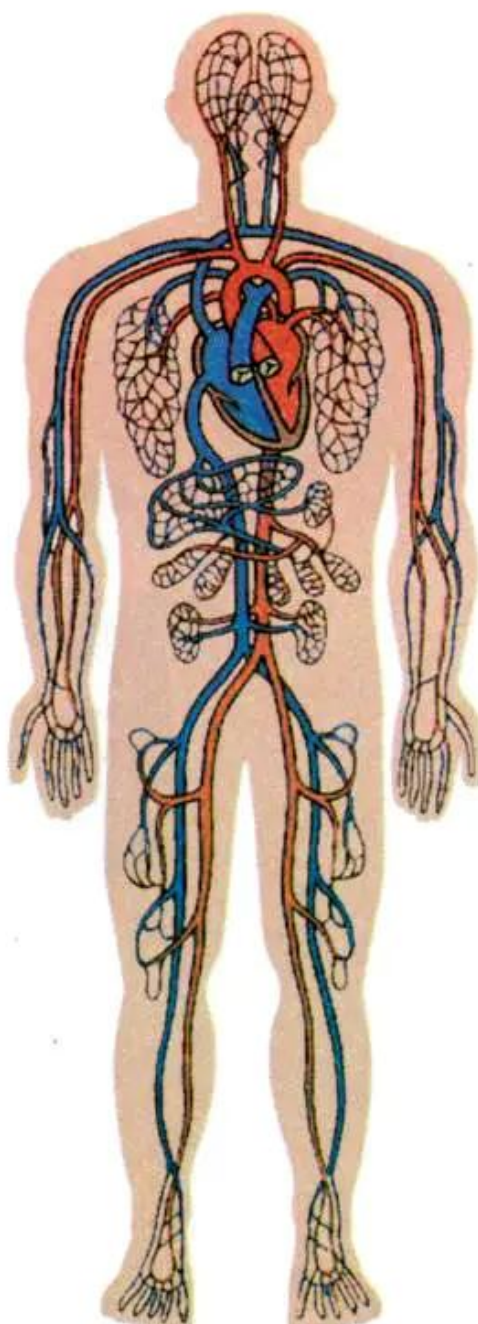
Trao đổi chất ở người (tiếp theo)



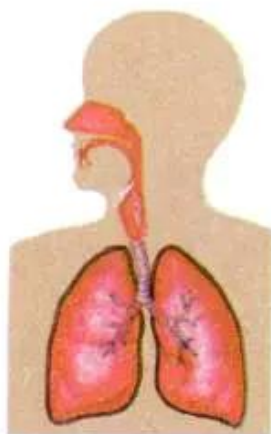
Các cơ quan dưới đây có chức năng gì trong quá trình trao đổi chất ?



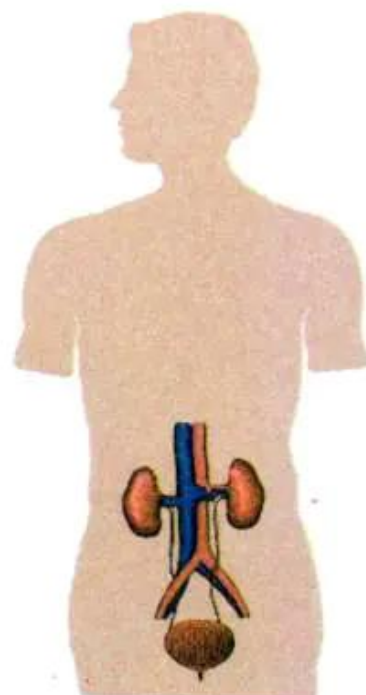
1



3



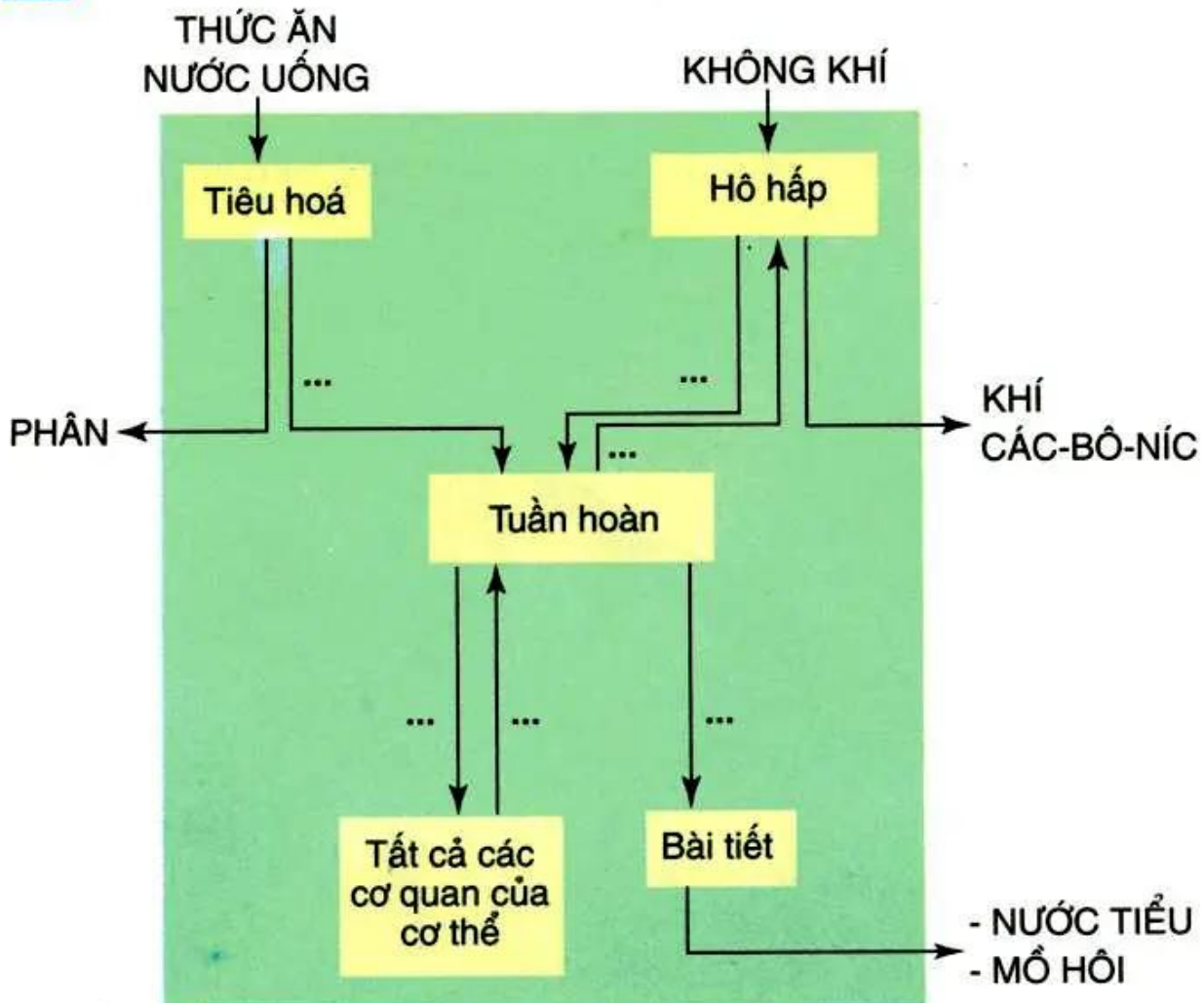
2



4



“Ghép chữ vào chỗ ... trong sơ đồ”.



5 Sơ đồ mối liên hệ giữa một số cơ quan trong quá trình trao đổi chất



- Trình bày mối liên hệ giữa các cơ quan : tiêu hoá, hô hấp, tuần hoàn, bài tiết trong quá trình trao đổi chất.
- Điều gì sẽ xảy ra nếu một trong các cơ quan trên ngừng hoạt động ?



Nhờ sự hoạt động phối hợp nhịp nhàng của các cơ quan hô hấp, tiêu hoá, tuần hoàn và bài tiết mà sự trao đổi chất diễn ra bình thường, cơ thể khoẻ mạnh. Nếu một trong các cơ quan trên ngừng hoạt động, cơ thể sẽ chết.