

Bài 37

PHÉP NHÂN



Khám phá

Mỗi đĩa có 2 quả cam.  
3 đĩa như vậy có tất cả  
mấy quả cam?



$$2 + 2 + 2 = 6$$

Mỗi đĩa có 2 quả cam. 3 đĩa như vậy có tất cả 6 quả cam.  
Ta chuyển  $2 + 2 + 2 = 6$  thành phép nhân:

$$2 \times 3 = 6.$$

Đọc là: Hai nhân ba bằng sáu.

Dấu  $\times$  là dấu nhân.



$$3 + 3 = 6$$

Mỗi đĩa có 3 quả cam. 2 đĩa như vậy có tất cả 6 quả cam.

Ta chuyển  $3 + 3 = 6$  thành phép nhân:

$$3 \times 2 = 6.$$

Đọc là: Ba nhân hai bằng sáu.

Mỗi đĩa có 3 quả cam.  
2 đĩa như vậy có tất cả  
mấy quả cam?



c) Nhận xét:

$$2 \times 3 = 2 + 2 + 2$$

$$3 \times 2 = 3 + 3$$


1 Số ?

a)



$$2 + 2 + 2 + 2 + 2 = ?$$

$$2 \times ? = ?$$



$$5 + 5 = ?$$

$$5 \times ? = ?$$

b)



$$3 \times 5 = ? + ? + ? + ? + ? = ?$$

$$5 \times 3 = ? + ? + ? = ?$$

$$3 \times 5 = ?$$

$$5 \times 3 = ?$$

2 Tìm phép nhân thích hợp.





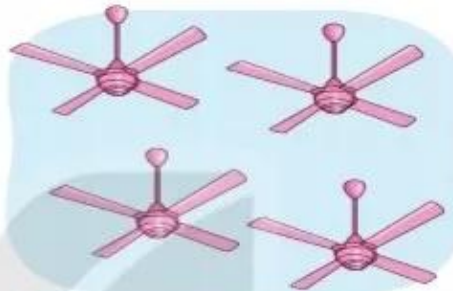
## luyện tập

- 1 a) Viết  $2 + 2 + 2 + 2 + 2 = 10$  thành phép nhân.  
 b) Viết phép nhân  $5 \times 7 = 35$  thành phép cộng các số hạng bằng nhau.

- 2 Tìm phép nhân phù hợp với câu trả lời cho mỗi câu hỏi.



Có bao nhiêu cái ghế?



Có bao nhiêu cánh quạt?

$4 \times 4 = 16$

$2 \times 5 = 10$

$2 \times 6 = 12$

$6 \times 3 = 18$



Có bao nhiêu bút chì màu?



Có bao nhiêu cái tai thỏ?

- 3 Tính (theo mẫu).

a)  $5 \times 4$

b)  $8 \times 2$

c)  $3 \times 6$

d)  $4 \times 3$

Mẫu:  $5 \times 4 = 5 + 5 + 5 + 5 = 20$

$5 \times 4 = 20$