


# Bài 43

## BẢNG CHIA 2



**Khám phá**

• Mỗi đĩa có 2 quả cam, 4 đĩa có 8 quả cam.  
 • 8 quả cam chia vào các đĩa, mỗi đĩa 2 quả. Được 4 đĩa cam như vậy.

a) 

$2 \times 4 = 8 \quad \rightarrow \quad 8 : 2 = 4$



b) Hoàn thành bảng chia 2.

Bảng nhân 2	Bảng chia 2
$2 \times 1 = 2$	$2 : 2 = 1$
$2 \times 2 = 4$	$4 : 2 = 2$
$2 \times 3 = 6$	$6 : 2 = 3$
$2 \times 4 = 8$	$8 : 2 = ?$
$2 \times 5 = 10$	$10 : 2 = ?$
$2 \times 6 = 12$	$12 : 2 = ?$
$2 \times 7 = 14$	$14 : 2 = ?$
$2 \times 8 = 16$	$16 : 2 = ?$
$2 \times 9 = 18$	$18 : 2 = ?$
$2 \times 10 = 20$	$20 : 2 = 10$

Lập bảng chia 2 từ bảng nhân 2.




**hoạt động**

1 Số ?

:	12	10	16	8	14	20
	2	2	2	2	2	2
	6	?	?	?	?	10

2 Tính nhẩm.



3 Đàn gà đang ở cạnh đồng rơm. Viết cho biết có tất cả 20 cái chân gà. Đố em biết đàn gà đó có bao nhiêu con gà?



1 Số ?

a)


Thừa số	2	2	2	2	2	2
Thừa số	4	6	5	8	9	10
Tích	8	?	?	?	?	?

b)

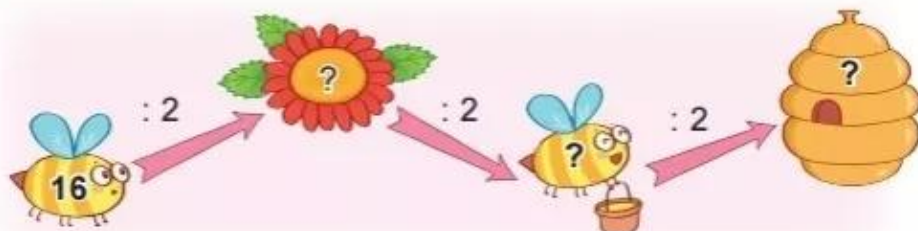
Số bị chia	8	6	16	20	14	18
Số chia	2	2	2	2	2	2
Thương	4	?	?	?	?	?

2 Số ?

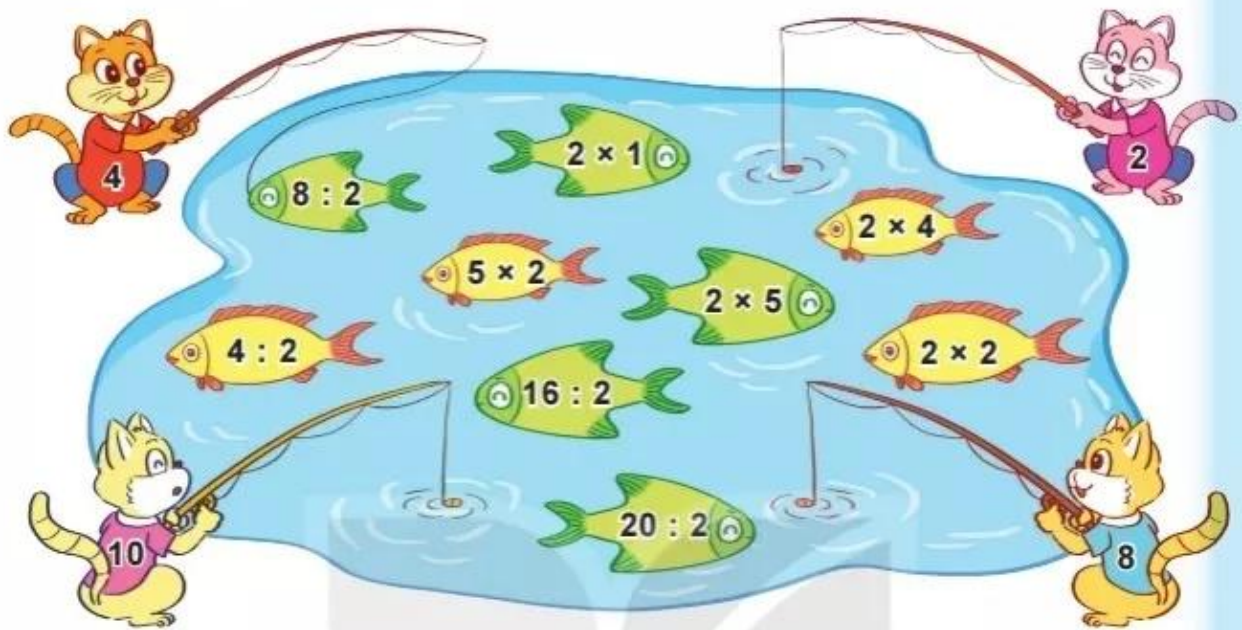
a)



b)



3 Mèo câu được các con cá ghi phép tính có kết quả là số trên áo của nó.



- Mỗi con mèo câu được bao nhiêu con cá?
- Con mèo nào câu được nhiều cá nhất?

4 Vào bữa cơm gia đình, Mai lấy đũa cho cả nhà. Mai lấy 12 chiếc đũa chia thành các đôi thì vừa đủ mỗi người một đôi. Hỏi gia đình Mai có mấy người?

