

Chủ đề  
**9**

# LÀM QUEN VỚI HÌNH KHỐI

## Bài 46

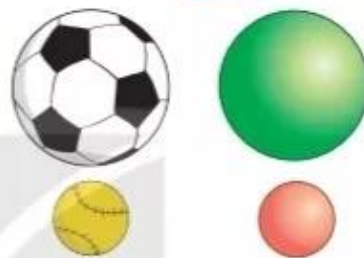
### KHỐI TRỤ, KHỐI CẦU



Khám phá

Khối trụ

Khối cầu



hoạt động

1 Hình nào là khối trụ? Hình nào là khối cầu?



2 a) Mỗi vật sau có dạng khối gì?



b) Hãy nêu tên một số đồ vật có dạng khối trụ hoặc khối cầu mà em biết.

3 Quan sát tranh rồi chỉ ra hình có dạng khối trụ, hình có dạng khối cầu.



 **luyện tập**

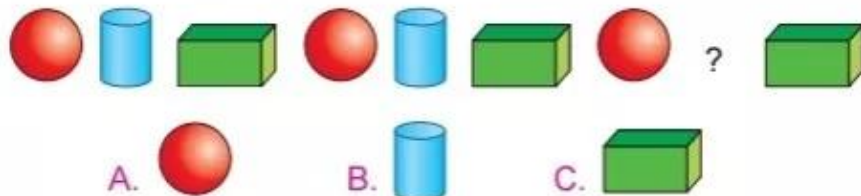
1 Số ?




Trong bức tranh có:

- a) ? đèn lồng dạng khối trụ.      b) ? đèn lồng dạng khối cầu.

2 Chọn hình thích hợp đặt vào dấu "?".



- 3 Bạn khối cầu sẽ rơi vào khoang ghi phép tính có kết quả lớn nhất. Khoang đó có dạng khối trụ hay khối cầu?



- 4 Nếu xếp các hộp có dạng khối trụ theo cách dưới đây thì hình D sẽ cần bao nhiêu hộp?

