



# Bài 50

## SO SÁNH CÁC SỐ TRÒN TRĂM, TRÒN CHỤC



### khám phá

a) So sánh các số tròn trăm.



$200 < 300$

$300 > 200$

$200 < 300$

b) So sánh các số tròn chục.



$120 > 110$

$110 < 120$


$120 > 110$



$250 < 350$

$350 > 250$

$250 < 350$



$610 > 590$

$590 < 610$


$610 > 590$



### hoạt động


1 Đếm rồi so sánh các số tròn trăm.

a)



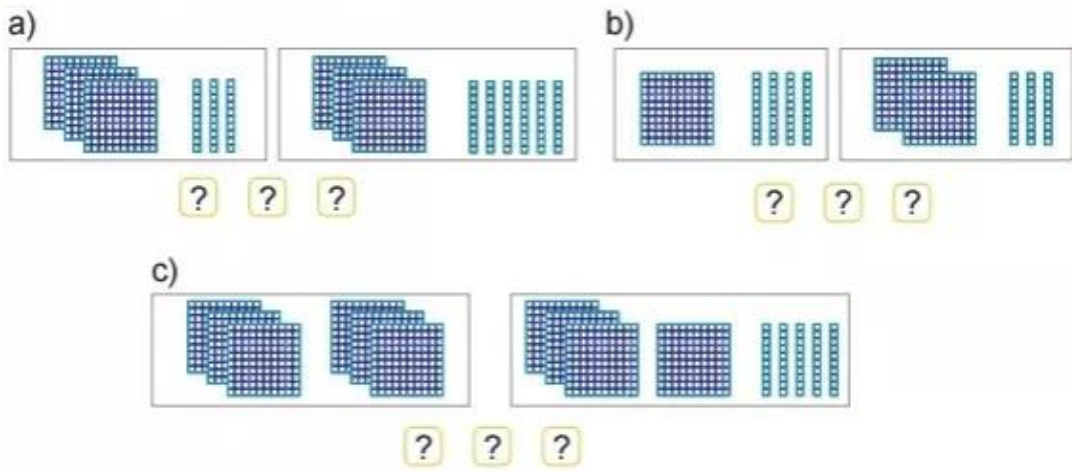
$400 > 200$

b)



$?$   $?$   $?$

**2** Đếm rồi so sánh các số tròn chục.



**3** >, <, = ?

800 ? 600      370 ? 470

450 ? 550      >      <      1 000 ? 900

80 ? 20 + 60      390 ? 930



**4** a) Ảnh thẻ của mỗi bạn đã che đi số nào?



b) Trong các số đã bị che, số nào lớn nhất, số nào bé nhất?


 **luyện tập**

**1** Đ, S ?

- 700 < 900 ?      520 = 250 ?
- 890 > 880 ?      270 < 720 ?
- 190 = 190 ?      460 > 640 ?



- 2) Hãy gắn các biển số lên mỗi nhà kho để các ngôi nhà được đánh số theo thứ tự từ lớn đến bé.



- 3) Rô-bốt cần đổi chỗ hai tảng đá nào để có các số theo thứ tự từ bé đến lớn?



- 4) a) Tìm số lớn nhất trong các số ghi ở các toa tàu.  
b) Đổi chỗ hai toa tàu để được các toa ghi các số theo thứ tự từ bé đến lớn.



- 5) Các bạn gấu có cân nặng là: 480 kg, 400 kg và 540 kg.  
Dựa vào hình vẽ, tìm cân nặng của mỗi bạn gấu.

