

Bài 52

VIẾT SỐ THÀNH TỔNG CÁC TRĂM, CHỤC, ĐƠN VỊ



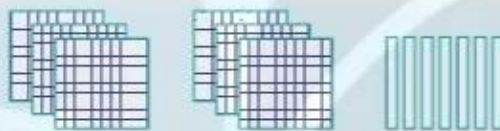
khám phá



Số 345 gồm
3 trăm, 4 chục và 5 đơn vị.
Ta viết: $345 = 300 + 40 + 5$



Số 408 gồm
4 trăm, 0 chục và 8 đơn vị.
Ta viết: $408 = 400 + 8$




Số 670 gồm 6 trăm, 7 chục và 0 đơn vị.
Ta viết: $670 = 600 + 70$



hoạt động

KẾT NỐI TRI THỨC
VỚI CUỘC SỐNG

1 Mỗi số được viết thành tổng nào?



2) Viết các số 139, 765, 992, 360, 607 thành tổng (theo mẫu).

Mẫu: $123 = 100 + 20 + 3$

$104 = 100 + 4$

$450 = 400 + 50$



3) Số ?

Sóc nhật hạt dẻ rồi cất giữ như sau:

- Cứ đủ 100 hạt, sóc cho vào 1 giỏ;
- Cứ đủ 10 hạt, sóc cho vào 1 túi.

a) Hôm qua:



Hôm qua sóc nhật được 132 hạt dẻ.

b) Hôm nay:



Hôm nay sóc nhật được ? hạt dẻ.


c) Nếu ngày mai sóc có 310 hạt dẻ thì sóc cần ? giờ và ? túi để cất giữ hết số hạt dẻ đó.



luyện tập

1) Đọc, viết số, biết số đó gồm:

a)

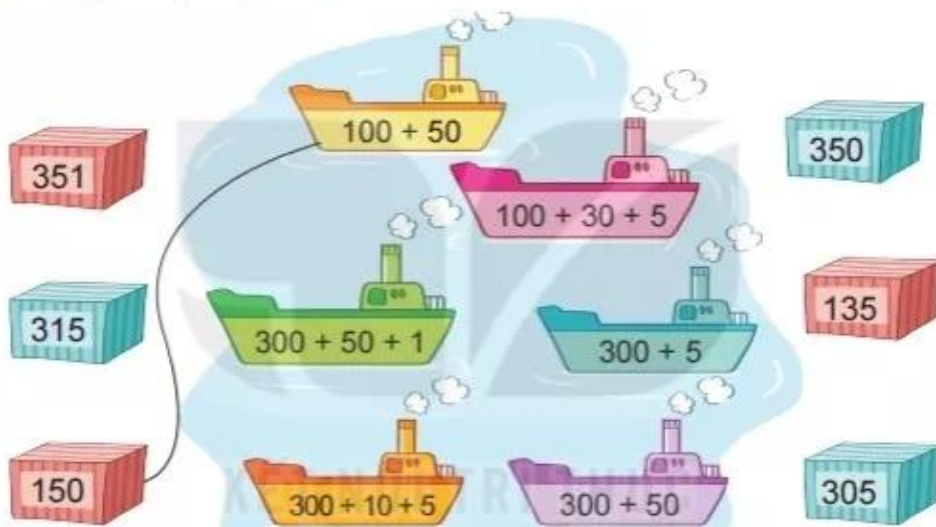


b)





2 Mỗi thùng hàng xếp lên tàu nào?



3 Số ?

$$993 = 900 + 90 + ?$$

$$503 = ? + 3$$

$$514 = ? + 10 + 4$$

$$904 = 900 + ?$$

4 Số ?

Rô-bốt cát giữ 117 đồng vàng như sau:

- 1 hòm đựng 100 đồng vàng;
- 1 túi đựng 10 đồng vàng.

Như vậy Rô-bốt còn lại ? đồng vàng bên ngoài.

