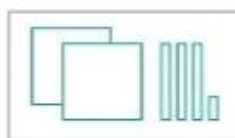
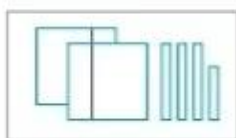


Bài 53

SO SÁNH CÁC SỐ CÓ BA CHỮ SỐ



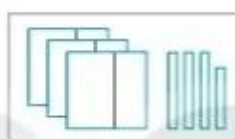
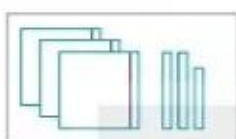
khám phá



$237 > 233$

$233 < 237$

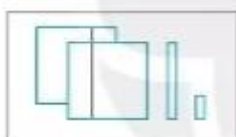
$237 > 233$



$328 < 338$

$338 > 328$

$328 < 338$



$213 > 134$

$134 < 213$

$213 > 134$



hoạt động

KẾT NỐI TRI THỨC
VỚI CUỘC SỐNG

1 Đ, S ?



2 $>$; $<$; $=$?

215 ? 218 587 ? 507
392 ? 239 258 ? 258
767 ? 777 858 ? 585



3 Cho biết số đo chiều cao của bốn con vật như sau:

- Đà điểu: 213 cm;
- Hươu cao cổ: 579 cm;
- Voi: 396 cm;
- Gấu nâu: 274 cm.



- a) Trong các con vật đó, con vật nào cao nhất, con vật nào thấp nhất?
b) Nêu tên các con vật theo thứ tự từ thấp nhất đến cao nhất.

4 Từ ba tấm thẻ ghi các số 2, 3 và 5, mỗi bạn đã tạo ra một số có ba chữ số rồi viết ra giấy (như hình vẽ).



- a) Trong bốn số đó, số nào lớn nhất, số nào bé nhất?
b) Em có thể tạo được một số lớn hơn bốn số đó hay không?



1 $>$; $<$; $=$?

314 ? 502 365 ? 366
537 ? 399 718 ? 718
635 ? 635 212 ? 121



- 2 Ở một trung tâm chăm sóc mèo, mỗi chú mèo được đeo một thẻ số như dưới đây:



Chú mèo nào đeo số bé nhất? Chú mèo nào đeo số lớn nhất?

- 3 Vẽ 4 điểm rồi ghi các số (như hình vẽ). Nói các điểm đó theo thứ tự các số từ bé đến lớn.

657 •

• 765

567 •

• 756

- 4 Mỗi bạn Nam, Việt và Mai chọn một cửa thần kì đến các hành tinh khác nhau. Biết Việt chọn cửa ghi số lớn nhất, Nam chọn cửa ghi số bé nhất. Hỏi mỗi bạn sẽ đến hành tinh nào?

