



1 Số ?

Hai trăm ba mươi một

Bảy trăm chín mươi tư

Sáu trăm linh một

Tám trăm năm mươi lăm

?

?

?

231



2 Đ, S ?

Ảnh thẻ của mỗi bạn đã che một số trên tia số dưới đây:



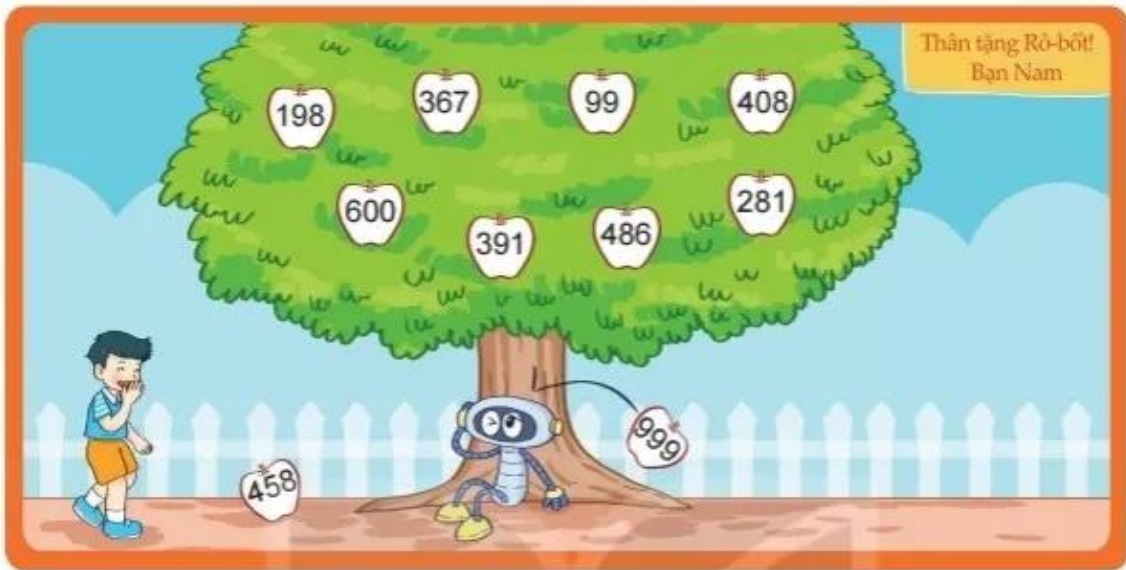
Trong các số đã che đi:

- a) Ảnh thẻ của Nam che số lớn nhất.
- b) Ảnh thẻ của Rô-bốt che số lớn nhất.
- c) Ảnh thẻ của Việt che số 360.
- d) Ảnh thẻ của Mai che số 362.

- 3 a) Số liền trước của số 680 là số nào?
- b) Số liền sau của số 999 là số nào?
- c) Số 599 là số liền trước của số nào?
- d) Số 800 là số liền sau của số nào?






4 Rô-bốt được Nam tặng một bức tranh như sau:



Rô-bốt muốn tô màu đỏ cho những quả táo ghi số lớn hơn 365 và tô màu xanh cho những quả táo ghi số bé hơn 365. Hỏi:

- Có bao nhiêu quả táo sẽ được tô màu đỏ?
- Có bao nhiêu quả táo sẽ được tô màu xanh?

5 >, <, = ?



 **luyện tập**

1 Số ?

 $363 = 300 + ? + ?$

 $408 = ? + 8$

 $830 = 800 + ?$

 $308 = 300 + ?$

 $239 = 200 + ? + 9$

2 >, <, = ?

 248	>	 159		 158	?	 153
 257	?	 338		 989	?	 $900 + 80 + 9$

3 Viết cần xếp thẻ số nào vào dấu "?" để nhận được so sánh đúng? Viết có thể xếp bao nhiêu cách khác nhau?

$2 \quad 6 \quad 3 < 2 \quad ? \quad 3$



4 Số ?



5 Mai về nhà mình bằng cách đi theo con đường ghi số lớn hơn tại mỗi ngã rẽ. Tìm nhà của Mai.

