



1 Số ?

a)  $3 \text{ dm} = ? \text{ cm}$

$6 \text{ dm} = ? \text{ cm}$

$3 \text{ m} = ? \text{ dm}$

$6 \text{ m} = ? \text{ dm}$

$3 \text{ m} = ? \text{ cm}$

$6 \text{ m} = ? \text{ cm}$

b)  $100 \text{ cm} = 1 \text{ m}$

$200 \text{ cm} = ? \text{ m}$

$500 \text{ cm} = ? \text{ m}$

$10 \text{ dm} = 1 \text{ m}$

$20 \text{ dm} = ? \text{ m}$

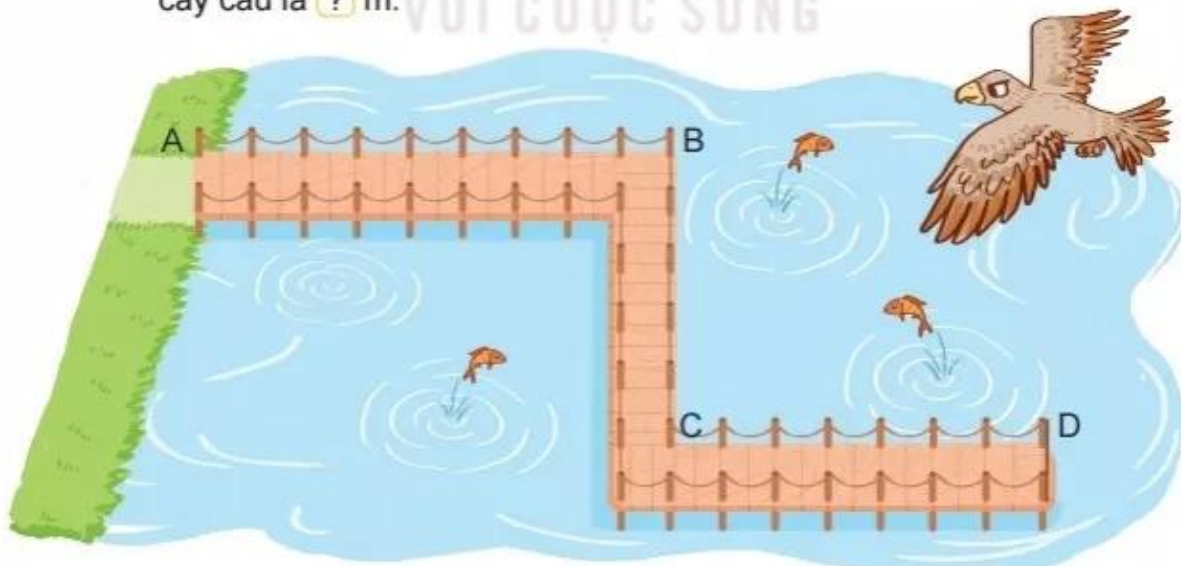
$50 \text{ dm} = ? \text{ m}$

2 Số ?

Người ta làm một cây cầu gỗ trên hồ nước và đóng các cọc làm thành cầu (như hình vẽ). Hai cọc cạnh nhau cách nhau đúng 1 m.

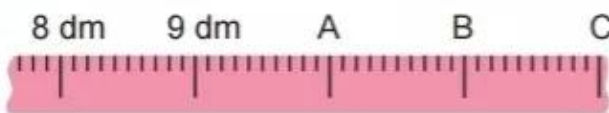
a) Chiều dài đoạn AB là ? m.

b) Độ dài cây cầu được tính bằng độ dài đường gấp khúc ABCD. Độ dài cây cầu là ? m.



**3** Số ?

Mỗi vạch A, B, C trên thước chỉ số đo nào?



Vạch A chỉ số đo: ? dm

Vạch B chỉ số đo: ? dm

Vạch C chỉ số đo: ? dm

**4** Mi và Mai đi tham quan cùng bố mẹ. Điểm tham quan cách nhà 50 km. Đến trạm dừng nghỉ, bố cho biết ô tô đã đi được 25 km. Hỏi từ trạm dừng nghỉ còn cách điểm đến bao nhiêu ki-lô-mét?



 **luyện tập**

**1** Số ?

a) 7 dm = ? cm

8 m = ? dm

9 m = ? cm

60 cm = ? dm

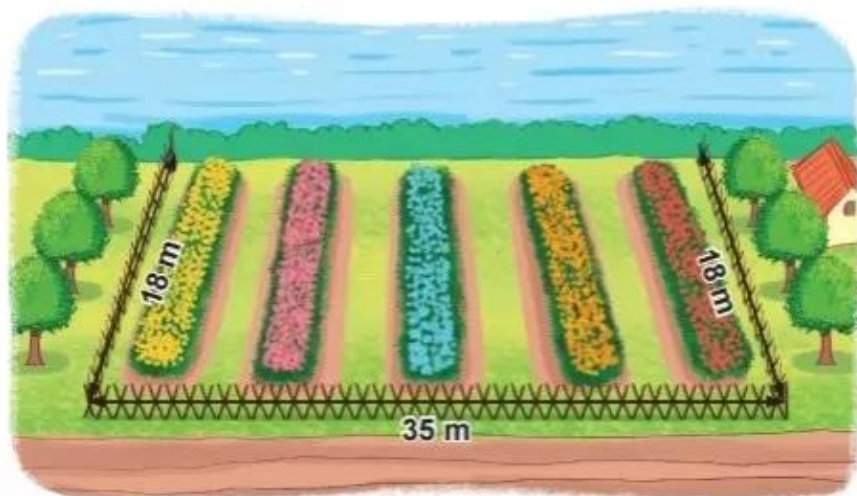
600 cm = ? m

50 dm = ? m

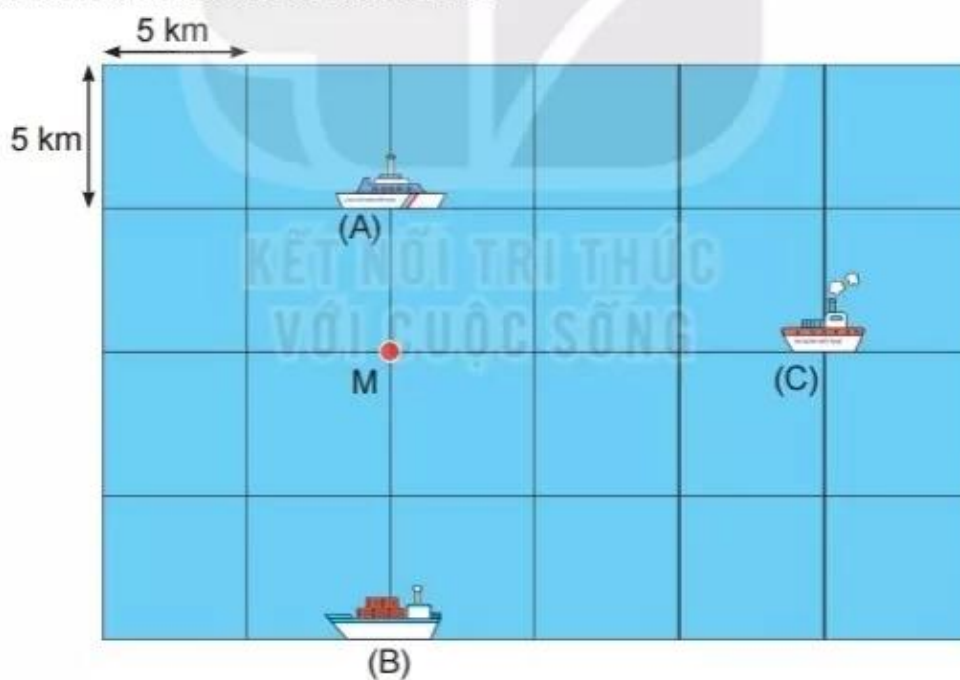
b) 1 km = ? m

1 000 m = ? km

2 Vườn hoa dưới đây đã được làm bao nhiêu mét hàng rào?



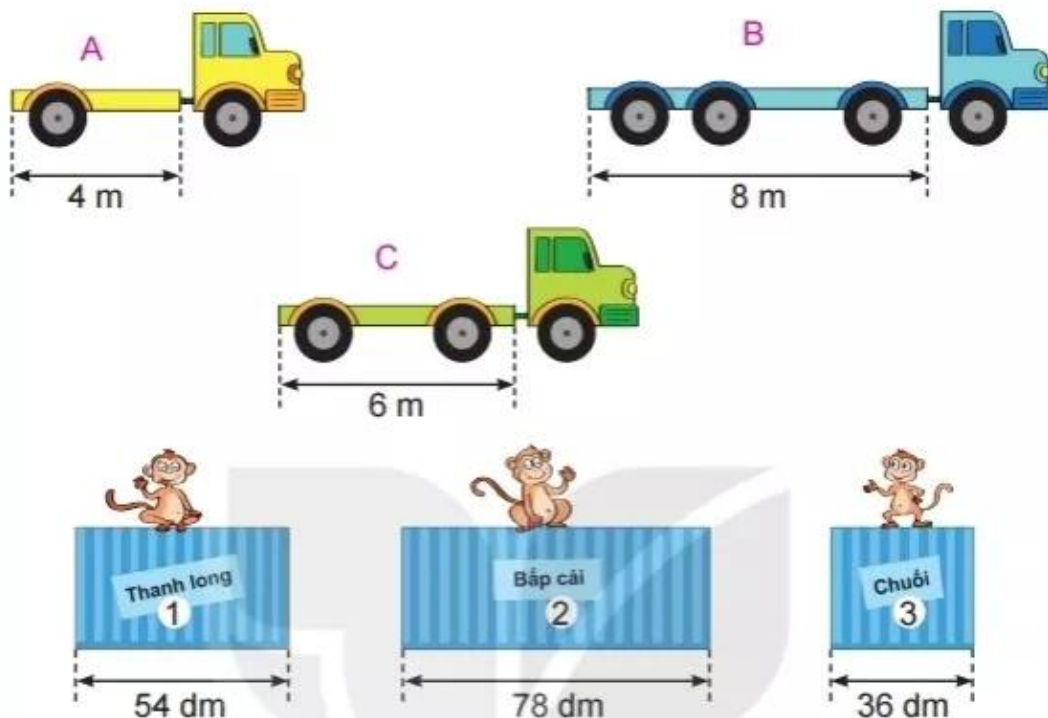
3 Một chú chim hải âu có thể nhìn thấy vật cách mình đến 10 km.  
Quan sát hình vẽ rồi trả lời câu hỏi.



Chú chim hải âu đang ở vị trí M thì:

- Có thể nhìn thấy tàu A hay không?
- Có thể nhìn thấy tàu B hay không?
- Có thể nhìn thấy tàu C hay không?

- 4 Bác Lâm cần xếp lên mỗi xe một thùng hàng. Em hãy giúp bác Lâm xếp cho hợp lí.



- 5 Số ?

### KẾT NỐI TRI THỨC

Một đoàn tàu dài 99 m đang đi qua một cây cầu sắt AB dài 54 m. Khi đầu tàu vừa đến điểm A (như hình vẽ) thì điểm C ở đuôi tàu còn cách điểm B ? m.

