

Bài 62

PHÉP TRỪ (có nhớ) TRONG PHẠM VI 1 000



Minh có 386
dây thun (chun).

Minh có ít hơn Việt
139 dây thun.

Nam ơi,
cậu có bao nhiêu
dây thun?



$$386 - 139 = ?$$

Trăm	Chục	Đơn vị
□	□□□□□□□□	□□□□□□□□□□
□	□□□□□□□□	□□□□□□□□□□

- 6 không trừ được 9, lấy 16 trừ 9 bằng 7, viết 7 nhớ 1.
- 8 trừ 1 bằng 7, 7 trừ 3 bằng 4, viết 4.
- 3 trừ 1 bằng 2, viết 2.

$$386 - 139 = 247$$

Trăm	Chục	Đơn vị
□	□□□□□□□□	□□□□□□□□□□
□	□□□□□□□□	□□□□□□□□□□
□	□□□□□□□□	□□□□□□□□□□

hoạt động

1 Tính.

$$\begin{array}{r} 241 \\ - 138 \\ \hline \end{array}$$

$$\begin{array}{r} 424 \\ - 207 \\ \hline \end{array}$$

$$\begin{array}{r} 623 \\ - 617 \\ \hline \end{array}$$

$$\begin{array}{r} 562 \\ - 338 \\ \hline \end{array}$$

2 Đặt tính rồi tính.

$362 - 36$

$485 - 128$

$651 - 635$

$780 - 68$

3 Trong vườn ươm có 456 cây giống. Người ta lấy đi 148 cây giống để trồng rừng. Hỏi trong vườn ươm còn lại bao nhiêu cây giống?



luyện tập

1 Tính (theo mẫu).

a)
$$\begin{array}{r} 427 \\ - 251 \\ \hline \end{array}$$

b)
$$\begin{array}{r} 608 \\ - 315 \\ \hline \end{array}$$

Mẫu: • 7 trừ 5 bằng 2, viết 2.

$$\begin{array}{r} 457 \\ - 285 \\ \hline 172 \end{array}$$


• 5 không trừ được 8, lấy 15 trừ 8 bằng 7, viết 7 nhớ 1.

• 4 trừ 1 bằng 3, 3 trừ 2 bằng 1, viết 1.

2 Số ?

Số bị trừ	482	354	772	530
Số trừ	135	190	391	60
Hiệu	347	?	?	?

3 Tìm địa chỉ cho mỗi bức thư.

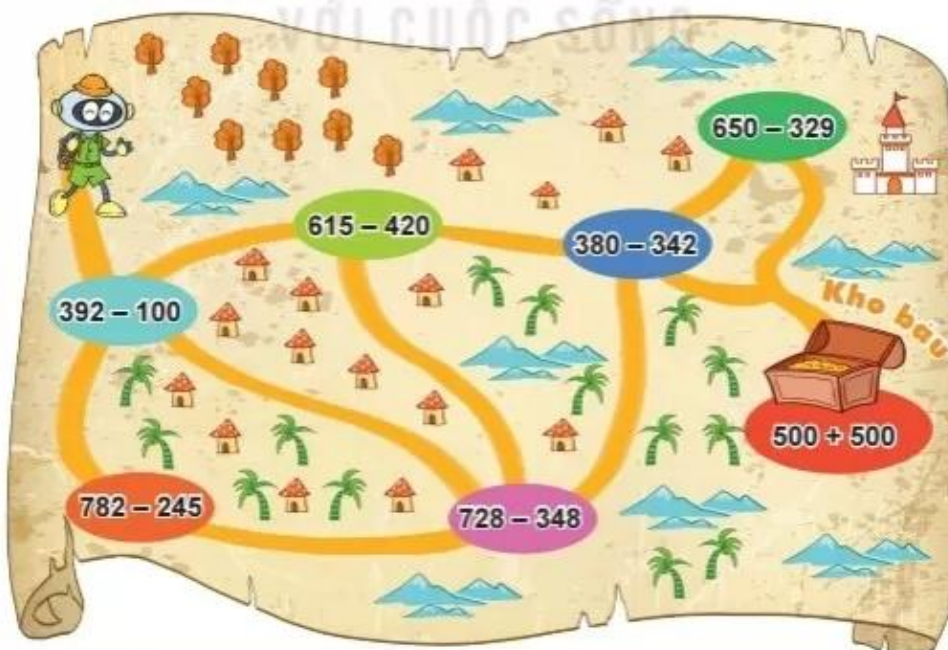


4 Đầu năm, một công ty có 205 người đang làm việc. Đến cuối năm, công ty có 12 người nghỉ việc. Hỏi cuối năm, công ty đó còn lại bao nhiêu người đang làm việc?

5 Trong tám bản đồ, Rô-bốt đi qua các phép tính có kết quả theo thứ tự như sau:

$$292 \rightarrow 537 \rightarrow 380 \rightarrow 38 \rightarrow 1\ 000$$

Tìm đường Rô-bốt đã đi. Rô-bốt có đến được kho báu không?





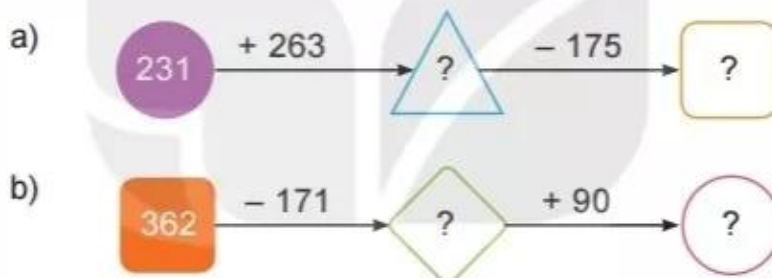
Luyện tập

1 Tính (theo mẫu).

Mẫu: $800 + 200 = 1\ 000$
 $1\ 000 - 200 = 800$
 $1\ 000 - 800 = 200$

- a) $300 + 700$ b) $400 + 600$
 $1\ 000 - 300$ $1\ 000 - 400$
 $1\ 000 - 700$ $1\ 000 - 600$

2 Số ?



- 3 Kết thúc Đại hội Thể thao Đông Nam Á lần thứ 30, Đoàn Thể thao Việt Nam giành được 288 huy chương gồm Vàng, Bạc và Đồng. Trong đó có 190 huy chương Bạc và Đồng. Hỏi Đoàn Thể thao Việt Nam giành được bao nhiêu huy chương Vàng?



- 4 Số ghi ở sau mỗi chiếc áo là kết quả của một phép tính. Biết rằng áo màu đỏ ghi số lớn nhất, áo màu vàng ghi số bé nhất. Tìm số ghi ở sau mỗi chiếc áo.

$231 - 125$

$425 - 330$

$526 - 400$



- 5 Em hãy giúp Rô-bốt tìm phép tính sai trong bức tranh rồi sửa lại cho đúng nhé!



luyện tập

- 1 Trong bức tranh, Việt vô ý xoá mất kết quả của các phép tính. Hãy giúp Mai tìm lại kết quả của các phép tính trên bảng.



- 2 Tìm chữ số thích hợp.

$$\begin{array}{r} 552 \\ - \boxed{?}08 \\ \hline 34\boxed{?} \end{array}$$

$$\begin{array}{r} 729 \\ - \boxed{?}61 \\ \hline 56\boxed{?} \end{array}$$

$$\begin{array}{r} 626 \\ - \boxed{?}19 \\ \hline 3\boxed{?}7 \end{array}$$

$$\begin{array}{r} 754 \\ - \boxed{?}63 \\ \hline 1\boxed{?}1 \end{array}$$

3 Kết quả của mỗi phép tính tương ứng với một chữ cái như sau:

$521 - 140$	$145 - 38$	$1\ 000 - 600$	$231 + 427$
H	N	G	R

Tính kết quả của mỗi phép tính rồi tìm chữ cái tương ứng với kết quả đó để giải ô chữ trong bảng sau:

	658		107	400		381			
T	?	U	?	?	T	?	Ự	C	

4 Tìm cây nấm cho mỗi bạn nhím.



5 Biết độ cao của một số núi ở Việt Nam như sau:

Tên núi	Độ cao
Núi Bà Đen (Tây Ninh)	986 m
Núi Cấm (An Giang)	705 m
Núi Ngự Bình (Thừa Thiên – Huế)	107 m
Núi Sơn Trà (Đà Nẵng)	696 m

- Trong các núi đó, núi nào cao nhất, núi nào thấp nhất?
- Núi Bà Đen cao hơn núi Cấm bao nhiêu mét?
- Núi Ngự Bình thấp hơn núi Sơn Trà bao nhiêu mét?