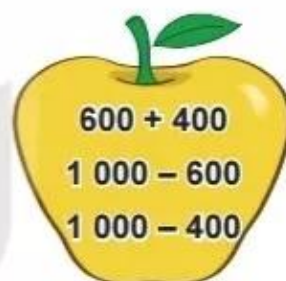


**Bài 70****ÔN TẬP PHÉP CỘNG, PHÉP TRỪ  
TRONG PHẠM VI 1 000****luyện tập****1** Tính nhẩm.**2** Đặt tính rồi tính.

a)  $435 + 352$

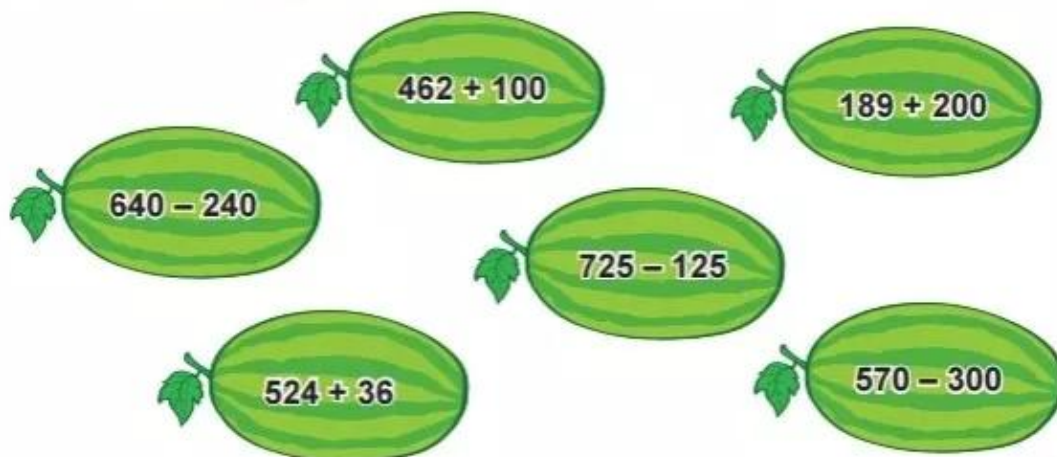
$236 + 528$

$354 + 63$

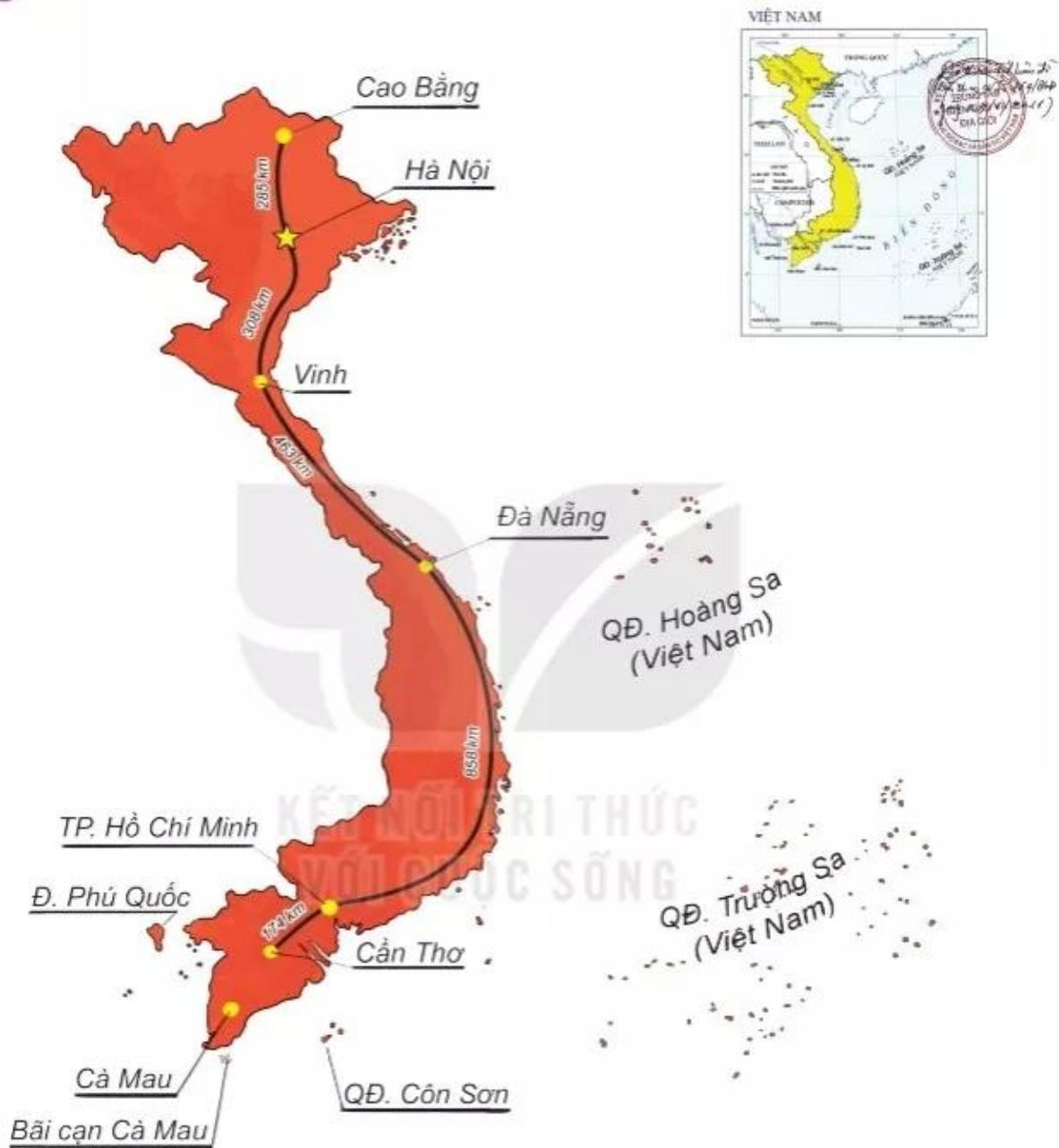
b)  $569 - 426$

$753 - 236$

$880 - 54$

**3** Trong các phép tính dưới đây, những phép tính nào có kết quả bé hơn 400, những phép tính nào có kết quả lớn hơn 560?

4 Quan sát một số tuyến đường bộ trong hình vẽ.




- Cao Bằng và Vinh, nơi nào xa Hà Nội hơn?
- Quãng đường Hà Nội – Đà Nẵng (qua Vinh) dài bao nhiêu ki-lô-mét?
- Quãng đường Đà Nẵng – Thành phố Hồ Chí Minh dài hơn quãng đường Thành phố Hồ Chí Minh – Cần Thơ bao nhiêu ki-lô-mét?

 **luyện tập**

**1** Đ, S ?

 
$$\begin{array}{r} 435 \\ + 58 \\ \hline 493 \end{array} ?$$

 
$$\begin{array}{r} 547 \\ - 39 \\ \hline 157 \end{array} ?$$

 
$$\begin{array}{r} 358 \\ + 214 \\ \hline 562 \end{array} ?$$

 
$$\begin{array}{r} 629 \\ - 258 \\ \hline 371 \end{array} ?$$

**2** Đặt tính rồi tính.

a)  $536 + 8$                        $67 + 829$                        $432 + 284$

b)  $253 - 7$                        $561 - 42$                        $795 - 638$

**3** Số ?

a)   $- 272$     $+ 85$   

b)   $+ 400$     $- 25$   

**4** Tính.

a)  $216 + 65 - 81$

b)  $749 - 562 + 50$



- 5 Hưởng ứng phong trào phủ xanh đồi trọc, Trường Lê Lợi trồng được 264 cây, Trường Nguyễn Trãi trồng được 229 cây. Hỏi cả hai trường trồng được bao nhiêu cây?



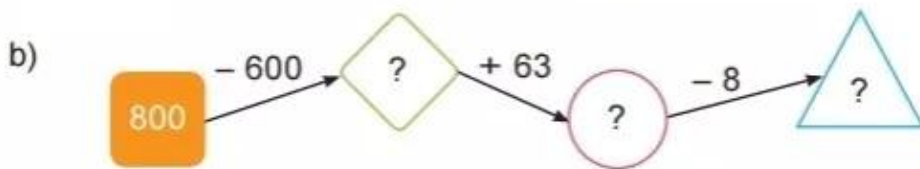
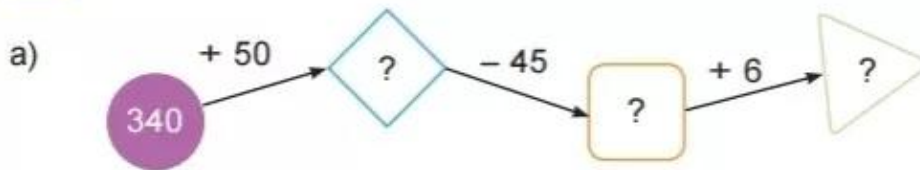
VỚI CUỘC SỐNG



### Luyện tập

- 1 Chọn câu trả lời đúng.
- a) Hiệu của 783 và 745 là:  
A. 38            B. 83            C. 48
- b) Tổng của 564 và 82 là:  
A. 646            B. 546            C. 482
- c) Kết quả tính  $347 + 30 - 96$  là:  
A. 377            B. 218            C. 281

**2** Số ?



**3** Giải bài toán theo tóm tắt sau:



Tóm tắt  
 Mai cao : 119 cm  
 Mi cao : 98 cm  
 Mai cao hơn Mi : ... cm?

**4** Tìm chữ số thích hợp.

a)

$$\begin{array}{r} 328 \\ + \quad ?5 \\ \hline 35? \end{array}$$

b)

$$\begin{array}{r} 751 \\ - \quad ?7 \\ \hline 72? \end{array}$$

c)

$$\begin{array}{r} 548 \\ - \quad ?6? \\ \hline 1?4 \end{array}$$

**5** Tìm hiệu của số lớn nhất có ba chữ số khác nhau và số bé nhất có ba chữ số.